

# ST-2050 RRB CLERK (MAINS) 2020

Passage for Question 1, 2, 3, 4, 5 (ST-2047RRBPOMAINS(36-40R)2020)

eng Passage

Study the following information carefully and answer the questions below.

Ten friends G, H, I, J, K, L, M, N, O, P are ranked 1 to 10 (Top to Bottom) in a class test but not necessarily in the same order. They all like different fruits viz. Papaya, Strawberry, Litchi, Mango, Cherry, Watermelon, Guava, Apple, Banana and Grapes but not necessarily in the same order. The one who likes Mango stood 1st. I scores even-numbered rank and likes Grapes. I is three ranks above the one who likes Apple. There is a gap of five ranks between I and the one who likes Watermelon. The Sum of N and J rank is equal to M's rank. L stood 10th and he does not like Watermelon. N has four ranks less than P and P likes Papaya. J is not ranked 3rd and does not like Watermelon. Y likes Litchi and is even-numbered rank. One who likes Banana is ranked lower than the one who likes Apple. One who likes Grapes is five ranks higher than the one who likes Guava. O does not like Cherry. O is four ranks above K and does not like Apple.

hi Passage

निम्नलिखित जानकारी का ध्यानपूर्वक अध्ययन करें और नीचे दिए गए प्रश्नों के उत्तर दें।

दस मित्र G, H, I, J, K, L, M, N, O, P एक कक्षा परीक्षण में 1 से 10 वें (ऊपर से नीचे) स्थान पर हैं लेकिन जरूरी नहीं कि इसी क्रम में हों। वे सभी विभिन्न फलों- पीता, स्ट्रॉबेरी, लीची, आम, चेरी, तरबूज, अमरूद, सेब, केला और अंगूर को पसंद करते हैं लेकिन जरूरी नहीं कि इसी ही क्रम में हो। मैं गो पसंद करने वाला पहले स्थान पर था। I सम संख्या वाली रैंक प्राप्त करता है और अंगूर पसंद करता है। I सेब पसंद करने वाले से तीन रैंक ऊपर है। I और तरबूज पसंद करने वाले के बीच पाँच रैंक का अंतर है। N और J की रैंक का योग M की रैंक के बराबर है। L, 10 वें स्थान पर है और उसे तरबूज पसंद नहीं है। N, P से चार रैंक कम है और P को पपीता पसंद है। J को तीसरा स्थान नहीं दिया गया है और वह तरबूज पसंद नहीं करता है। Y लीची पसंद करता है और उसकी सम संख्या वाली रैंक है। केला पसंद करने वाले की रैंक सेब पसंद करने वाले की रैंक से कम है। वह जो अंगूर पसंद करता है, वह अमरूद पसंद करने वाले की तुलना में पाँच रैंक अधिक है। O को चेरी पसंद नहीं है। O, K से चार रैंक ऊपर है और सेब को पसंद नहीं करता है।

Q-1 How many persons are ranked between P and Y?

eng

- |          |           |
|----------|-----------|
| 01. None | 02. One   |
| 03. Two  | 04. Three |
| 05. Four |           |

Q-1 P और Y के बीच कितने व्यक्ति को रैंक दी गई हैं?

hi

- |              |         |
|--------------|---------|
| 01. कोई नहीं | 02. एक  |
| 03. दो       | 04. तीन |
| 05. चार      |         |

Solution for Question 1

Ans Key: 2

eng

1	J	Mango
2	I	Grapes
3	O	Strawberry
4	P	Papaya
5	G	Apple
6	Y	Litchi
7	K	Guava
8	N	Watermelon
9	M	Banana/Cherry
10	L	Banana/Cherry

hi

1	J	आम
2	I	अंगूर
3	O	स्ट्रॉबेरी

4	P	पपीता
5	G	सेब
6	Y	लीची
7	K	अमरूद
8	N	तरबूज
9	M	केला / चेरी
10	L	केला / चेरी

**Q-2** If all the persons are arranged in alphabetical order from rank 1 to rank 10, position of how many persons remains unchanged?

eng

01. None  
02. One  
03. Two  
04. Three  
05. Four

**Q-2** यदि सभी व्यक्तियों को रैंक 1 से रैंक 10 तक वर्णमाला क्रम में व्यवस्थित किया जाता है, तो कितने व्यक्ति अपरिवर्तित रहते हैं?

hi

01. कोई नहीं  
02. एक  
03. दो  
04. तीन  
05. चार

**Solution for Question 2**

Ans Key: 2

eng

1	J	Mango
2	I	Grapes
3	O	Strawberry
4	P	Papaya
5	G	Apple
6	Y	Litchi
7	K	Guava
8	N	Watermelon
9	M	Banana/Cherry
10	L	Banana/Cherry

hi

1	J	आम
2	I	अंगूर
3	O	स्ट्रॉबेरी
4	P	पपीता
5	G	सेब
6	Y	लीची
7	K	अमरूद
8	N	तरबूज
9	M	केला / चेरी
10	L	केला / चेरी

**Q-3** N likes which of the following fruits?

eng

01. Watermelon

02. Grapes
03. Cherry

04. Apple
05. Mango

Q-3 N को निम्न में से कौन-सा फल पसंद है?

hi

01. तरबूज

02. अंगूर
03. चेरी

04. सेब
05. आम

Solution for Question 3 Ans Key: 1

eng	1	J	Mango
	2	I	Grapes
	3	O	Strawberry
	4	P	Papaya
	5	G	Apple
	6	Y	Litchi
	7	K	Guava
	8	N	Watermelon
	9	M	Banana/Cherry
	10	L	Banana/Cherry

hi	1	J	आम
	2	I	अंगूर
	3	O	स्ट्रॉबेरी
	4	P	पपीता
	5	G	सेब
	6	Y	लीची
	7	K	अमरुद
	8	N	तरबूज
	9	M	केला / चेरी
	10	L	केला / चेरी

Q-4 Who among the following likes Strawberry?

eng

01. I

02. G
03. P

04. O
05. M

Q-4 निम्नलिखित में से किसे स्ट्रॉबेरी पसंद है?

hi

01. I

02. G
03. P

04. O
05. M

Solution for Question 4 Ans Key: 4

eng	1	J	Mango
	2	I	Grapes



1	J	आम
2	I	अंगूर
3	O	स्ट्रॉबेरी
4	P	पपीता
5	G	सेब
6	Y	लीची
7	K	अमरुद
8	N	तरबूज
9	M	केला / चेरी
10	L	केला / चेरी

#### Passage for Question 6, 7, 8, 9, 10 (ST-2020 SBI CLERK (MAINS) 2018 (R) 1-5)

eng Passage

Read the following informations carefully and answer the questions given below-

Eight persons JP, YY, VK, RP, PK, SS, AK and SP live on 8 different floors in a building the Ground floor is numbered 1, the first floor is numbered 2 and so on until the topmost floor is numbered 8.

They are like different Professions i.e., Teacher, Engineer, Lawyer, Physician, Accountant, Consultant, Surgeon and Programmer but not necessarily in the same order.

There are four floors between PK's floor and JP's floor. PK lives on an odd numbered floor. JP likes Surgeon. There are two floors between YY's and PK's floor. The one who likes Accountant lives on immediate above the floor on which JP lives. VK lives immediately above AK. The one who likes Teacher lives on floor number one. There is no floor between YY's floor and SP's floor. RP does not live immediate above or below to PK's floor. Only one person lives between the persons who like Surgeon and Programmer. The one who likes Engineer lives immediately above the floor on which the person who likes Accountant. SP likes Physician but does not live below to YY. SS likes Consultant.

hi Passage

निम्न सूचनाओं को ध्यानपूर्वक पढ़िए और नीचे दिये गये प्रश्नों के उत्तर दे-

आठ व्यक्तियों JP, YY, VK, RP, PK, SS, AK और SP एक इमारत में 8 अलग-अलग मंजिल पर रहते हैं। भूतल संख्या 1 है, इसके ऊपर की मंजिल की संख्या 2 है और आगे इसी प्रकार सबसे ऊपर की मंजिल की संख्या 8 है।

वे अलग-अलग पेशे पसंद करते हैं, जैसे शिक्षक, अभियंता, वकील, चिकित्सक, लेखाकार, परामर्शदाता, सर्जन और प्रोग्रामर, लेकिन जरूरी नहीं कि इसी क्रम में हो।

PK की मंजिल और JP की मंजिल के बीच चार मंजिल हैं। PK एक एक विषम संख्या वाली मंजिल पर रहता है। JP सर्जन पसंद करता है। YY और PK की मंजिल के बीच दो मंजिल हैं। जो लेखाकार को पसंद करता है, वह उस मंजिल के तत्काल ऊपर रहता है जिस पर JP रहता है। VK, AK के तत्काल ऊपर वाली मंजिल पर रहता है। वह जो शिक्षक को पसंद करता है वह पहली मंजिल पर रहता है। YY की मंजिल और SP की मंजिल के बीच कोई मंजिल नहीं है। RP, PK की मंजिल के तत्काल ऊपर या नीचे नहीं रहता है। सर्जन और प्रोग्रामर पसंद करने वाले के बीच केवल एक व्यक्ति रहता है। एक वह जो अभियंता को पसंद करता है, वह उस मंजिल के तुरंत ऊपर रहता है, जिसे लेखाकार पसंद करता है। SP चिकित्सक पसंद करता है लेकिन YY के नीचे नहीं रहता है। SS सलाहकार पसंद करता है।

Q-6 On which floor SP lives?

eng

- |             |            |
|-------------|------------|
| 01. Third   | 02. Fourth |
| 03. Fifth   | 04. Sixth  |
| 05. Seventh |            |

Q-6 किस मंजिल पर SP रहता है?

hi

- |             |          |
|-------------|----------|
| 01. तीसरा   | 02. चौथा |
| 03. पांचवां | 04. छठा  |
| 05. सातवां  |          |

#### Solution for Question 6

Ans Key: 3

eng

+		
8	VK	ENGINEER
7	AK	ACCOUNTANT

6	JP	SURGEON
5	SP	PHYSICIAN
4	YY	PROGRAMMER
3	RP	LOWYER
2	SS	CONSULTANT
1	PK	TEACHER

- 8 VK अभियंता  
7 AK लेखाकार  
6 JP सर्जन  
5 SP चिकित्सक  
4 YY प्रोग्रामर  
3 RP वकील  
2 SS परामर्शदाता  
1 PK शिक्षक/अध्यापक

Q-7  
eng

How many floors are below the floor on which AK lives?

01. Three  
02. Four  
03. Five  
04. Six  
05. Seven

Q-7  
hi

उस मंजिल के नीचे कितने मंजिल हैं जिन पर AK रहता है?

01. तीन  
02. चार  
03. पांच  
04. छः  
05. सात

Solution for Question 7

Ans Key: 4

eng

8	VK	ENGINEER
7	AK	ACCOUNTANT
6	JP	SURGEON
5	SP	PHYSICIAN
4	YY	PROGRAMMER
3	RP	LOWYER
2	SS	CONSULTANT
1	PK	TEACHER

hi

- 8 VK अभियंता  
7 AK लेखाकार  
6 JP सर्जन  
5 SP चिकित्सक  
4 YY प्रोग्रामर



eng	+	8	VK	ENGINEER	
		7	AK	ACCOUNTANT	
		6	JP	SURGEON	
		5	SP	PHYSICIAN	
		4	YY	PROGRAMMER	
		3	RP	LOWYER	
		2	SS	CONSULTANT	
		1	PK	TEACHER	

hi	8	VK	अभियंता
	7	AK	लेखाकार
	6	JP	सर्जन
	5	SP	चिकित्सक
	4	YY	प्रोग्रामर
	3	RP	वकील
	2	SS	परामर्शदाता
	1	PK	शिक्षक/अध्यापक

**Q-10** Which of the following is true with respect to YY?

eng

01. likes Lawyer and lives on the 4th floor.      02. YY likes Engineer and lives on the 8th floor  
 03. YY likes Programmer and lives on the 4th floor      04. YY likes Accountant and lives on the 7th floor  
 05. YY likes Teacher and lives on the 8th floor

**Q-10** YY के संबंध में निम्नलिखित में से कौन -सा सत्य है?

hi

01. YY, वकील पसंद करता है और चौथी मंजिल पर रहता है।      02. YY, अभियंता पसंद करता है, और 8 वीं मंजिल पर रहता है।  
 03. YY, प्रोग्रामर पसंद करता है, और चौथी मंजिल पर रहता है।      04. YY, लेखाकार पसंद करता है, और 7 वीं मंजिल पर रहता है।  
 05. YY, शिक्षक को पसंद करता है, और 8 वीं मंजिल पर रहता है।

**Solution for Question 10**

Ans Key: 3

eng	+	8	VK	ENGINEER	
		7	AK	ACCOUNTANT	
		6	JP	SURGEON	
		5	SP	PHYSICIAN	
		4	YY	PROGRAMMER	
		3	RP	LOWYER	



2	SS	CONSULTANT
1	PK	TEACHER

- 8 VK अभियंता  
7 AK लेखाकार  
6 JP सर्जन  
5 SP चिकित्सक  
4 YY प्रोग्रामर  
3 RP वकील  
2 SS परामर्शदाता  
1 PK शिक्षक/अध्यापक

### Passage for Question 11, 12, 13, 14, 15 (ST-2050RRBCLERKMAINS(6-10R)2020)

eng Passage

Study the following information carefully and answer the question given below.

Eight person A, B, C, D, E, F, G and H are sitting around a circular table and facing towards the centre. All the persons are sitting along the circumference of the circle at an equal distance between them. The radius (r) of the circle is 56m and the circumference of the circle is  $2\pi r$ . Each of them likes different movies are Inception, Spiderman, Jolly LLB, Dangal, Avengers, Hulk, Insidious, Mangal Pandey but not necessarily in the same orders. G sits immediate left of H. The one who likes Dangal sits on the immediate right of C. There are only two people sit between the one who likes Spiderman and A. The one who likes Avengers sits 88m away from the right of A. C doesn't like Jolly LLB. The one who likes Insidious sits 88m away from the right B. A doesn't like Inception. The one who likes Inception is neither an immediate neighbour of the one who likes Hulk nor the one who likes Avengers. The one who likes Hulk sits second to the right of F. F sits 88m away from the one who likes Avengers. E sits 176m away from B. E sits second to the left of the one who likes Jolly LLB. C is neither an immediate neighbour of the one who likes Spiderman nor the one who likes Jolly LLB. The one who likes Inception sits 44m away from the one who likes Jolly LLB.

hi Passage

निम्नलिखित जानकारी का ध्यानपूर्वक अध्ययन करें और नीचे दिए गए प्रश्न का उत्तर दें।

आठ व्यक्ति A, B, C, D, E, F, G और H एक गोलाकार मेज के चारों ओर केंद्र की ओर मुख करके बैठे हैं। सभी व्यक्ति एक समान दूरी पर वृत्त की परिधि पर बैठे हैं। वृत्त की त्रिज्या (r) 56 मी है और वृत्त की परिधि  $2\pi r$  है। उनमें से प्रत्येक को अलग-अलग फिल्में जैसे इंसेप्शन, स्पाइडरमैन, जॉली एलएलबी, दंगल, एवेंजर्स, हल्क, इन्सिडियस, मंगल पांडे पसंद हैं लेकिन जरूरी नहीं कि इसी ही क्रम में हों। G, H के तत्काल बाएं बैठा है। वह जो दंगल पसंद करता है, वह C के तत्काल दाएं बैठता है। स्पाइडरमैन पसंद करने वाले और A के बीच केवल दो लोग बैठे हैं। एवेंजर्स पसंद करने वाला व्यक्ति A के दाएं से 88मी दूर बैठा है। C जॉली एलएलबी पसंद नहीं करता है। वह जो इन्सिडियस पसंद करता है वह B के दाएं से 88 मी दूर बैठा है। A इंसेप्शन पसंद नहीं करता है। वह जो इंसेप्शन पसंद करता है, वह न तो हल्क और न ही एवेंजर्स पसंद करने वाले का पड़ोसी है। हल्क पसंद करने वाला व्यक्ति F के दाएं ओर दूसरा बैठा है। F एवेंजर्स पसंद करने वाले से 88 मी दूर बैठा है। E, B से 176 मी दूर बैठा है। E, जॉली एलएलबी पसंद करने वाले व्यक्ति के बाएं ओर दूसरा बैठा है। C न तो स्पाइडरमैन और न ही जॉली एलएलबी पसंद करने वाले का तत्काल पड़ोसी है। इंसेप्शन पसंद करने वाला जॉली एलएलबी पसंद करने वाले से 44 मी दूर बैठा है।

Q-11 Who sits third to the right of the one who likes Hulk?

eng

01. A  
02. B  
03. C  
04. D  
05. E

Q-11 हल्क पसंद करने वाले के दाएं दूसरा कौन बैठा है?

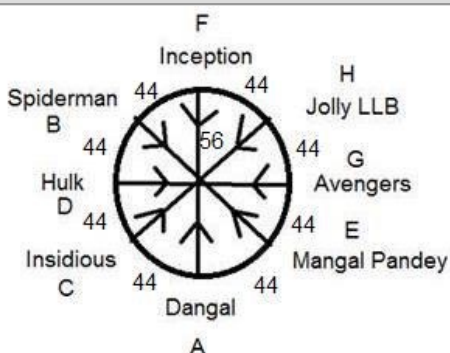
hi

01. A  
02. B  
03. C  
04. D  
05. E

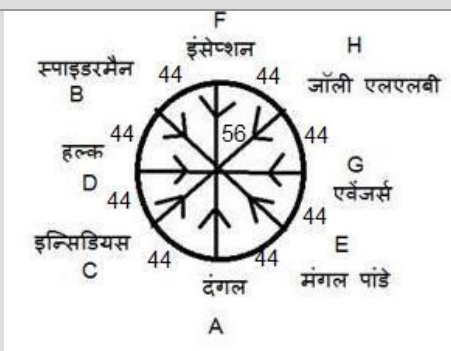
### Solution for Question 11

Ans Key: 1

eng



hi



**Q-12** What is the position of F with respect to the one likes Jolly LLB?

eng

- 01. Immediate right
- 02. Immediate Left
- 03. Second to the left
- 04. Third to the left
- 05. Third to the right

**Q-12** जॉली एलएलबी को पसंद करने वाले के संबंध में F की स्थिति क्या है?

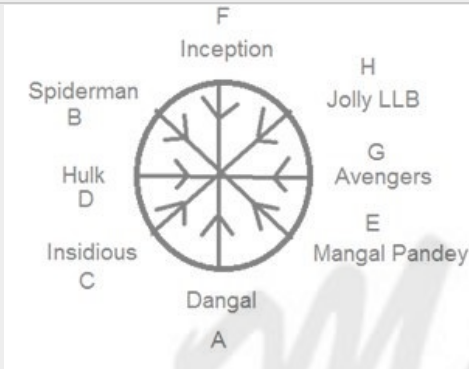
hi

- 01. तत्काल दाईं
- 02. तत्काल बाईं
- 03. बाईं ओर दूसरा
- 04. बाईं ओर तीसरा
- 05. दाईं ओर तीसरा

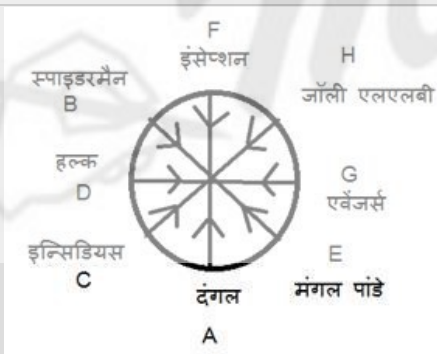
**Solution for Question 12**

Ans Key: 1

eng



hi



**Q-13** How many persons sits between G and the one who likes Spiderman?

eng

- 01. Two
- 02. Three
- 03. Four
- 04. Five
- 05. Cannot be determined

**Q-13** G और स्पाइडरमैन को पसंद करने वाले व्यक्ति के बीच कितने व्यक्ति बैठते हैं?

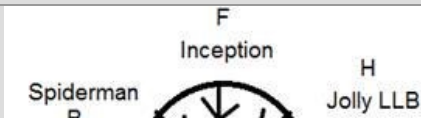
hi

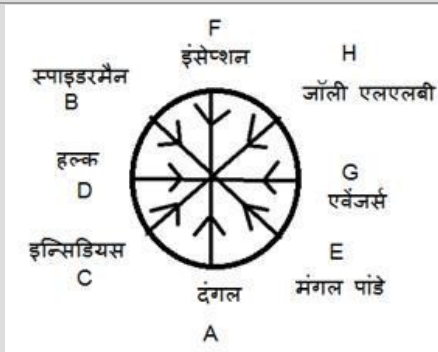
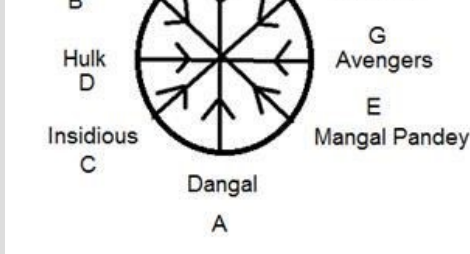
- 01. दो
- 02. तीन
- 03. चार
- 04. पांच
- 05. निर्धारित नहीं किया जा सकता है

**Solution for Question 13**

Ans Key: 5

eng





Q-14 What is the position of A with respect to H?

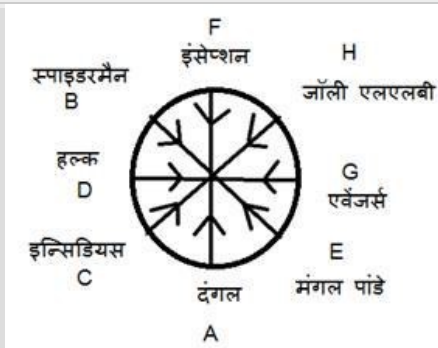
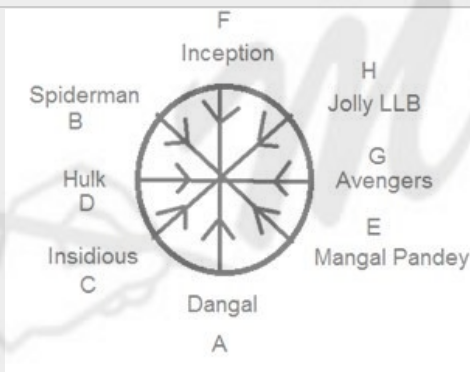
01. Second to the left
02. Third to the right
03. Immediate Right
04. Third to the left
05. Second to the right

Q-14 H के संदर्भ में A की स्थिति क्या है?

01. बाईं ओर दूसरा
02. दाईं ओर तीसरा
03. तत्काल दाईं
04. बाईं ओर तीसरा
05. दाईं ओर दूसरा

Solution for Question 14

Ans Key: 4



Q-15 Four of the following five are alike in a certain way and hence form a group. Which one of the following does not belong to the group?

01. F- Avengers
02. A- Dhangal
03. C- Hulk
04. E – Inception
05. D – Jolly LLB

Q-15 निम्नलिखित पाँच में से चार एक निश्चित तरीके से एक जैसे हैं और इसलिए एक समूह बनाते हैं। निम्नलिखित में से कौन सा समूह से संबंधित नहीं है?

01. F - एवेंजर्स

03. C - हल्क

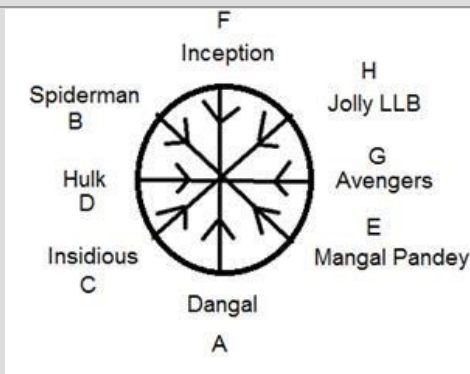
05. D - जॉली एलएलबी

02. A - दंगल

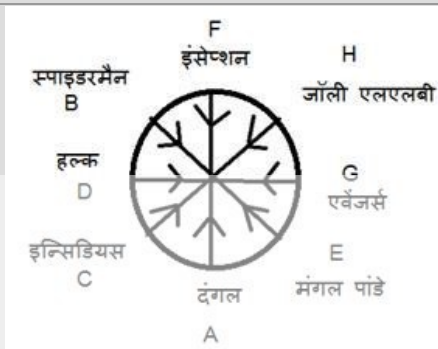
04. E - इंसेप्शन

Ans Key: 2

eng



hi



Q-16

eng

In each question given below, three statements are followed by three conclusions numbered I, II and III. You have to take the given statements to be true even if they seem to be at variance from the commonly known facts. Read the conclusions and decide which logically follows. Give answer -

Statement:

No yellow is purple.

All purple are pink.

Only a few blue are purple.

Conclusion:

I) All pink can be blue.

II) Some purple are pink.

III) Some purple are not blue.

01. All conclusions I, II and III follow

02. Only conclusions I and III follow

03. Only conclusions II and III follow

04. Only conclusion III follows

05. None of these

Q-16

hi

नीचे दिए गए प्रत्येक प्रश्न में, तीन कथन दिए गए हैं जो तीन निष्कर्षों I, II और III द्वारा अनुसरण किये जाते हैं। आपको दिए गए कथनों को सत्य मानना है, भले ही वे सामान्यतः ज्ञात तथ्यों से भिन्न प्रतीत होते हों। निष्कर्ष पढ़ें और तय करें कि कौन-सा तार्किक रूप से अनुसरण करता है। उत्तर दीजिए -

कथन:

कोई पीला बैंगनी नहीं है।

सभी बैंगनी गुलाबी हैं।

केवल कुछ नीले बैंगनी हैं।

निष्कर्ष:

I) सभी गुलाबी नीले हो सकते हैं।

II) कुछ बैंगनी गुलाबी हैं।

III) कुछ बैंगनी नीले नहीं हैं।

01. सभी निष्कर्ष I, II और III अनुसरण करते हैं।

02. केवल निष्कर्ष I और III अनुसरण करते हैं।

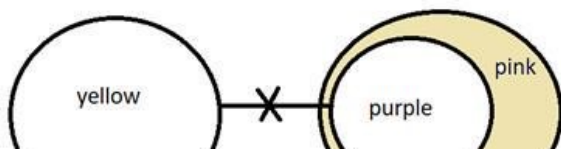
03. केवल निष्कर्ष II और III अनुसरण करते हैं।

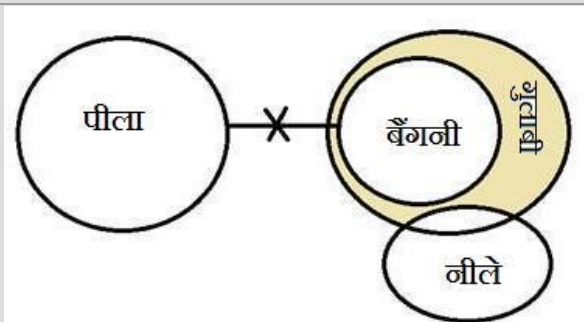
04. केवल निष्कर्ष III अनुसरण करता है।

05. इनमें से कोई नहीं

Ans Key: 5

eng





**Q-17** In each question given below, three statements are followed by three conclusions numbered I, II and III. You have to take the given statements to be true even if they seem to be at variance from the commonly known facts. Read the conclusions and decide which logically follows. Give answer -

**Statement:**

Only few Sony are JBL.

Only Phillips are noise.

All JBL are Phillips.

**Conclusion:**

I) All noise are Phillips.

II) Some noise being Sony is a possibility.

III) Some Sony are Phillips.

01. All conclusions I, II and III follow

02. Only conclusions I and III follow

03. Only conclusions II and III follow

04. Only conclusion III follows

05. None of these

**Q-17** नीचे दिए गए प्रत्येक प्रश्न में, तीन कथन दिए गए हैं जो तीन निष्कर्षों I, II और III द्वारा अनुसरण किये जाते हैं। आपको दिए गए कथनों को सत्य मानना है, भले ही वे सामान्यतः ज्ञात तथ्यों से भिन्न प्रतीत होते हों। निष्कर्ष पढ़ें और तय करें कि कौन-सा तार्किक रूप से अनुसरण करता है। उत्तर दीजिए -

**कथन:**

केवल कुछ ही सोनी जेबीएल हैं।

केवल फिलिप्स शोर हैं।

सभी जेबीएल फिलिप्स हैं।

**निष्कर्ष:**

I) सभी शोर फिलिप्स हैं।

II) कुछ शोर के सोनी होने की संभावना है।

III) कुछ सोनी फिलिप्स हैं।

01. सभी निष्कर्ष I, II और III अनुसरण करते हैं।

02. केवल निष्कर्ष I और III अनुसरण करते हैं।

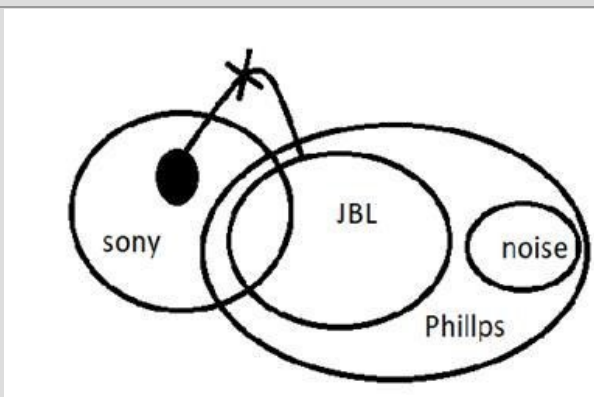
03. केवल निष्कर्ष II और III अनुसरण करते हैं।

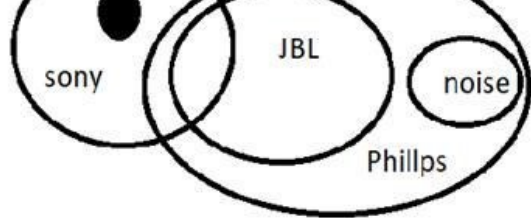
04. केवल निष्कर्ष III अनुसरण करता है।

05. इनमें से कोई नहीं

**Solution for Question 17**

Ans Key: I





Q-18  
eng

In each question given below, three statements are followed by three conclusions numbered I, II and III. You have to take the given statements to be true even if they seem to be at variance from the commonly known facts. Read the conclusions and decide which logically follows. Give answer -

**Statement:**

Some Delta are not Alpha.  
Only a few Alpha are Beta.  
No Beta is Data.

**Conclusion:**

- I) All data can be Alpha.  
II) All Alpha being data is a possibility.  
III) No Beta is Delta.

01. All conclusions I, II and III follow      02. Only conclusions I and III follow  
03. Only conclusions II and III follow      04. Only conclusion III follows  
05. None of these

Q-18  
hi

नीचे दिए गए प्रत्येक प्रश्न में, तीन कथन दिए गए हैं जो तीन निष्कर्षों I, II और III द्वारा अनुसरण किये जाते हैं। आपको दिए गए कथनों को सत्य मानना है, भले ही वे सामान्यतः ज्ञात तथ्यों से भिन्न प्रतीत होते हों। निष्कर्ष पढ़ें और तय करें कि कौन-सा तार्किक रूप से अनुसरण करता है। उत्तर दीजिए -

**कथन:**

कुछ डेल्टा अल्फा नहीं हैं।  
केवल कुछ अल्फा बीटा हैं।  
कोई बीटा डेटा नहीं हैं।

**निष्कर्ष:**

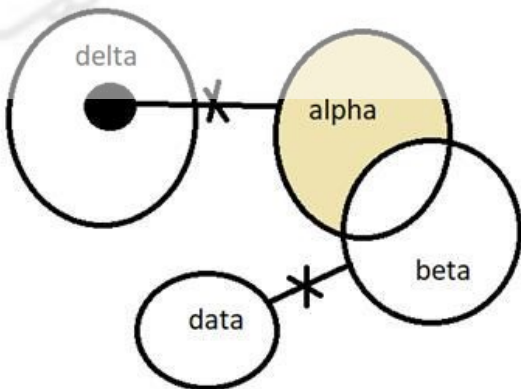
- I) सभी डेटा अल्फा हो सकते हैं।  
II) सभी अल्फा के डेटा होने की एक संभावना है।  
III) कोई बीटा डेल्टा नहीं है।

01. सभी निष्कर्ष I, II और III अनुसरण करते हैं।      02. केवल निष्कर्ष I और III अनुसरण करते हैं।  
03. केवल निष्कर्ष II और III अनुसरण करते हैं।      04. केवल निष्कर्ष III अनुसरण करता है।  
05. इनमें से कोई नहीं

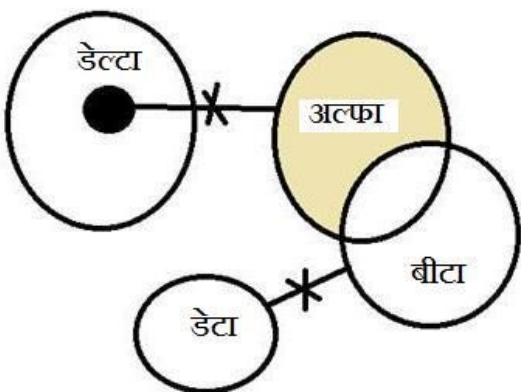
**Solution for Question 18**

Ans Key: 5

eng



hi





Q-19  
eng

In each question given below, three statements are followed by three conclusions numbered I, II and III. You have to take the given statements to be true even if they seem to be at variance from the commonly known facts. Read the conclusions and decide which logically follows. Give answer -

**Statement:**

Few future are past.  
All past are present.  
Only a few past are delay.

**Conclusion:**

- I) Some delay are future.  
II) Some delay not being past is a possibility.  
III) All past can be future.

01. All conclusions I, II and III follow      02. Only conclusions I and III follow  
03. Only conclusions II and III follow      04. Only conclusion III follows  
05. None of these

Q-19  
hi

नीचे दिए गए प्रत्येक प्रश्न में, तीन कथन दिए गए हैं जो तीन निष्कर्षों I, II और III द्वारा अनुसरण किये जाते हैं। आपको दिए गए कथनों को सत्य मानना है, भले ही वे सामान्यतः ज्ञात तथ्यों से भिन्न प्रतीत होते हों। निष्कर्ष पढ़ें और तय करें कि कौन-सा तार्किक रूप से अनुसरण करता है। उत्तर दीजिए -

**कथन:**

कुछ भविष्य अतीत हैं।  
सभी अतीत मौजूद हैं।  
केवल कुछ अतीत देरी हैं।

**निष्कर्ष:**

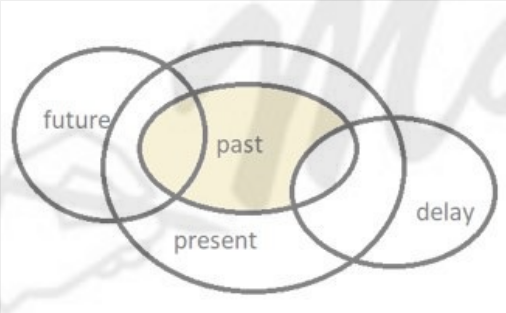
- I) कुछ देरी भविष्य है।  
II) कुछ देरी के अतीत न होने की एक संभावना है।  
III) सभी अतीत भविष्य हो सकते हैं।

01. सभी निष्कर्ष I, II और III अनुसरण करते हैं।      02. केवल निष्कर्ष I और III अनुसरण करते हैं।  
03. केवल निष्कर्ष II और III अनुसरण करते हैं।      04. केवल निष्कर्ष III अनुसरण करता है।  
05. इनमें से कोई नहीं

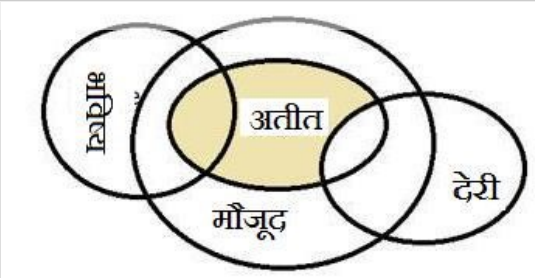
**Solution for Question 19**

Ans Key: 3

eng



hi



Q-20  
eng

In each question given below, three statements are followed by three conclusions numbered I, II and III. You have to take the given statements to be true even if they seem to be at variance from the commonly known facts. Read the conclusions and decide which logically follows. Give answer -

**Statement:**

No Career is good.  
All career are exam.  
Only a few result are exam.

**Conclusion:**

- I) Some exam are not good.  
II) No good is exam.  
III) All good can be exam.

01. All conclusions I, II and III follow

02. Only conclusions I and III follow

03. Only conclusions II and III follow

04. Only conclusion III follows

05. None of these

Q-20

hi

नीचे दिए गए प्रत्येक प्रश्न में, तीन कथन दिए गए हैं जो तीन निष्कर्षों I, II और III द्वारा अनुसरण किये जाते हैं। आपको दिए गए कथनों को सत्य मानना है, भले ही वे सामान्यतः ज्ञात तथ्यों से भिन्न प्रतीत होते हों। निष्कर्ष पढ़ें और तय करें कि कौन-सा तार्किक रूप से अनुसरण करता है। उत्तर दीजिए -

कथन:

कोई करियर अच्छे नहीं है।

सभी करियर परीक्षा है।

केवल कुछ परिणाम परीक्षा हैं।

निष्कर्ष:

I) कुछ परीक्षा अच्छे नहीं हैं।

II) कोई अच्छे परीक्षा नहीं है।

III) सभी अच्छे परीक्षा हो सकती है।

01. सभी निष्कर्ष I, II और III अनुसरण करते हैं।

02. केवल निष्कर्ष I और III अनुसरण करते हैं।

03. केवल निष्कर्ष II और III अनुसरण करते हैं।

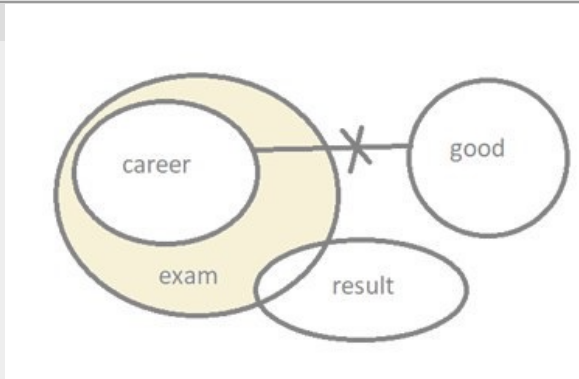
04. केवल निष्कर्ष III अनुसरण करता है।

05. इनमें से कोई नहीं

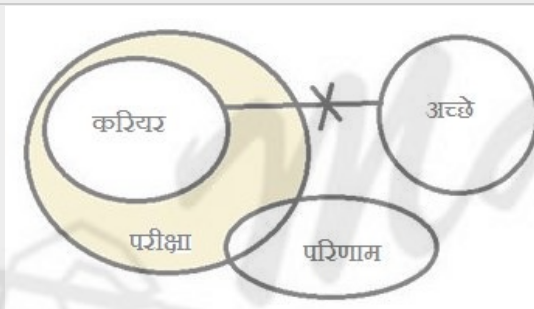
Solution for Question 20

Ans Key: 2

eng



hi



Passage for Question 21, 22, 23, 24, 25 (ST-2050RRBCLERKMAINS(21-25R)2020)

eng Passage

Study the following information carefully and answer the questions below:

Seven persons Kamal, Lucky, Mohan, Naman, Okesh, Parvesh and Qmar are participated in annual day competition on seven different days of a week starting from Monday to Sunday. The competition has different games like Hockey, Volleyball, Carrom, Table Tennis, Badminton, Kho-Kho and Cricket but not in the necessarily order.

Qmar participate one of the days after Naman.

One person will be going to participate between Qmar and the one who will participate in Carrom.

Okesh does not participate in Carrom.

Parvesh neither participated in badminton nor Table tennis.

The one who will participate in Badminton participated before the one who participate in Table-Tennis.

At least two persons participated between the one who participate in Table Tennis and the one who participated in Badminton.

Naman participated on one of the days before the one who participated in Hockey. Two persons participated between Mohan and Qmar.

Neither Mohan nor Qmar like Volleyball.

The number of people who participate between Kamal and the one who participate Hockey is the same as the number of people who participated between Naman and the one who like Kho-Kho.

Only one person will participate between the one who will participate in Volleyball and Kho-Kho.

Three persons were participated between Kamal and Parvesh. Kamal will participate one of the days before Parvesh.

The one who participate in Volleyball participated before the day on which Kamal participate.

hi Passage

निम्नलिखित जानकारी का ध्यानपूर्वक अध्ययन करें और नीचे दिए गए प्रश्नों के उत्तर दें:



सात व्यक्तियों कमल, लकी, मोहन, नमन, ओकेश, परवेश और क्रमर सोमवार से रविवार तक शुरू होने वाले सप्ताह के सात अलग-अलग दिनों में वार्षिक दिवस प्रतियोगिता में भाग लेते हैं। प्रतियोगिता में हॉकी, वॉलीबॉल, कैरम, टेबल टेनिस, बैडमिंटन, खो-खो और क्रिकेट जैसे विभिन्न खेल हैं, लेकिन आवश्यक क्रम में नहीं। नमन के एक दिन बाद कतर भाग लेता है। एक व्यक्ति क्रमर और जो कैरम में भाग लेंगे, के बीच भाग लेने जा रहे हैं। ओकेश कैरम में भाग नहीं लेता है। परवेश ने न तो बैडमिंटन में भाग लिया और न ही टेबल टेनिस में। बैडमिंटन में भाग लेने वाले ने टेबल-टेनिस में भाग लेने वाले से पहले भाग लिया था। टेबल टेनिस में भाग लेने वाले और बैडमिंटन में भाग लेने वाले के बीच कम से कम दो व्यक्तियों ने भाग लिया। नमन ने हॉकी में भाग लेने वाले से एक दिन पहले भाग लिया था। मोहन और क्रमर के बीच दो व्यक्तियों ने भाग लिया। वॉलीबॉल की तरह न तो मोहन और न ही क्रमर। कमल और हॉकी में भाग लेने वालों के बीच की संख्या वही है जो नमन और खो-खो को पसंद करने वालों के बीच भाग लेने वालों की संख्या के बराबर है। वॉलीबॉल और खो-खो में भाग लेने वाले के बीच केवल एक व्यक्ति भाग लेगा। कमल और परवेश के बीच तीन व्यक्तियों ने भाग लिया था। परवेश से एक दिन पहले कमल भाग लेगा। वॉलीबॉल में भाग लेने वाले ने उस दिन से पहले भाग लिया जिस दिन कमल ने भाग लिया।

**Q-21** Who will participate in Table -Tennis?  
**eng**

01. Mohan

02. Kamal
03. Lucky

04. Qmar
05. Naman

**Q-21** टेबल-टैनिस् में कौन भाग लेगा?  
**hi**

01. मोहन

02. कमल
03. लकी

04. क्रमर
05. नमन

**Solution for Question 21** Ans Key: 2

Monday	Naman	Volleyball
Tuesday	Kamal	Table-tennis
Wednesday	Okesh	Kho-kho
Thursaday	mohan	Hockey
Friday	Lucky	Carrrom
Saturday	Parvesh	Cricket
Sunday	Qmar	Badminton

सोमवार	नमन	वॉलीबॉल
मंगलवार	कमल	टेबल टेनिस
बुधवार	ओकेश	खो-खो
गुरुवार	मोहन	हॉकी
शुक्रवार	लकी	कैरम
शनिवार	परवेश	क्रिकेट
रविवार	क्रमर	बैडमिंटन

**Q-22** On which day Mohan will participate in annual day?  
**eng**

01. Friday

02. Saturday
03. Tuesday

04. Thursday
05. Monday

**Q-22** वार्षिक दिवस पर मोहन किस दिन भाग लेंगे?  
**hi**

01. शुक्रवार

02. शनिवार
03. मंगलवार

04. गुरुवार
05. सोमवार

**Solution for Question 22** Ans Key: 4

eng

Monday	Naman	Volleyball
Tuesday	Kamal	Table-tennis
Wednesday	Okesh	Kho-kho
Thursaday	mohan	Hockey
Friday	Lucky	Carrom
Saturday	Parvesh	Cricket
Sunday	Qmar	Badminton

hi

सोमवार	नमन	वॉलीबॉल
मंगलवार	कमल	टेबल टेनिस
बुधवार	ओकेश	खो-खो
गुरुवार	मोहन	हॉकी
शुक्रवार	लकी	कैरम
शनिवार	परवेश	क्रिकेट
रविवार	क्रमर	बैडमिंटन

Q-23eng

How many persons will participate between Carrom and Table-tennis?

01. One
02. Two
03. Three
04. Four
05. Five

Q-23hi

कैरम और टेबल-टेनिस के बीच कितने व्यक्ति भाग लेंगे?

01. एक
02. दो
03. तीन
04. चार
05. पांच

Solution for Question 23

Ans Key: 2

eng

Monday	Naman	Volleyball
Tuesday	Kamal	Table-tennis
Wednesday	Okesh	Kho-kho
Thursaday	mohan	Hockey
Friday	Lucky	Carrom
Saturday	Parvesh	Cricket
Sunday	Qmar	Badminton

hi

सोमवार	नमन	वॉलीबॉल
मंगलवार	कमल	टेबल टेनिस
बुधवार	ओकेश	खो-खो
गुरुवार	मोहन	हॉकी
शुक्रवार	लकी	कैरम
शनिवार	परवेश	क्रिकेट
रविवार	क्रमर	बैडमिंटन

Q-24eng

Which of the following day Lucky will participate?

01. Monday
02. Tuesday
03. Friday
04. Saturday
05. None of these

Q-24

अगले दिन लकी में से कौन भाग लेगा?

01. सोमवार  
03. शुक्रवार  
05. इनमें से कोई नहीं
02. मंगलवार  
04. शनिवार

Ans Key: 5

#### Solution for Question 24

eng

Monday	Naman	Volleyball
Tuesday	Kamal	Table-tennis
Wednesday	Okesh	Kho-kho
Thursaday	mohan	Hockey
Friday	Lucky	Carrom
Saturday	Parvesh	Cricket
Sunday	Qmar	Badminton

hi

सोमवार	नमन	वॉलीबॉल
मंगलवार	कमल	टेबल टेनिस
बुधवार	ओकेश	खो-खो
गुरुवार	मोहन	हॉकी
शुक्रवार	लकी	कैरम
शनिवार	परवेश	क्रिकेट
रविवार	कमर	बैडमिंटन

Q-25 Which of the following combination is true regarding Volleyball?

eng

01. Volleyball held on Monday.  
03. Qmar will participate in Carrom.  
05. None of these
02. Lucky will participate in Volleyball.  
04. Volleyball held on Saturday.

Q-25 वॉलीबॉल के संबंध में निम्नलिखित में से कौन सा संयोजन सही है?

hi

01. वॉलीबॉल का आयोजन सोमवार को हुआ।  
03. कमर कैरम में हिस्सा लेंगे।  
05. इनमें से कोई नहीं
02. लकी वॉलीबॉल में भाग लेंगे।  
04. वॉलीबॉल का आयोजन शनिवार को हुआ।

#### Solution for Question 25

Ans Key: 1

eng

Monday	Naman	Volleyball
Tuesday	Kamal	Table-tennis
Wednesday	Okesh	Kho-kho
Thursaday	mohan	Hockey
Friday	Lucky	Carrom
Saturday	Parvesh	Cricket
Sunday	Qmar	Badminton

hi

सोमवार	नमन	वॉलीबॉल
मंगलवार	कमल	टेबल टेनिस
बुधवार	ओकेश	खो-खो
गुरुवार	मोहन	हॉकी
शुक्रवार	लकी	कैरम
शनिवार	परवेश	क्रिकेट
रविवार	कमर	बैडमिंटन

Ans Key: 4

Passage for Question 28, 29, 30 (ST-2050RRBCLERKMAINS(28-30R)2020)

eng Passage

Study the following information carefully and answer the question given below.

In such questions, the relationships are represented by certain specific codes or symbols such as +, -, @, \$, %, etc. The candidate is then required to analyses some given codes to determine the relationship between a set of persons, or to express a given relationship in the coded form.

‘A\*B’ means ‘A is the brother of B’

‘A÷B’ means ‘B is the father of A’

‘A+B’ means ‘A is the sister of B’

‘A-B’ means ‘A is the mother of B’

‘A@B’ means ‘A is the husband of B’

hi Passage

निम्नलिखित जानकारी का ध्यानपूर्वक अध्ययन करें और नीचे दिए गए प्रश्न का उत्तर दें।

ऐसे प्रश्नों में, रिश्तों को कुछ विशिष्ट कोडों या प्रतीकों जैसे कि -, +, @, \$, %, आदि द्वारा दर्शाया जाता है। उम्मीदवार को तब व्यक्तियों के सेट के बीच संबंध निर्धारित करने के लिए कुछ दिए गए कोड का विश्लेषण करने की आवश्यकता होती है, या किसी दिए गए संबंध को कोडित रूप में व्यक्त करना।

‘A \* B ’ का अर्थ है ‘A, B का भाई है ’

‘A ÷ B ’ का अर्थ है ‘B ’A’ का पिता है।

‘A + B ’ का अर्थ है ‘A, B की बहन है ’

‘A - B ’ का अर्थ है ‘A, B की मां है ’

‘A @B ’ का अर्थ है ‘A, B का पति है ’

Q-28

Which of the following means “Q is the sister-in-law P”?

eng

01.  $M - K @ Q + P * L$

02.  $K - Q + L @ P * M$

03.  $M \div L @ P + Q @ K$

04.  $K \div Q - P @ M * L$

05. None of these

Q-28

निम्नलिखित में से किसका अर्थ है "Q भाभी P है?"

hi

01.  $M - K @ Q + P * L$

02.  $K - Q + L @ P * M$

03.  $M \div L @ P + Q @ K$

04.  $K \div Q - P @ M * L$

05. इनमें से कोई नहीं

Solution for Question 28

Ans Key: 2

eng

K<sup>-</sup>

|

Q<sup>-</sup> — L<sup>+</sup> = P<sup>-</sup> — M

hi

K<sup>-</sup>

|

Q<sup>-</sup> — L<sup>+</sup> = P<sup>-</sup> — M

Q-29

Which of the following is true if the expression is ‘O ÷ Q @ M +L- J’?

eng

01. O is the son of M.

02. J is the brother of O.

03. M is the aunt of J.

04. Q is father-in-law of J

05. None of these

Q-29

यदि अभिव्यक्ति ‘O ÷ Q @ M +L- J’ है, तो निम्नलिखित में से कौन सा सही है?

hi

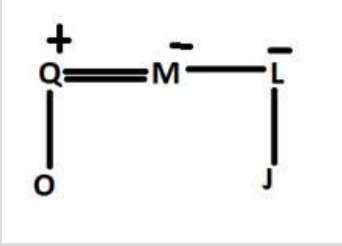
01. O, M का पुत्र है।
03. M, J की चाची है।
05. इनमें से कोई नहीं

02. J, O का भाई है।
04. Q, J का ससुर है

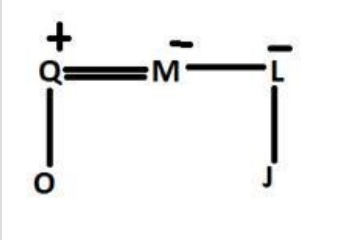
### Solution for Question 29

Ans Key: 3

eng



hi



Q-30 In the given expression is 'I + J@ K- Q - E' how is E related to J?

eng

01. Mother
03. Mother-in-law
05. None of these
02. Grandmother
04. Sister

Q-30 दी गई अभिव्यक्ति 'I + J@ K- Q - E' E, J से किस प्रकार संबंधित है?

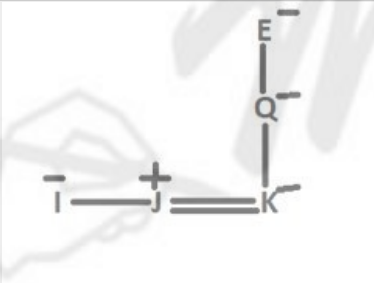
hi

01. माँ
03. माँ जी
05. इनमें से कोई नहीं
02. दादी
04. बहन

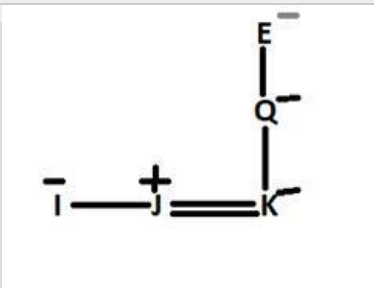
### Solution for Question 30

Ans Key: 2

eng



hi



Passage for Question 31, 32, 33, 34, 35 (ST-2050RRBCLERKMAINS(31-35R)2020)

eng Passage

Study the following information carefully and answer the question given below.

Twelve persons A, B, C, D, E, F, P, Q, R, S, T and U are sitting in two parallel rows with equidistance from each other but not necessarily in the same order. In Row-1, P, Q, R, S, T and U are sitting and all of them are facing south and in Row-2, A, B, C, D, E and F are sitting and all of them are facing north but not necessary in the same order.

U faces one of the immediate neighbours of B. T sits one of the places to the right of Q. Only two persons are sitting between E and D. C is not an immediate neighbour of D. As many persons sitting to the right of E is same as the number of persons sitting to the right of R and neither of them sits at the extreme ends of the rows. R does not face B. T sits second to the left of the one who faces A and either one of them sits at the extreme ends of the rows. Only two persons are sitting between A and B. F faces the person the one who sits to the immediate right of P.

निम्नलिखित जानकारी का ध्यानपूर्वक अध्ययन करें और नीचे दिए गए प्रश्न का उत्तर दें।

बारह व्यक्ति A, B, C, D, E, F, P, Q, R, S, T और U दो समानान्तर पंक्तियों में एक-दूसरे से समान दूरी पर बैठे हैं लेकिन जरूरी नहीं कि एक ही क्रम में हों। Row-1 में P, Q, R, S, T और U बैठे हैं और वे सभी दक्षिण की ओर और पंक्ति -2 में A, B, C, D, E और F बैठे हैं और वे सभी सामना कर रहे हैं उत्तर लेकिन उसी क्रम में आवश्यक नहीं। U, B के निकटतम पड़ोसियों में से एक का सामना करता है। T, Q के दाईं ओर एक स्थान पर बैठता है। केवल दो व्यक्ति E और D के बीच बैठे हैं। C, D का तत्काल पड़ोसी नहीं है। E के दाईं ओर बैठे कई व्यक्ति हैं। आर के दाईं ओर बैठे व्यक्तियों की संख्या के समान है और उनमें से कोई भी पंक्तियों के चरम छोर पर नहीं बैठा है। R, B का सामना नहीं करता है। T, A का सामना करने वाले के बाईं ओर दूसरा बैठता है और या तो उनमें से एक पंक्तियों के चरम सिरों पर बैठता है। A और B F के बीच केवल दो व्यक्ति बैठे हैं, वह व्यक्ति जो P के तत्काल दायें बैठा है।

**Q-31** Four of the five are alike in a certain way so form a group, then which does not belong to the group?

eng

- |       |       |
|-------|-------|
| 01. S | 02. Q |
| 03. A | 04. D |
| 05. E |       |

**Q-31** पांच में से चार एक निश्चित तरीके से एक जैसे होते हैं इसलिए एक समूह बनाते हैं, जो समूह से संबंधित नहीं है?

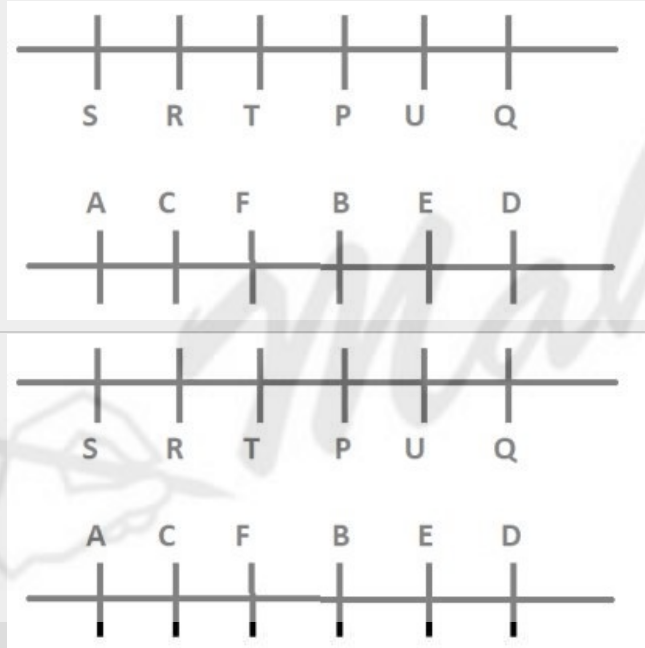
hi

- |       |       |
|-------|-------|
| 01. S | 02. Q |
| 03. A | 04. D |
| 05. E |       |

**Solution for Question 31**

Ans Key: 5

eng



hi

**Q-32** How many persons are sitting between S and U?

eng

- |           |          |
|-----------|----------|
| 01. One   | 02. Two  |
| 03. Three | 04. Four |
| 05. Five  |          |

**Q-32** S और U के बीच कितने व्यक्ति बैठे हैं?

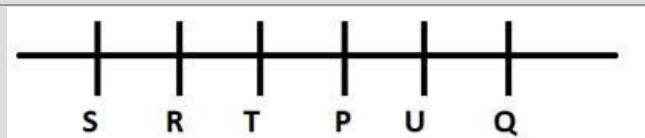
hi

- |          |         |
|----------|---------|
| 01. एक   | 02. दो  |
| 03. तीन  | 04. चार |
| 05. पांच |         |

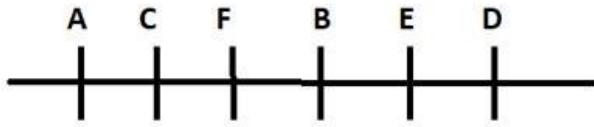
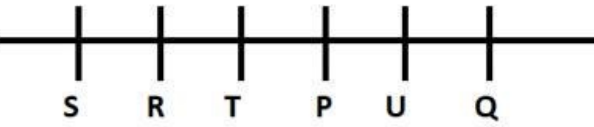
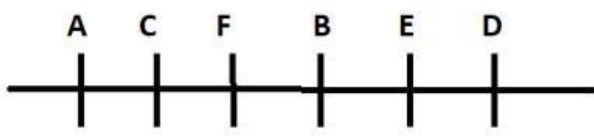
**Solution for Question 32**

Ans Key: 3

eng







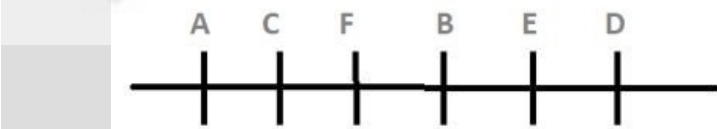
**Q-33** What is the position of Q with respect to T?  
eng

- |                         |                         |
|-------------------------|-------------------------|
| 01. Second to the right | 02. Third to the left   |
| 03. Third to the right  | 04. Fourth to the right |
| 05. None of these       |                         |

**Q-33** T के संबंध में Q की स्थिति क्या है?  
hi

- |                       |                   |
|-----------------------|-------------------|
| 01. दायीं ओर दूसरा    | 02. बाईं ओर तीसरा |
| 03. दाईं ओर तीसरा     | 04. दाईं ओर चौथा  |
| 05. इनमें से कोई नहीं |                   |

**Solution for Question 33** Ans Key: 2



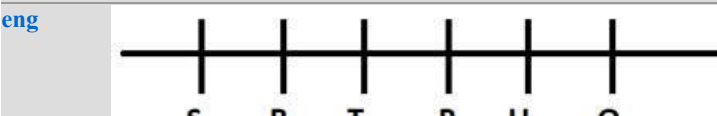
**Q-34** What is the position of F with respect to E?  
eng

- |                         |                        |
|-------------------------|------------------------|
| 01. Second to the right | 02. Second to the left |
| 03. Third to the right  | 04. Third to the left  |
| 05. None of these       |                        |

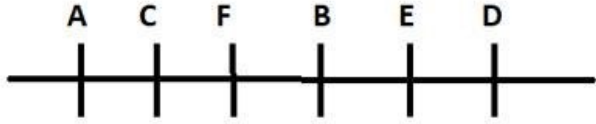
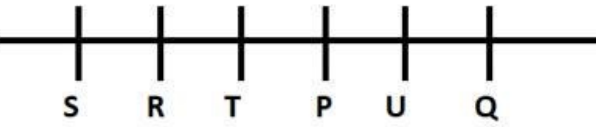
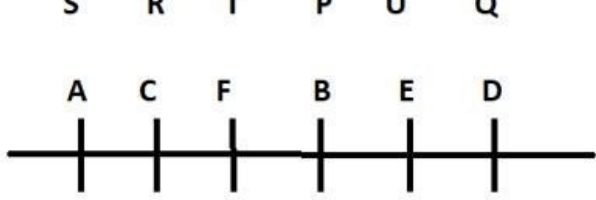
**Q-34** E के संबंध में F की स्थिति क्या है?  
hi

- |                       |                   |
|-----------------------|-------------------|
| 01. दायीं ओर दूसरा    | 02. बाईं ओर दूसरा |
| 03. दाईं ओर तीसरा     | 04. बाईं ओर तीसरा |
| 05. इनमें से कोई नहीं |                   |

**Solution for Question 34** Ans Key: 2







**Q-35** Who among the following sits at the extreme end of the line?

eng

- |       |       |
|-------|-------|
| 01. P | 02. F |
| 03. C | 04. A |
| 05. R |       |

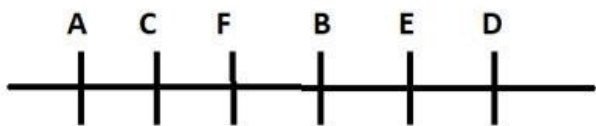
**Q-35** निम्नलिखित में से कौन पंक्ति के अंतिम छोर पर बैठता है?

hi

- |       |       |
|-------|-------|
| 01. P | 02. F |
| 03. C | 04. A |
| 05. R |       |

**Solution for Question 35**

Ans Key: 4



**Passage for Question 36, 37, 38 (ST-2050RRBCLERKMAINS(36-38R)2020)**

eng Passage

**Study the following information carefully and answer the question given below.**

Eight person P, Q, R, S, T, U, V and W are standing in such a way the T is 30m away from V in north direction, V is 40m east away from the person P. P is 15 m north with respect to R. W is 20m in south direction from the person Q. V is 30 m away from the person S in west direction. U is 25m towards the south direction with respect to S. W is 30m west with respect of R.

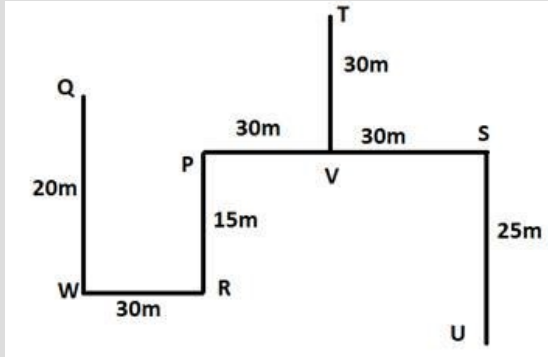
hi Passage

**निम्नलिखित जानकारी का ध्यानपूर्वक अध्ययन करें और नीचे दिए गए प्रश्न का उत्तर दें।**

आठ व्यक्ति P, Q, R, S, T, U, V और W इस तरह से खड़े हैं कि T उत्तर दिशा में V से 30 मीटर दूर है, V, P से उस व्यक्ति से 40 मीटर पूर्व में दूर है, जो P से 15 मीटर उत्तर में है। R, W का सम्मान व्यक्ति से दक्षिण दिशा में 20 मीटर है। V पश्चिम दिशा में व्यक्ति S से 30 मीटर दूर है। U, S के सन्दर्भ में दक्षिण दिशा की ओर 25 मीटर है और R के सम्मान के



hi



**Q-38** How far and in which direction is person U with respect to V(approximately)?

eng

- |                     |                     |
|---------------------|---------------------|
| 01. South-east, 39m | 02. North, 30m      |
| 03. West, 20m       | 04. North-east, 35m |
| 05. None of these   |                     |

**Q-38** V (लगभग) के संबंध में व्यक्ति U कितनी दूर और किस दिशा में है?

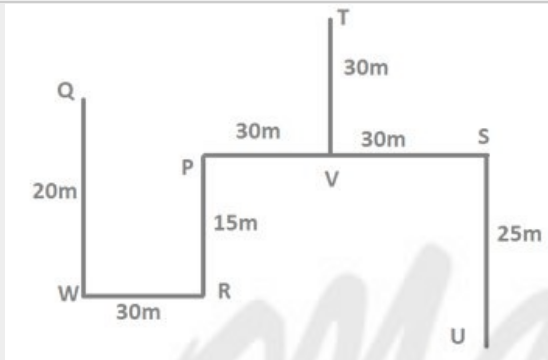
hi

- |                         |                        |
|-------------------------|------------------------|
| 01. दक्षिण-पूर्व, 39 मी | 02. उत्तर, 30 मी       |
| 03. पश्चिम, 20 मी       | 04. उत्तर-पूर्व, 35 मी |
| 05. इनमें से कोई नहीं   |                        |

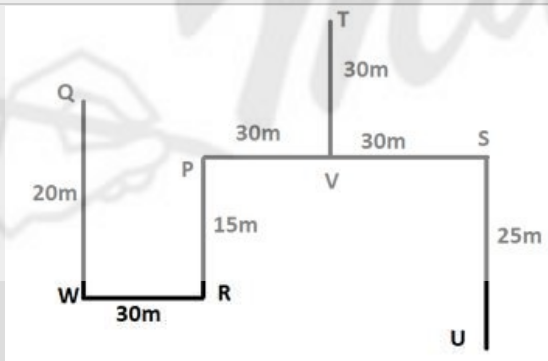
**Solution for Question 38**

Ans Key: 1

eng



hi



**Passage for Question 39, 40 (ST-2050RRBCLERKMAINS(39-40R)2020)**

eng Passage

**Study the following information carefully and answer the question given below.**

In each of the questions below consists of a question and statements. You have to decide whether the data given in the statements is sufficient to answer the questions.

hi Passage

निम्नलिखित जानकारी का ध्यानपूर्वक अध्ययन करें और नीचे दिए गए प्रश्न का उत्तर दें।

नीचे दिए गए प्रत्येक प्रश्न में एक प्रश्न और कथन हैं। आपको यह तय करना होगा कि कथनों में दिया गया डेटा प्रश्नों का उत्तर देने के लिए पर्याप्त है या नहीं।

**Q-39** Who among A, B, C, D, E and F is the smallest?

eng

I) D is shorter than A, but taller than C and B.

II) Only one person smaller than C and only three persons are taller than B. A is taller than D but smaller than F and E.

01. If the data in Statement I are sufficient.

02. If the data in Statement II are sufficient.

03. If the data in Statement I and II are sufficient.

04. If the data in all Statements together are not necessary to answer the question.

05. If the data in all Statement together are necessary to answer the question.

Q-39

hi

A, B, C, D, E और F में से कौन सबसे छोटा है?

I) D A से छोटा है, लेकिन C और B से लंबा है।

II) केवल एक व्यक्ति C से छोटा है और B की तुलना में केवल तीन व्यक्ति लम्बे हैं। A, D से लंबा है लेकिन F और E से छोटा है।

01. यदि कथन I में डेटा पर्याप्त हैं।

02. यदि कथन II में डेटा पर्याप्त है।

03. यदि कथन I और II के आंकड़े पर्याप्त हैं।

04. यदि सभी कथन में डेटा एक साथ हो तो प्रश्न का उत्तर देना आवश्यक नहीं है।

05. यदि सभी कथन में डेटा प्रश्न का उत्तर देने के लिए आवश्यक है।

Solution for Question 39

Ans Key: 2

eng

F/E
F/E
A
B
C
D

hi

F/E
F/E
A
B
C
D

Q-40

eng

How is O related to J?

I) M is the son of R, who is the husband of Q. A is the mother-in-law of N.

II) J is married to K. H is brother of L who is only daughter of O.

01. If the data in Statement I are sufficient.

02. If the data in Statement II are sufficient.

03. If the data in Statement I and II are sufficient.

04. If the data in all Statements together are not necessary to answer the question.

05. If the data in all Statement together are necessary to answer the question.

Q-40

hi

O, J से किस प्रकार संबंधित है?

I) M, R का पुत्र है, जो Q का पति है। N की सास है।

II) J का विवाह K. H से होता है जो L का भाई है जो केवल O की बेटी है।

01. यदि कथन I में डेटा पर्याप्त हैं।

02. यदि कथन II में डेटा पर्याप्त है।

03. यदि कथन I और II के आंकड़े पर्याप्त हैं।

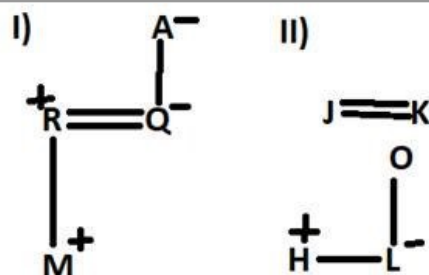
04. यदि सभी कथन में डेटा एक साथ हो तो प्रश्न का उत्तर देना आवश्यक नहीं है।

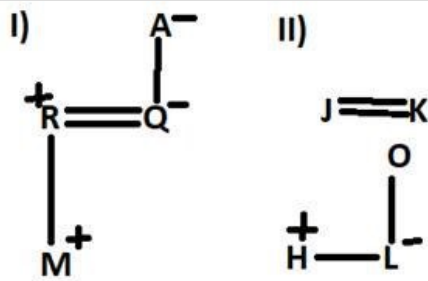
05. यदि सभी कथन में डेटा प्रश्न का उत्तर देने के लिए आवश्यक है।

Solution for Question 40

Ans Key: 4

eng





Passage for Question 41, 42, 43, 44, 45 (ST-275CRPBCLPRE(6-10M)2020)

eng Passage

The following table shows the details of the various parameters (Cost Price/Marked Price/Selling Price/Mark Up/Discount/Profit) of the three different articles Toothpaste, Wiper and Bathing Soap by a shopkeeper.(All the price depicted are the per article).

Article	Cost Price (In Rs.)	Mark Up %	Marked Price (In Rs.)	Discount %	Selling Price (In Rs.)	Profit %
Toothpaste	--	10	--	--	--	1.2
Wiper	150	--	--	10	--	3.5
Bathing Soap	--	20	--	12	84.48	--

hi Passage

निम्नलिखित सारणी में तीन विभिन्न वस्तुओं दूधपेस्ट, वाइपर और नहाने का साबुन के विभिन्न घटकों (क्रय मूल्य/अंकित मूल्य/विक्रय मूल्य/बढ़ाया गया मूल्य/छूट/लाभ) को दर्शाया गया है.(दर्शा गये सारे मूल्य प्रति वस्तु है).

वस्तु	क्रय मूल्य (Rs. में)	मार्कअप %	अंकित मूल्य (Rs. में)	छूट %	विक्रय मूल्य (Rs. में)	छूट %
दूधपेस्ट	--	10	--	--	--	1.2
वाइपर	150	--	--	10	--	3.5
नहाने का साबुन	--	20	--	12	84.48	--

Q-41 At what percentage should he mark the Wiper up to get the required percentage profit?

eng

01. 10% 02. 20%  
03. 15% 04. 5%  
05. 15.25%

Q-41 अभीष्ट लाभ प्रतिशत प्राप्त करने के लिए वह वाइपर को कितना प्रतिशत बढ़ाकर रखे?

hi

01. 10% 02. 20%  
03. 15% 04. 5%  
05. 15.25%

Solution for Question 41

Ans Key: 3

eng

$$\text{Required answer} = x - 10 - \frac{10x}{100} = 3.5$$

$$\Rightarrow x = 15\%$$

hi

$$\text{अभीष्ट उत्तर} = x - 10 - \frac{10x}{100} = 3.5$$

$$\Rightarrow x = 15\%$$

Q-42 The discount given by the shopkeeper on the purchase of the Toothpaste to the customer is Rs.4.40; find at what price did the shopkeeper bought the Toothpaste.

eng

01. Rs.50 02. Rs.50.60

03. Rs.45 04. Rs.48

05. Rs.52

**Q-42** दूधपेस्ट खरीदने पर दूकानदार द्वारा ग्राहक को दी जाने वाली छुट 4.40 रु. हो तो बताइए दूकानदार ने दूधपेस्ट को कितने में खरीदा था?  
**hi**

01. Rs.50

02. Rs.50.60

03. Rs.45

04. Rs.48

05. Rs.52

**Solution for Question 42**

Ans Key: 1

**eng**

$$10 - x - \frac{10x}{100} = 1.2$$
$$\Rightarrow x = 8\%$$
$$MP = \frac{4.40}{8\%} \times 100\% = 55$$
$$CP = 55 \times \frac{100}{110} = 50$$

**hi**

$$10 - x - \frac{10x}{100} = 1.2$$
$$\Rightarrow x = 8\%$$
$$MP = \frac{4.40}{8\%} \times 100\% = 55$$
$$CP = 55 \times \frac{100}{110} = 50$$

**Q-43**

**eng**

Suppose the shopkeeper changed his mind to allow a discount of 10% on the bathing soap instead of 12%; then at what percentage above the cost price should he mark it up to decide the marked price in order to maintain his profit percentage the same?

01. 17.33%

02. 16.67%

03. 15.33%

04. 16.33%

05. 15%

**Q-43**

**hi**

मान लीजिये दूकानदार ने नहाने के साबुन पर 12% की जगह 10% की छुट देने का मन बना लिया हो तो बताइए उसे क्रय मूल्य पर कितना प्रतिशत बढ़ाकर अंकित मूल्य निर्धारित करना चाहिए ताकि उसका लाभ प्रतिशत समान हो?

01. 17.33%

02. 16.67%

03. 15.33%

04. 16.33%

05. 15%

**Solution for Question 43**

Ans Key: 1

**eng**

$$20 - 12 - \frac{20 \times 12}{100} = x - 10 - \frac{x \times 10}{100}$$
$$\Rightarrow 15.6 = \frac{9x}{10}$$
$$\Rightarrow x = 17.33\%$$

**hi**

$$20 - 12 - \frac{20 \times 12}{100} = x - 10 - \frac{x \times 10}{100}$$
$$\Rightarrow 15.6 = \frac{9x}{10}$$
$$\Rightarrow x = 17.33\%$$

**Q-44**

**eng**

A customer bought 5 wipers from the shopkeeper; find the total profit earned by the shopkeeper by selling the wipers.

01. Rs.25.26

02. Rs.24.26

03. Rs.25.2

04. Rs.26.25

05. Rs.24.25

**Q-44**

**hi**

एक ग्राहक ने दूकानदार से 5 वाइपर खरीदे; वाइपर को बेचने पर दूकानदार द्वारा अर्जित कुल लाभ प्रतिशत ज्ञात कीजिये?

01. Rs.25.26

02. Rs.24.26

03. Rs.25.2

04. Rs.26.25

05. Rs.24.25

hi अभीष्ट उत्तर =  $150 \times \frac{3.5}{100} \times 5 = 26.25$

eng

- 01.** 6:5                      **02.** 5:9  
**03.** 4:5                      **04.** 5:6  
**05.** 3:5

hi

- 01.** 6:5                      **02.** 5:9  
**03.** 4:5                      **04.** 5:6  
**05.** 3:5

Ans Key: 4

**hi** अभीष्ट उत्तर=  $100:120 = 5:6$

eng Passage

There are four bags those contains red blue and white coloured balls .

- There are 50 red balls in bag 2 and total number of blue and white balls in Bag 2 is 50. Number of white balls in bag 2 are 10 more than the number of blue balls in bag 2.
- Total number of red balls in bag 1 is equal to the total number of blue balls in bag 2 and total number of blue balls in bag 1 is equal to total number of white balls in bag 2. total number of balls in bag 1 is 90
- Total number of blue balls in bag 3 is equal to total number of white balls in bag 1 and total number of white balls in Bag3 is equal to total number of blue balls in bag 1. Total number of balls in bag 3 is 80.

hi Passage

निम्नलिखित जानकारी का ध्यानपूर्वक अध्ययन करें और निम्नलिखित प्रश्नों के उत्तर दें।

चार बैग हैं जिनमें लाल नीले और सफेद रंग के गेंदें हैं।

- बैग 2 में 50 लाल गेंदें हैं और बैग 2 में नीले और सफेद गेंदों की कुल संख्या 50 है। बैग 2 में सफेद गेंदों की संख्या बैग 2 की नीली गेंदों की संख्या से 10 अधिक है।
  - बैग 1 में लाल गेंदों की कुल संख्या बैग 2 में नीले गेंदों की कुल संख्या के बराबर है और बैग 1 में नीले गेंदों की कुल संख्या बैग 2 में सफेद गेंदों की कुल संख्या के बराबर है। बैग 1 में गेंदों की कुल संख्या 90 है
  - बैग 3 में नीले गेंदों की कुल संख्या बैग 1 में सफेद गेंदों की कुल संख्या के बराबर है और बैग 3 में सफेद गेंदों की कुल संख्या बैग 1 में नीले गेंदों की कुल संख्या के बराबर है। बैग 3 में गेंदों की कुल संख्या 80 है।
- बैग 4 में सभी तीन रंग की गेंदें संख्या में समान हैं और बैग 4 में गेंदों की कुल संख्या बैग 1 में लाल और सफेद गेंदों की संख्या का योग है।

eng

- [illegible]

hi

- 01.** 1/30                                      **02.** 1/15  
**03.** 1/20                                      **04.** 2/57

## Solution for Question 46

eng

Bags	RED	BLUE	WHITE	TOTAL
BAG1	20	30	40	90
BAG2	50	20	30	100
BAG3	40	10	30	80
BAG4	20	20	20	60

After replacement of balls

P(max 1 red from bag 1) - P(max 1 blue from bag 2)

$$\begin{aligned}
 &= \frac{{}^{30}C_1}{{}^{90}C_1} - \frac{{}^{30}C_1}{{}^{100}C_2} \\
 &= \frac{1}{3} - \frac{3}{10} \\
 &= \frac{1}{30}
 \end{aligned}$$

hi

बैग	लाल	नीला	सफ़ेद	कुल
बैग 1	20	30	40	90
बैग 2	50	20	30	100
बैग 3	40	10	30	80
बैग 4	20	20	20	60

गेंदों के प्रतिस्थापन के बाद

P (बैग 1 से अधिकतम 1 लाल) - P (बैग 2 से अधिकतम 1 नीला)

$$\begin{aligned}
 &= \frac{{}^{30}C_1}{{}^{90}C_1} - \frac{{}^{30}C_1}{{}^{100}C_2} \\
 &= \frac{1}{3} - \frac{3}{10} \\
 &= \frac{1}{30}
 \end{aligned}$$

## Q-47

eng

If 40 blue balls are added to bag 4 and 2 balls picked at random, then what is the probability of getting at least one out of 2 balls is blue?

01.  $\frac{139}{185}$

02.  $\frac{173}{165}$

03.  $\frac{137}{165}$

04.  $\frac{139}{165}$

05.  $\frac{203}{165}$

## Q-47

hi

यदि बैग 4 में 40 नीली गेंदें जोड़ी जाती हैं और 2 गेंदों को यादृच्छिक रूप से निकाला जाता है, तो 2 गेंदों में से कम से कम एक को नीला होने की संभावना क्या है?

01.  $\frac{139}{185}$

02.  $\frac{173}{165}$

03.  $\frac{137}{165}$

04.  $\frac{139}{165}$

05.  $\frac{203}{165}$

## Solution for Question 47

eng

Probability =

$$\begin{aligned}
 &= 1 - \frac{{}^{40}C_2}{{}^{100}C_2} \\
 &= 1 - \frac{40 \times 39}{100 \times 99} \\
 &= \frac{139}{165}
 \end{aligned}$$



hi

प्रायिकता =

$$= 1 - \frac{{}^{40}C_2}{{}^{100}C_2}$$

$$= 1 - \frac{40 \times 39}{100 \times 99}$$

$$= \frac{139}{165}$$

Q-48

eng

If 10 white balls are added to bag 3 and 3 balls are picked each from bag1 and bag3, then what is the ratio of probability of getting all 3 blue balls from bag1 to the probability of getting all 3 white balls from bag 3?

01.  $\frac{205}{494}$

02.  $\frac{203}{494}$

03.  $\frac{201}{494}$

04.  $\frac{200}{495}$

05.  $\frac{207}{494}$

Q-48

hi

यदि बैग 3 में 10 सफेद गेंदें जोड़ी जाती हैं और बैग 1 और बैग 3 में से प्रत्येक में 3 गेंदें निकाली जाती हैं, तो बैग 1 से सभी तीन नीली गेंदों एवं बैग 3 से सभी 3 सफेद गेंदों को प्राप्त करने की प्रायिकता का अनुपात क्या है?

01.  $\frac{205}{494}$

02.  $\frac{203}{494}$

03.  $\frac{201}{494}$

04.  $\frac{200}{495}$

05.  $\frac{207}{494}$

Solution for Question 48

Ans Key: 2

eng

Ratio =

$$\frac{{}^{30}C_3 : {}^{40}C_3}{{}^{90}C_3 : {}^{90}C_3} = \frac{203}{494}$$

hi

अनुपात =

$$\frac{{}^{30}C_3 : {}^{40}C_3}{{}^{90}C_3 : {}^{90}C_3} = \frac{203}{494}$$

Q-49

eng

Sourav spent 40% of his monthly income on study, and 60% of remaining on rent. Out of remaining money, 75% is spent on travelling and 20% of the rest on gambling. If he saves Rs600, then find his monthly income?

01. 12000

02. 12500

03. 13000

04. 13500

05. 13250

Q-49

hi

सौरव ने अपनी मासिक आय का 40% अध्ययन पर, और 60% शेष किराए पर खर्च किया। शेष धन में से, 75% यात्रा पर खर्च किया जाता है और शेष 20% जुए पर खर्च किया जाता है। यदि वह रु 600 की बचत करता है, तो उसकी मासिक आय ज्ञात करें?

01. 12000

02. 12500

03. 13000

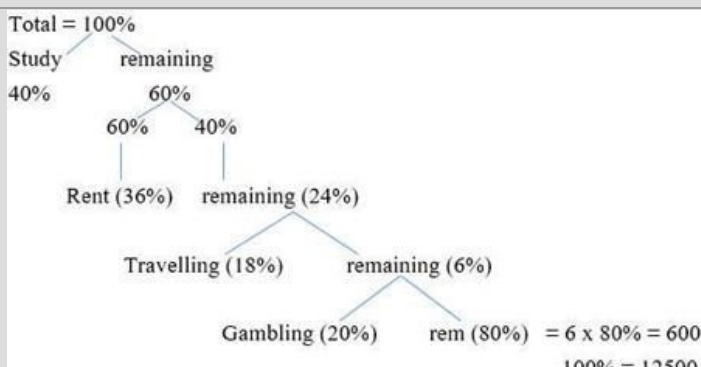
04. 13500


05. 13250

Solution for Question 49

Ans Key: 2

eng





### Passage for Question 50, 51 (ST-29RRBPOPPE(34-35M)2020)

eng Passage

The information given below is the investment of three Venture capitalists in a partnership for the period of 2016 – 2020.

The investments made by an individual are for the same period. The investment of Vikram in 2016 is Rs. 40000 and is equal to the investment of Chandan in 2018. The total investment in 2019 is Rs. 24000 and the ratio of investments of Arjun, Vikram and Chandan is 8 : 9 : 7 respectively. The investments of Arjun in 2016, 2017 and 2018 are Rs. 32000, Rs. 48000 and Rs. 44000 respectively. The investment of Chandan in 2016 and 2017 are same i.e. Rs. 22000. The investment of Vikram in 2018 is Rs. 6000 more than the investment by him in 2017 i.e. Rs. 30000.

hi Passage

नीचे दी गई जानकारी 2016 - 2020 की अवधि के लिए एक साझेदारी में तीन वेंचर कैपिटलिस्टों का निवेश है।

किसी व्यक्ति द्वारा किया गया निवेश उसी अवधि के लिए होता है। 2016 में विक्रम का निवेश रु 40000 है और 2018 में चंदन के निवेश के बराबर है। 2019 में कुल निवेश रु 24000 और अर्जुन, विक्रम और चंदन के निवेश का अनुपात क्रमशः 8 : 9 : 7 है। 2016, 2017 और 2018 में अर्जुन के निवेश क्रमशः रु 32000, रु 48000 और रु 44000। 2016 और 2017 में चंदन का निवेश समान है यानी रु 22000. 2018 में विक्रम का निवेश 2017 में उनके द्वारा किए गए निवेश से 6000 अधिक यानी रु 30000.

**Q-50** Find the share of profit earned by Vikram in the year 2018, if the total profit in 2018 is Rs. 15000?

eng

- |          |          |
|----------|----------|
| 01. 4520 | 02. 4530 |
| 03. 4500 | 04. 4567 |
| 05. 4580 |          |

**Q-50** 2018 में विक्रम द्वारा अर्जित लाभ का हिस्सा ज्ञात करें, यदि 2018 में कुल लाभ 15000 रु है?

hi

- |          |          |
|----------|----------|
| 01. 4520 | 02. 4530 |
| 03. 4500 | 04. 4567 |
| 05. 4580 |          |

### Solution for Question 50

Ans Key: 3

eng ARJUN VIKRAM CHANDAN

44000 : 36000 : 40000

11 : 9 : 10

$$\text{VIKRAM's share} = \frac{9}{30} \times 15000 = 4500$$

hi अर्जुन विक्रम चंदन

44000 : 36000 : 40000

11 : 9 : 10

$$\text{विक्रम का हिस्सा} = \frac{9}{30} \times 15000 = 4500$$

**Q-51** If the share of profit of Chandan in 2016 and 2017 is Rs 7700 and Rs 8800 respectively, find the ratio of profit of Arjun in 2016 to that in 2017 ?

eng

- |          |          |
|----------|----------|
| 01. 7:12 | 02. 12:7 |
| 03. 19:7 | 04. 7:19 |

05. 12:5

**Q-51** यदि 2016 और 2017 में चंदन के लाभ का हिस्सा क्रमशः 7700 रुपये और 8800 रुपये है, तो 2016 में अर्जुन के लाभ का अनुपात 2017 में ज्ञात कीजिए?

01. 7:12

02. 12:7

03. 19:7

04. 7:19

05. 12:5

### Solution for Question 51

Ans Key: 1

eng

	Investment		profit	
	Arjun	chandan	Arjun	chandan
2016	32000	22000	x	7700
2017	48000	22000	y	8800
$\frac{32000}{22000} = \frac{x}{7700}$ $x = 11200$ $\frac{48000}{22000} = \frac{y}{8800}$ $y = 19200$				
Ratio = 11200: 19200 = 7:12				

hi

	निवेश		लाभ	
	अर्जुन	चंदन	अर्जुन	चंदन
2016	32000	22000	x	7700
2017	48000	22000	y	8800
$\frac{32000}{22000} = \frac{x}{7700}$ $x = 11200$ $\frac{48000}{22000} = \frac{y}{8800}$ $y = 19200$				
अनुपात = 11200: 19200 = 7:12				

### Q-52

Find the wrong number in the following number series-

eng

19	35	134	792	1532
01. 35				02. 134
03. 19				04. 1532
05. 792				

### Q-52

निम्न संख्या श्रृंखला में गलत पद ज्ञात कीजिये-

hi

19	35	134	792	1532	
01.	35			02.	134
03.	19			04.	1532
05.	792				

### Solution for Question 52

Ans Key: 4

eng

19	35	134	792	6312
×2-3	×4-6	×6-12	×8-24	

hi

19	35	134	792	6312
×2-3	×4-6	×6-12	×8-24	

### Q-53

Find the wrong number in the following number series-

eng

726	766	675	832	594
01. 726				02. 832
03. 675				04. 594
05. 766				

**Q-53****hi**

निम्न संख्या श्रृंखला में गलत पद ज्ञात कीजिये-

726      766      675      832      594

**01.** 726**02.** 832**03.** 675**04.** 594**05.** 766**Solution for Question 53**

Ans Key: 3

**eng**

726	766	675	832	594
+5×8	-8×11	+11×14	-14×17	

**hi**

726	766	678	832	594
+5×8	-8×11	+11×14	-14×17	

**Q-54****eng**

Find the wrong number in the following number series-

13      71      212      1682      10154

**01.** 71**02.** 13**03.** 1682**04.** 212**05.** 10154**Q-54****hi**

निम्न संख्या श्रृंखला में गलत पद ज्ञात कीजिये-

13      71      212      1682      10154

**01.** 71**02.** 13**03.** 1682**04.** 212**05.** 10154**Solution for Question 54**

Ans Key: 4

**eng**

13	71	326	1682	10154
×3+32	×4+42	×5+52	×6+62	

**hi**

13	71	326	1682	10154
× 3+32	× 4+42	× 5+52	× 6+62	

**Q-55****eng**Two equilateral triangles and two parallelogram are cut down from a hexagon. If area of one equilateral triangle is  $4\sqrt{3}$  cm<sup>2</sup> then find the height of parallelogram?**01.**  $4\sqrt{3}$  cm**02.**  $\sqrt{3}$  cm**03.**  $2\sqrt{3}$  cm**04.**  $3\sqrt{3}$  cm**05.**  $8\sqrt{3}$  cm**Q-55****hi**दो समबाहु त्रिकोण और दो समांतर चतुर्भुज एक षट्भुज से काटे जाते हैं। यदि एक समबाहु त्रिभुज का क्षेत्रफल  $4\sqrt{3}$  cm<sup>2</sup> है तो समांतर चतुर्भुज की ऊँचाई ज्ञात कीजिए?**01.**  $4\sqrt{3}$  सेमी**02.**  $\sqrt{3}$  सेमी**03.**  $2\sqrt{3}$  सेमी**04.**  $3\sqrt{3}$  सेमी**05.**  $8\sqrt{3}$  सेमी**Solution for Question 55**

Ans Key: 3

**eng**

Area of hexagon = area of 6 equilateral triangles = area of 3 parallelogram = area of 2 equilateral triangle + area of 2 parallelogram.

Here area of equilateral triangle =  $4\sqrt{3}$  cm<sup>2</sup>So,  $\frac{\sqrt{3}}{4}(\text{side})^2 = 4\sqrt{3}$ 

So side will be 4

So, area of parallelogram = side × ht.

 $8\sqrt{3} = 4 \times \text{ht.}$ So h =  $2\sqrt{3}$  cm.**hi**

षट्भुज का क्षेत्रफल = 6 समबाहु त्रिभुज का क्षेत्रफल = 3 समांतर चतुर्भुज का क्षेत्रफल = 2 समबाहु त्रिभुज का क्षेत्रफल + 2 समांतर चतुर्भुज का क्षेत्रफल

अतः समबाहु त्रिभुज का क्षेत्रफल =  $4\sqrt{3}$  सेमी<sup>2</sup>

$$\text{अतः, } \frac{\sqrt{3}}{4} (\text{भुजा})^2 = 4\sqrt{3}$$

अतः भुजा 4 होगी

अतः समांतर चतुर्भुज का क्षेत्रफल = भुजा  $\times$  ऊँचाई

$$8\sqrt{3} = 4 \times \text{ऊँचाई}$$

$$\text{अतः } h = 2\sqrt{3} \text{ सेमी}$$

Q-56  
eng

Work done by A, B, C and D is in arithmetic progression. C, Worked for 9 days and completed 30% work. A and B worked for 2 days and 3 days only. Find for how many days 'D' work to complete the remaining work if all four together can complete that work in 4 days.

01. 12 days

02. 10 days

03. 6 days

04. None of these

05. 4 days

Q-56  
hi

A, B, C और D द्वारा किया गया कार्य समान्तर श्रेणी में है। C, 9 दिनों के लिए काम किया और 30% काम पूरा किया। A और B ने 2 दिन और 3 दिन ही काम किया। 'D' शेष कार्य को पूरा करने के लिए कितने दिनों काम करता है यदि सभी एक साथ मिलकर उस कार्य को 4 दिनों में पूरा कर सकते हैं।

01. 12 दिन

02. 10 दिन

03. 6 दिन

04. इनमें से कोई नहीं।

05. 4 दिन

Solution for Question 56

Ans Key: 5

eng

Let A, B C and D completed  $(a-2d)\%$ ,  $(a-d)\%$ ,  $a\%$  and  $(a+d)\%$  work

$$\text{So } 4a - 2d = 100\%$$

$$\text{But } a = 30\% \text{ so } d = 10\%$$

So A will complete whole work in 20 days

B will complete the whole work in 15 days

C will complete the whole work in 30 days

Let D will alone complete the work in d days then

$$4/20 + 4/15 + 4/30 + 4/d = 1$$

$$\text{We get } d = 10$$

So D will complete 100% work in 10 days

So 40% of work will be done in 4 days

hi

माना A, B C तथा D ने  $(a-2d)\%$ ,  $(a-d)\%$ ,  $a\%$  तथा  $(a+d)\%$  कार्य पूरा किया

$$\text{अतः } 4a - 2d = 100\%$$

$$\text{लेकिन } a = 30\% \text{ अतः } d = 10\%$$

अतः A 20 दिनों में पूरा कार्य पूरा करेगा

B 15 दिनों में पूरा कार्य पूरा करेगा

C 30 दिनों में पूरा कार्य पूरा करेगा

माना D अकेले d दिनों में काम करेगा

$$4/20 + 4/15 + 4/30 + 4/d = 1$$

$$\text{हम प्राप्त करेंगे } d = 10$$

अतः D 100% कार्य 10 दिनों में पूरा करेगा

अतः 40% कार्य 4 दिनों में किया जायेगा

Q-57  
eng

Shantanu bought some eggs at Rs.10 each. Out of these, some are rotten and some are fresh. He sold fresh eggs at 50% profit and rotten eggs at 20% loss. In total he earns 8% profit. Find the probability of selecting one fresh egg from total eggs.



$$(5x + 3x)/(90-v) = 10$$

$$(5x + 3x)/(90-2v) = 25$$

$$x = 70 ; v = 34$$

$$3x = 210$$

hi माना लम्बाई क्रमशः 5x तथा 3x है  
 $(5x + 3x)/(90-v) = 10$   
 $(5x + 3x)/(90-2v) = 25$   
 $x = 70 ; v = 34$   
 $3x = 210$

**Passage for Question 60, 61, 62, 63, 64 (ST-48 SBI(106-110))**  
 eng Passage

In each of the following questions is followed by three statements study the question and the statements and decide the information given in which of the statement(s) is/are necessary to answer the question ?

hi Passage

नीचे प्रत्येक प्रश्न में एक और उसके बाद तीन कथनों में जानकारी दी गई है। आप प्रश्न और कथनों का अध्ययन कीजिये और यह तय कीजिये कि कौन सा/से कथनों में दी गई जानकारी प्रश्न का उत्तर देने के लिये आवश्यक है/हैं ?

- Q-60** What is the speed of the train?  
 eng
- I. Length of the train is 300 meters.
  - II. The train crosses a platform of equal length in 54 sec.
  - III. The train crosses a signal pole in 18 sec.
- 01. Only I and II
  - 02. Only II and III
  - 03. Only I and (either II or III)
  - 04. Any two of the three
  - 05. None of these
- Q-60** रेलगाड़ी की चाल क्या है ?  
 hi
- I. रेलगाड़ी की लम्बाई 300 मी. है।
  - II. रेलगाड़ी अपनी लम्बाई के बराबर प्लेटफॉर्म को 54 सेकण्ड में पार करती है।
  - III. रेलगाड़ी एक खम्भे को 18 से. में पार करती है।
- 01. केवल I और II
  - 02. केवल II और III
  - 03. केवल I और या (II या III)
  - 04. तीनों में से कोई दो
  - 05. इनमें से कोई नहीं

**Solution for Question 60** Ans Key: 3

eng Only I and (either II or III)

hi केवल I और या (II या III)

- Q-61** What is the staff strength of company A?  
 eng
- I. Male and female employees are in ratio of 2 : 3 respectively.
  - II. The number of 80% male employees is 132.
  - III. Total number of officers is 264.
- 01. Only I and II
  - 02. Only I and III
  - 03. Only III
  - 04. All are not sufficient
  - 05. None of these
- Q-61** कंपनी A के कर्मचारियों की संख्या कितनी है ?  
 hi
- I. पुरुष और महिला कर्मचारियों का अनुपात क्रमशः 2 : 3 है।
  - II. 80% पुरुष कर्मचारियों की संख्या 132 है।
  - III. कुल अधिकारियों की संख्या 264 है।
- 01. केवल I और II
  - 02. केवल I और III
  - 03. केवल III
  - 04. सभी कथन पर्याप्त नहीं हैं

05. इनमें से कोई नहीं		Ans Key: 1
eng	With the use of I and II we can find out the total number of employees.	
hi	कथन I और II की सहायता से कुल कर्मचारियों की संख्या ज्ञात कर सकते हैं।	

Q-62 Find principle amount?	
eng	<p>I. The compound interest on the same sum for two years is 484.</p> <p>II. Rate of interest is 5%.</p> <p>III. The difference between compound interest and simple interest on that sum is Rs. 41.</p>
	<p>01. Only I</p> <p>02. Only II</p> <p>03. II with either I or III</p> <p>04. All are not sufficient</p> <p>05. None of these</p>

Q-62 धनराशि ज्ञात करें?	
hi	<p>I. चक्रवृद्धि ब्याज इसी धनराशि पर दो वर्षों में 484 रुपये है।</p> <p>II. ब्याज की दर 5% है।</p> <p>III. इसी धनराशि पर चक्रवृद्धि ब्याज और साधारण ब्याज का अंतर 41 रुपये है।</p>
	<p>01. केवल I</p> <p>02. केवल II</p> <p>03. II, I या III के साथ</p> <p>04. सभी कथन पर्याप्त नहीं हैं</p> <p>05. इनमें से कोई नहीं</p>

Solution for Question 62		Ans Key: 3
eng	II with either I or III	
hi	II, I या III के साथ	

Q-63 What is Neelu’s present age ?	
eng	<p>I. Neelu’s present age is 2/7 of her mother’s age.</p> <p>II. Neelu’s mother's age will be thrice Neha’s age after 5 years.</p> <p>III. Neha’s seventeenth birthday was celebrated three years before.</p>
	<p>01. Only I and II</p> <p>02. Only II and III</p> <p>03. Only I and III</p> <p>04. All statements are not sufficient</p> <p>05. All I,II and III</p>

Q-63 नीलू की वर्तमान आयु क्या है ?	
hi	<p>I. नीलू की वर्तमान आयु अपनी मां की आयु की 2/7 है।</p> <p>II. पांच वर्ष बाद नीलू की मां की आयु नेहा की आयु की तीन गुना होगी।</p> <p>III. तीन वर्ष पहले नेहा का सत्रहवां जन्मदिन मनाया गया है।</p>
	<p>01. केवल I और II</p> <p>02. केवल II और III</p> <p>03. केवल I और III</p> <p>04. सभी कथन पर्याप्त नहीं है</p> <p>05. सभी I, II और III</p>

Solution for Question 63		Ans Key: 5
eng	I, II and III are sufficient to answer	
hi	I, II और III से उत्तर ज्ञात हो सकता है	

Q-64 What are the dimensions of the rectangle ?	
eng	<p>I. The diagonal of the rectangle is 5cm.</p> <p>II. Area of the rectangle is 12cm<sup>2</sup></p> <p>III. The perimeter of the rectangle is 14 cm.</p>
	<p>01. Any two</p> <p>02. Only I and II</p> <p>03. Only II and III</p> <p>04. All three together are not sufficient</p> <p>05. All I,II and III</p>

Q-64 आयत की विमायें क्या है ?	
-------------------------------	--



- I. आयत का विकर्ण 5 सेमी है।  
 II. आयत का क्षेत्रफल 12 सेमी<sup>2</sup> है।  
 III. आयत का परिमाप 14 सेमी है।

01. कोई भी 2  
 02. केवल I और II  
 03. केवल II और III  
 04. सभी तीनों एक साथ भी पर्याप्त नहीं हैं  
 05. सभी I, II और III

Solution for Question 64		Ans Key: 1
eng	Any 2 can get us the dimensions of rectangle	
hi	कोई भी 2 से विमायें ज्ञात की जा सकती है	

**Q-65** Eng A boat can cover X km while going down upstream in same time in which it can cover (X-8) km while going up stream. If the difference between the distance covered in 1 hr. Downstream and upstream is 6 km and speed of boat in still water is 15 km/hr, then find the value of X.

01. 18 Km  
 02. 24 Km  
 03. 30 Km  
 04. 15 Km  
 05. Can not be determined

**Q-65** एक नाव X किमी. की दूरी तय कर सकती है जब यह धारा के अनुप्रवाह जाती है और यह समान समय में (X-8) किमी. की दूरी तय कर सकती है जब यह धारा के ऊर्ध्वप्रवाह जाती है। यदि 1 घंटे में अनुप्रवाह और ऊर्ध्वप्रवाह तय की गयी दूरियों में 6 किमी. का अन्तर है और स्थिर जल में नाव की चाल 15 किमी./घंटा है, तो X का मान ज्ञात कीजिए।

01. 18 किमी.  
 02. 24 किमी.  
 03. 30 किमी.  
 04. 15 किमी.  
 05. निर्धारित नहीं किया जा सकता है

Solution for Question 65		Ans Key: 2
eng	$\frac{D-u}{t} = \frac{6}{1} = 6 \text{ km/hr}$ $S = \frac{D-u}{2} = \frac{6}{2} = 3 \text{ km/hr}$ $D = 15 + 3 = 18 \text{ km/hr}$ $u = 15 - 3 = 12 \text{ km/hr}$ $\frac{x}{18} = \frac{x-8}{12}$ $x = 24 \text{ km}$	
hi	$\frac{D-u}{t} = \frac{6}{1} = 6 \text{ किमी./घं.}$ $S = \frac{D-u}{2} = \frac{6}{2} = 3 \text{ किमी./घं.}$ $D = 15 + 3 = 18 \text{ किमी./घं.}$ $u = 15 - 3 = 12 \text{ किमी./घं.}$ $\frac{x}{18} = \frac{x-8}{12}$ $x = 24 \text{ किमी.}$	

**Q-66** The sum of salary of three persons A,B and C is Rs. 72000. They spend 80, 85 and 75 percent of their salary respectively. If ratio of their savings is 8 : 9 : 20, what is A's salary?

01. 15000  
 02. 16000  
 03. 12000  
 04. 17500  
 05. Can not be determined

**Q-66** तीन व्यक्ति A,B और C जिनके वेतन का योग 72000 रुपये है, क्रमशः अपने वेतन का 80, 85 और 75 प्रतिशत खर्च कर देते हैं। यदि उनकी बचतों का अनुपात 8 : 9 : 20 हो तो A का वेतन कितना है?

01. 15000  
 02. 16000  
 03. 12000  
 04. 17500  
 05. निर्धारित नहीं किया जा सकता है

Solution for Question 66		Ans Key: 2
eng	$20 \text{ of } x : 15 \text{ of } y : 25 \text{ of } z = 8:9:20$ $x : y : z = 2:3:4$	

20 of x : 15 of y : 25 of z = 8:9:20

$x : y : z = 2:3:4$

x का हिस्सा =  $\frac{2}{9} \times 72000 = 16000$

**Q-67** The simple interest accrued on an amount of Rs. 8500 at the end of four years is Rs.3400. What would be the compound interest accrued on the same amount at the same rate of interest after three years?

- |                       |                       |
|-----------------------|-----------------------|
| <b>01.</b> 2348.50 Rs | <b>02.</b> 3214 Rs    |
| <b>03.</b> 2813.50 Rs | <b>04.</b> 2640.25 Rs |
| <b>05.</b> 2720.75 Rs |                       |

**Q-67** 8500 रुपये की राशि पर चार वर्ष के अंत में अर्जित साधारण ब्याज 3400 रुपये है। तीन वर्ष पश्चात उसी ब्याज दर पर समान राशि पर अर्जित चक्रवृद्धि ब्याज क्या होगा?

01. 2348.50 रु.  
02. 3214 रु.  
03. 2813.50 रु.  
04. 2640.25 रु.  
05. 2720.75 रु.

**Solution for Question 67** Ans Key: 3

$$r_p = \frac{3400}{4 \times 8500} \times 100 = 10\%$$

$$CI = 8500 \left[ \left( 1 + \frac{10}{100} \right)^3 - 1 \right] = 2813.5$$

$$r - r_f = \frac{3400}{4 \times 8500} \times 100 = 10\%$$

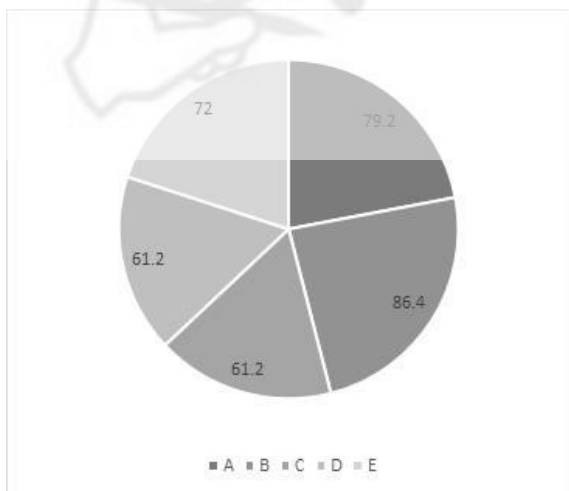
$$CI = 8500 \left[ \left( 1 + \frac{10}{100} \right)^3 - 1 \right] = 2813.5$$

**Passage for Question 68, 69, 70, 71 (ST-102 bank po (pre) Q-(2-5))**

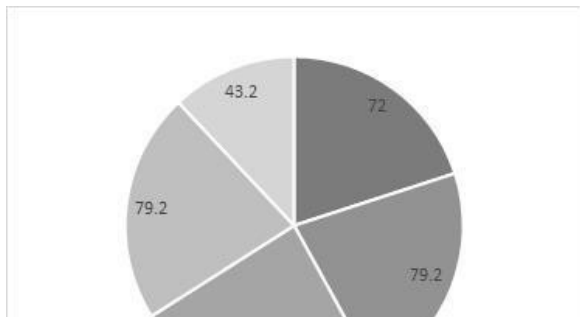
eng Passage

Study the following pie chart and answer the questions asked.

Break-up of items manufactured by machine M (in degree)

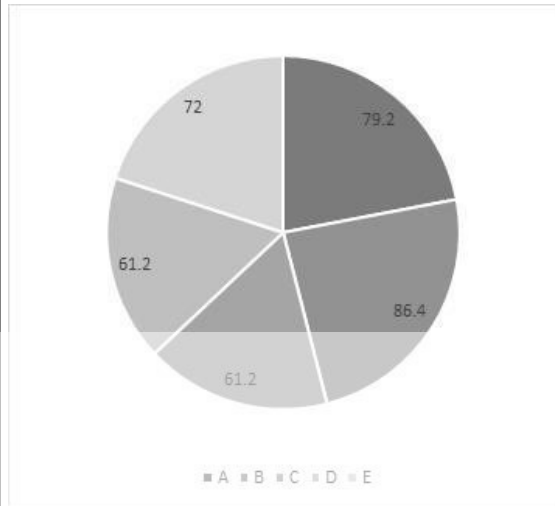


Break-up of all defective items produced (in degree)

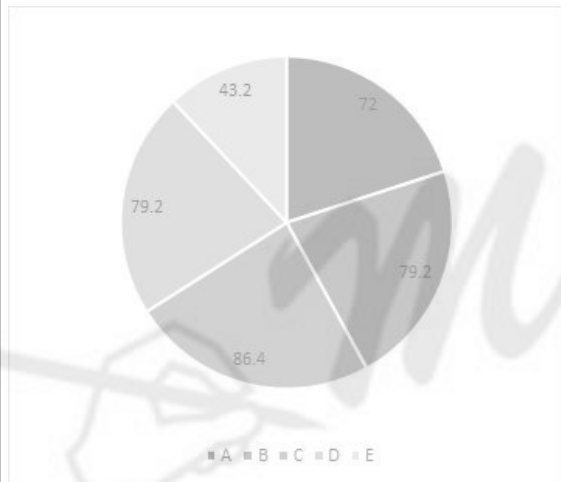




hi Passage  
निम्नलिखित पाई चार्ट का अध्ययन कीजिये और पूछे गये प्रश्नों के उत्तर दीजिये।  
मशीन M द्वारा निर्मित वस्तुओं का वितरण (डिग्री में)



कुल दोषपूर्ण उत्पादित वस्तुओं का वितरण (डिग्री में)



Q-68 What were the total number of items manufactured by machine M, if 612 units of item C were manufactured?  
eng

01. 2800
02. 3000
03. 3600
04. 4200
05. 4500

Q-68 यदि वस्तु C की 612 इकाइयाँ निर्मित की गयीं तो, मशीन M द्वारा निर्मित वस्तुओं की कुल संख्या थी?  
hi

01. 2800
02. 3000
03. 3600
04. 4200
05. 4500

Solution for Question 68 Ans Key: 3

Item	Break-up of items manufactured by machine M	Break-up of all defective items produced
A	22	20
B	24	22



eng	Data inadequate
hi	आंकड़े अपर्याप्त हैं

Q-71 eng	<p>If the number of items manufactured of E is a multiple of 15, then number of items manufactured of B will definitely be a multiple of-</p> <div> <div>01. 4</div> <div>02. 5</div> <div>03. 12</div> <div>04. 18</div> <div>05. 20</div> </div>
Q-71 hi	<p>यदि E की विनिर्मित वस्तुओं की संख्या 15 की गुणज है, तो B की विनिर्मित वस्तुओं की संख्या निश्चित रूप से एक गुणज होगी-</p> <div> <div>01. 4</div> <div>02. 5</div> <div>03. 12</div> <div>04. 18</div> <div>05. 20</div> </div>

Solution for Question 71		Ans Key: 4
eng	<p>Let the number of items of E be 15x E is 20% and B is 24% of total. <math>B = \frac{0.24}{0.20}</math> , <math>E = \frac{6}{5} \times 15x = 18x</math> Hence 18 times.</p>	
hi	<p>माना E के मदों की संख्या 15x है। E कुल का 20% और B कुल का 24% है। <math>B = \frac{0.24}{0.20}</math> , <math>E = \frac{6}{5} \times 15x = 18x</math> अतः 18 गुना।</p>	

Q-72 eng	<p>If 5 men and 3 women can complete a work in 15 days whereas 15 men and 9 women can complete this work in 5 days. Find in how many days 10 men and 6 women can complete this work?</p> <div> <div>01. 9 days</div> <div>02. 7.5 days</div> <div>03. 6 days</div> <div>04. 12.5 days</div> <div>05. None of these</div> </div>
Q-72 hi	<p>यदि 5 पुरुष और 3 महिला किसी कार्य को 15 दिन में समाप्त करते हैं और 15 पुरुष और 9 महिला किसी कार्य को 5 दिन में पूरा करते हैं   ज्ञात कीजिये की 10 पुरुष और 6 महिला इस कार्य को कितने दिन में समाप्त कर सकते हैं ?</p> <div> <div>01. 9 दिन</div> <div>02. 7.5 दिन</div> <div>03. 6 दिन</div> <div>04. 12.5 दिन</div> <div>05. इनमे से कोई नहीं</div> </div>

Solution for Question 72		Ans Key: 2
eng	<p>5M+3W =15 days 10M +6W =15/2 =7.5 days</p>	
hi	<p>5M+3W =15 दिन 10M +6W =15/2 =7.5 दिन</p>	

Q-73 eng	<p>In two vessels ratio of milk and water is 5:3 and 5:7 respectively. They are mixed together in 5:4 . Find the ratio of milk and water in the final mixture.</p> <div> <div>01. 77:63</div> <div>02. 101:91</div> <div>03. 107:93</div> <div>04. 115:101</div> <div>05. None of these</div> </div>
Q-73 hi	<p>दो पात्रों में दूध तथा पानी का अनुपात क्रमशः 5 : 3 तथा 5 : 7 है। इन्हें 5 : 4 के अनुपात में मिलाया जाता है। अन्तिम मिश्रण में दूध तथा पानी का अनुपात ज्ञात कीजिये।</p> <div> <div>01. 77:63</div> <div>02. 101:91</div> <div>03. 107:93</div> <div>04. 115:101</div> <div>05. इनमे से कोई नहीं</div> </div>



01. 81

02. 85

03. 79

04. 87

05. इनमें से कोई नहीं

### Solution for Question 76

Ans Key: 1

**eng** Let the smallest odd number be x  
Let the smallest even number be y  
Given,  $y - x = 11$  .....(i)  
 $(x + x + 2 + x + 4) + (y + y + 2 + y + 4) = 231$   
 $3x + 3y = 219$   
 $x + y = 73$ .....(ii)  
On, (i) + (ii)  
 $y = 42$   
 $x = 31$   
 $y + 4 + x + 4 = 81$

**hi** माना सबसे छोटी विषम संख्या x है।  
माना सबसे छोटी सम संख्या y है।  
दिया है,  $y - x = 11$  .....(i)  
 $(x + x + 2 + x + 4) + (y + y + 2 + y + 4) = 231$   
 $3x + 3y = 219$   
 $x + y = 73$ .....(ii)  
(i) + (ii) से  
 $y = 42$   
 $x = 31$   
 $y + 4 + x + 4 = 81$

**Q-77** Find the value of variables and state the correct relationship -

**eng**  $x^2 + 6.7x + 8.5 = 0$   
 $y^2 + y - 6 = 0$

01.  $x > y$

02.  $x > y$

03.  $x < y$

04.  $x < y$

05.  $x = y$  or relationship can not be established

**Q-77** चरों का मान ज्ञात कीजिये तथा सही सम्बन्ध स्थापित कीजिये -

**hi**  $x^2 + 6.7x + 8.5 = 0$   
 $y^2 + y - 6 = 0$

01.  $x > y$

02.  $x > y$

03.  $x < y$

04.  $x < y$

05.  $x = y$  या सम्बन्ध स्थापित नहीं किया जा सकता है

### Solution for Question 77

Ans Key: 5

**eng**  $x = -1.7, -5$   
 $y = 2, -3$

**hi**  $x = -1.7, -5$   
 $y = 2, -3$

**Q-78** Find the value of variables and state the correct relationship –

**eng**  $x^3 = 6859$   
 $y^2 = 357.21$

01.  $x > y$

02.  $x \geq y$

03.  $x < y$

04.  $x \leq y$

05.  $x = y$  or relationship can not be established

**Q-78** चरों का मान ज्ञात कीजिये तथा सही सम्बन्ध स्थापित कीजिये –

**hi**  $x^3 = 6859$



**02.**  $x \geq y$

03.  $x < y$  04.  $x \leq y$

05.  $x = y$  या सम्बन्ध स्थापित नहीं किया जा सकता है

### Solution for Question 80

Ans Key: 1

eng  $x = -6, -2.2$

$y = -7, -9$

hi  $x = -6, -2.2$

$y = -7, -9$

**Q-81** Recently, Attorney General of India has told the Centre that it must compensate states fully for the loss of Goods and Services Tax revenue during the coronavirus-induced lockdown. Who is the Attorney General of India?

eng

01. Tushar Mehta

02. Atanu Chakraborty

03. Rajiv Kumar

04. Ajay Bhushan Pandey

05. KK Venugopal

**Q-81** हाल ही में, भारत के अटॉर्नी जनरल ने केंद्र से कहा है कि उसे कोरोनावायरस-प्रेरित लॉकडाउन के दौरान माल और सेवा कर राजस्व के नुकसान के लिए राज्यों को पूरी तरह से क्षतिपूर्ति करनी चाहिए। भारत के महान्यायवादी कौन है?

hi

01. तुषार मेहता

02. अतनु चक्रवर्ती

03. राजीव कुमार

04. अजय भूषण पांडे

05. केके वेणुगोपाल

### Solution for Question 81

Ans Key: 5

eng The Attorney General for India is the central government's chief legal advisor, and its primary lawyer in the Supreme Court of India. He is a part of the Union Executive. He is appointed by the President of India under Article 76(1) of the Constitution. He must be a person qualified to be appointed as a Judge of the Supreme Court. He should be an Indian Citizen.

hi भारत के लिए अटॉर्नी जनरल केंद्र सरकार के मुख्य कानूनी सलाहकार हैं, और भारत के सर्वोच्च न्यायालय में इसके प्राथमिक वकील हैं। वह केंद्रीय कार्यकारी का एक हिस्सा है। वह भारत के राष्ट्रपति द्वारा संविधान के अनुच्छेद 76 (1) के तहत नियुक्त किया जाता है। उन्हें सर्वोच्च न्यायालय के न्यायाधीश के रूप में नियुक्त होने के लिए योग्य व्यक्ति होना चाहिए। उन्हें भारतीय नागरिक होना चाहिए।

**Q-82** NITI Aayog in partnership with the Institute of Competitiveness has released the Export Preparedness Index (EPI) 2020. EPI is the first report to examine export preparedness and performance of Indian states. The three best performing states are?

eng

01. Gujarat, Maharashtra and Tamil Nadu.

02. Gujarat, Madhya Pradesh and Maharashtra

03. Chhattisgarh, Tamilnadu and Assam

04. Uttar Pradesh, Gujarat and Nagaland

05. Gujarat, Chennai and Sikkim

**Q-82** प्रतिस्पर्धा संस्थान के साथ साझेदारी में NITI Aayog ने निर्यात तैयारी सूचकांक (EPI) 2020 जारी किया है। भारतीय राज्यों की निर्यात तैयारी और प्रदर्शन की जांच करने वाली पहली रिपोर्ट है। सर्वश्रेष्ठ प्रदर्शन करने वाले तीन राज्य हैं?

hi

01. गुजरात, महाराष्ट्र और तमिलनाडु

02. गुजरात, मध्य प्रदेश और महाराष्ट्र

03. छत्तीसगढ़, तमिलनाडु और असम

04. उत्तर प्रदेश, गुजरात और नागालैंड

05. गुजरात, चेन्नई और सिक्किम

### Solution for Question 82

Ans Key: 1

eng The index ranked states on four key parameters – policy; business ecosystem; export ecosystem; export performance. Top 3 states: Gujarat, Maharashtra and Tamil Nadu. Among the landlocked states, Rajasthan has performed the best, followed by Telangana and Haryana. Among the Himalayan states, Uttarakhand topped the chart, followed by Tripura and Himachal Pradesh. Across Union Territories/City States, Delhi has performed the best, followed by Goa and Chandigarh.

hi सूचकांक में राज्यों की रैंकिंग चार प्रमुख मापदंडों पर की गयी है – नीति, व्यवसाय परितंत्र, निर्यात परितंत्र, निर्यात निष्पादनासर्वश्रेष्ठ प्रदर्शन करने वाले तीन राज्य: गुजरात, महाराष्ट्र और तमिलनाडु। स्थलरुद्ध राज्यों में, राजस्थान का प्रदर्शन सर्वश्रेष्ठ रहा है जिसके बाद तेलंगाना और हरियाणा का स्थान है। हिमालयी राज्यों में, उत्तराखंड शीर्ष स्थान पर है जिसके बाद त्रिपुरा और हिमाचल प्रदेश का स्थान है। केंद्र शासित प्रदेशों में दिल्ली ने सर्वश्रेष्ठ प्रदर्शन किया है जिसके बाद गोवा और चंडीगढ़ हैं।

**Q-83** Where is Pampa River located?

eng

01. Maharashtra

02. Gujarat

03. Kerala

04. Uttarakhand

05. Arunachal Pradesh

**Q-83** पम्पा नदी कहाँ स्थित है?

hi

- |                    |               |
|--------------------|---------------|
| 01. महाराष्ट्र     | 02. गुजरात    |
| 03. केरल           | 04. उत्तराखंड |
| 05. अरुणाचल प्रदेश |               |

**Solution for Question 83**

Ans Key: 3

**eng** Pampa river (Also known as Pamba river) is the third longest river in Kerala after Periyar and Bharathappuzha. Sabarimala temple dedicated to Lord Ayyappa is located on the banks of the river. The river is also known as 'Dakshina Bhageerathi' and 'River Baris'.

**hi** पम्पा नदी केरल में पेरियार और भरतपुझा के बाद तीसरी सबसे लंबी नदी है। पम्पा नदी को 'पंबा नदी', 'दक्षिण भगीरथी' तथा 'बारिस नदी' (River Baris) के नाम से भी जाना जाता है। भगवान अयप्पा को समर्पित सबरीमाला मंदिर पम्पा नदी के तट पर स्थित है।

**Q-84** First Kisan Special Parcel Train flagged off from Devlali to \_\_\_\_.

eng

- |              |             |
|--------------|-------------|
| 01. Danapur  | 02. Dhanbad |
| 03. Dewas    | 04. Datia   |
| 05. Dhimapur |             |

**Q-84** पहली किसान स्पेशल पार्सल ट्रेन को देवलाली से \_\_\_\_ के लिए रवाना किया गया.

hi

- |             |           |
|-------------|-----------|
| 01. दानापुर | 02. धनबाद |
| 03. देवास   | 04. दतिया |
| 05. धिमापुर |           |

**Solution for Question 84**

Ans Key: 1

**eng** In the Union Budget 2020-21, Minister of Finance had made an announcement 'to build a seamless national cold supply chain for perishables, inclusive of milk, meat, and fish. It was also stated that the Indian Railways will set up a KISAN RAIL. Indian Railways is introducing first "Kisan Rail" from Devlali to Danapur. The train will provide seamless supply chain of Perishable produce.

**hi** केंद्रीय बजट २०२०-२१ में, वित्त मंत्री ने एक घोषणा की थी 'पेरिशबल के लिए एक निर्बाध राष्ट्रीय कोल्ड सप्लाय चैन बनाने के लिए, जिसमें दूध, मांस और मछली शामिल हैं। यह भी कहा गया था कि भारतीय रेलवे एक KISAN RAIL की स्थापना करेगा। भारतीय रेलवे पहले "किसान रेल" की शुरुआत देवलाली से दानापुर तक कर रही है। यह ट्रेन पेरिशबल उत्पादन की निर्बाध आपूर्ति श्रृंखला प्रदान करेगी।

**Q-85** (National Payment Corporation of India ) NPCI will build its smart data centre in which city at an investment cost of Rs. 500 crore?

eng

- |               |               |
|---------------|---------------|
| 01. Mumbai    | 02. Bengaluru |
| 03. New Delhi | 04. Hyderabad |
| 05. Gujarat   |               |

**Q-85** भारत का राष्ट्रीय भुगतान निगम (NPCI) 500 करोड़ रुपये की निवेश लागत पर किस शहर में अपना स्मार्ट डेटा सेंटर बनाएगा?

hi

- |               |              |
|---------------|--------------|
| 01. मुंबई     | 02. बेंगलुरु |
| 03. नई दिल्ली | 04. हैदराबाद |
| 05. गुजरात    |              |

**Solution for Question 85**

Ans Key: 4

**eng** The National Payment Corporation of India (NPCI), the umbrella organisation for operating retail payments and settlement systems in India, is all set to launch its own Smart Data Centre in Hyderabad. NPCI said it had chosen Telangana as it is one of fastest growing IT corridors in the country.

**hi** नेशनल पेमेंट कॉर्पोरेशन ऑफ इंडिया (NPCI), भारत में खुदरा भुगतान और निपटान प्रणाली के संचालन के लिए छतरी संगठन, हैदराबाद में अपना स्मार्ट डाटा सेंटर शुरू करने के लिए तैयार है। NPCI ने कहा कि उसने तेलंगाना को चुना था क्योंकि यह देश में सबसे तेजी से बढ़ती आईटी गलियारों में से एक है।

**Q-86** In order to attract tourists which state has launched the 'Intezar Aap ka' Campaign on social media?

eng

- |                    |                   |
|--------------------|-------------------|
| 01. Madhya Pradesh | 02. Uttar Pradesh |
| 03. Tripura        | 04. Goa           |
| 05. Uttarakhand    |                   |

**Q-86** पर्यटकों को आकर्षित करने के लिए किस राज्य ने सोशल मीडिया पर 'इंतेजार आप का' अभियान शुरू किया है?

hi

- |                 |                  |
|-----------------|------------------|
| 01. मध्य प्रदेश | 02. उत्तर प्रदेश |
|-----------------|------------------|

03. त्रिपुरा

04. गोवा

05. उत्तराखंड

### Solution for Question 86

Ans Key: 1

eng	Madhya Pradesh Tourism board has launched a campaign “Intzaar Aap Ka”. The campaign has been launched on social media platforms to attract tourists to the tourist places of the state. Through the campaign “Intzaar Aap Ka”, the Madhya Pradesh Tourism Board has been inviting tourists by describing about each tourist destination in an attractive way.
hi	मध्य प्रदेश पर्यटन बोर्ड ने एक अभियान "इंतेज़ार आपका" शुरू किया है। राज्य के पर्यटन स्थलों पर पर्यटकों को आकर्षित करने के लिए सोशल मीडिया प्लेटफार्मों पर अभियान शुरू किया गया है। मध्य प्रदेश पर्यटन बोर्ड ने "इंतेज़ार आपका" अभियान के माध्यम से, प्रत्येक पर्यटक गंतव्य के बारे में आकर्षक तरीके से वर्णन करके पर्यटकों को आमंत्रित किया है।

Q-87 What is the theme of the International Day of Cooperatives 2020?

eng

01. Cooperatives Enterprise Empowers Women 02. Choose Cooperatives choose equality  
03. Cooperatives for Climate Action 04. Cooperatives Enterprise Empowers People  
05. Public and Cooperative Legislation

Q-87 सहकारिता का अंतर्राष्ट्रीय दिवस 2020 की थीम क्या है?

hi

01. सहकारी उद्यम महिलाओं को सशक्त बनाता है 02. सहकारिता चुनें समानता चुनें  
03. जलवायु कार्रवाई के लिए सहकारिता 04. सहकारी उद्यम लोगों को सशक्त बनाता है  
05. सार्वजनिक और सहकारी विधान

### Solution for Question 87

Ans Key: 3

eng	International Day of Cooperatives is celebrated on 4 JULY 2020. This year the theme is 'Cooperatives For Climate Action'. It was chosen to address the threat of greenhouse gas emissions and global warming and to support Sustainable Development Goal (SDG) 13 on Climate Action.
hi	सहकारिता का अंतर्राष्ट्रीय दिवस 4 जुलाई 2020 को मनाया गया। इस वर्ष का विषय 'कोऑपरेटिव्स फॉर क्लाइमेट एक्शन' (जलवायु कार्रवाई के लिए सहकारिता) है। इसे ग्रीनहाउस गैस उत्सर्जन और ग्लोबल वार्मिंग के खतरे को संबोधित करने और जलवायु विकास के लिए सतत विकास लक्ष्य (एसडीजी) 13 का समर्थन करने के लिए चुना गया था।

Q-88 After Mizoram, which state Government has decided to ban commercial import and the sale of dog and dog meat?

eng

01. Sikkim 02. Assam  
03. Himachal Pradesh 04. Manipur  
05. Nagaland

Q-88 मिजोरम के बाद, किस राज्य सरकार ने कुत्ते और कुत्ते के मांस के वाणिज्यिक आयात और बिक्री पर प्रतिबंध लगाने का फैसला किया है?

hi

01. सिक्किम 02. असम  
03. हिमाचल प्रदेश 04. मणिपुर  
05. नगालैंड

### Solution for Question 88

Ans Key: 5

eng	The Nagaland government has decided to ban commercial import and the sale of dog and dog meat. The Mizoram government had taken a similar decision in March.
hi	नागालैंड सरकार ने कुत्ते और कुत्ते के मांस के व्यावसायिक आयात और बिक्री पर प्रतिबंध लगाने का फैसला किया है। मिजोरम सरकार ने मार्च में इसी तरह का निर्णय लिया था।

Q-89 Which ministry has launched “Chunauti”- Next Generation Startup Challenge Contest?

eng

01. Ministry of Electronics and Information Technology 02. Ministry of Commerce  
03. Ministry of Skill Development 04. Ministry of Women & Child Development  
05. Ministry of Jal Shakti

Q-89 हाल ही में, कौन से मंत्रालय द्वारा ‘चुनौती’ – नेक्सट जनरेशन स्टार्टअप चैलेंज प्रतियोगिता का शुभारम्भ किया गया है?

hi

01. इलेक्ट्रॉनिक्स और सूचना प्रौद्योगिकी मंत्रालय 02. वाणिज्य मंत्रालय  
03. कौशल विकास मंत्रालय 04. महिला एवं बाल विकास मंत्रालय  
05. जल शक्ति मंत्रालय

<b>Solution for Question 89</b>		Ans Key: 1
eng	To further boost startups and software products with special focus on Tier-II towns of India. Identify around 300 startups working in identified areas and provide them seed fund of upto Rs. 25 Lakh and other facilities.	
hi	भारत के टियर-2 शहरों पर विशेष ध्यान देने के साथ स्टार्टअप्स और सॉफ्टवेयर उत्पादों को और बढ़ावा देना। चिन्हित क्षेत्रों में काम कर रहे लगभग 300 स्टार्टअप्स की पहचान करना और उन्हें 25 लाख रुपये तक की प्रारंभिक राशि (सीड फंड) तथा अन्य सुविधाएं उपलब्ध कराना।	

<b>Q-90</b>	When was Pradhan Mantri Jan Dhan Yojana announced?	
eng		
	01. 15th August 2015	02. 26th January 2014
	03. 15th August 2016	04. 25th August 2014
	05. 15th August 2014	
<b>Q-90</b>	10 प्रधानमंत्री जन धन योजना की घोषणा कब की गई थी?	
hi		
	01. 15th August 2015	02. 26th January 2014
	03. 15th August 2016	04. 25th August 2014
	05. 15th August 2014	

<b>Solution for Question 90</b>		Ans Key: 5
eng	Announced on 15th August 2014, PMJDY is National Mission for Financial Inclusion to ensure access to financial services, namely, Banking/ Savings & Deposit Accounts, Remittance, Credit, Insurance, Pension in an affordable manner. Completes six years of successful implementation. The number of total PMJDY accounts stand at 40.35 crore. Rural PMJDY accounts stand at 63.6 percent. Women PMJDY accounts stand at 55.2 percent.	
hi	15 अगस्त 2014 को घोषित, PMJDY वित्तीय सेवाओं के लिए राष्ट्रीय मिशन है, जो कि वित्तीय सेवाओं, अर्थात्, बैंकिंग / बचत और जमा खातों, प्रेषण, क्रेडिट, बीमा, पेंशन को एक किफायती तरीके से उपयोग सुनिश्चित करने के लिए है। छह साल के सफल कार्यान्वयन को पूरा करता है। कुल PMJDY खातों की संख्या 40.35 करोड़ है। ग्रामीण पीएमजेडीवाई खाते 63.6 प्रतिशत हैं। महिला पीएमजेडीवाई 55.2 प्रतिशत है।	

<b>Q-91</b>	The term ‘Armageddon’ is associated with-	
eng		
	01. Chess	02. Hockey
	03. Table Tennis	04. Basketball
	05. Squash	
<b>Q-91</b>	'आर्मगेडन' शब्द किसके साथ जुड़ा हुआ है?	
hi		
	01. शतरंज	02. हॉकी
	03. टेबल टेनिस	04. बास्केटबाल
	05. स्क्वाश	

<b>Solution for Question 91</b>		Ans Key: 1
eng	Term is related with Chess. It's similar to a Super Over in cricket or a penalty shootout in hockey or football. In an Armageddon game White has more thinking time on the clock than Black but a draw on the board scores as a Black win. Normally White has five or six minutes and Black four or five for the entire game.	
hi	यह शब्द शतरंज से संबंधित है। यह क्रिकेट में सुपर ओवर के समान है या हॉकी या फुटबॉल में पेनल्टी शूटआउट है। आर्मगेडन गेम में व्हाइट की घड़ी की तुलना में ब्लैक पर अधिक सोचने का समय होता है, लेकिन ब्लैक जीत के रूप में बोर्ड स्कोर पर एक ड्रॉ होता है। आम तौर पर व्हाइट में पांच या छह मिनट होते हैं और पूरे खेल के लिए ब्लैक चार या पांच।	

<b>Q-92</b>	'Naku La' is situated in which state?	
eng		
	01. Sikkim	02. Ladakh
	03. Bhutan	04. Nepal
	05. Jammu & Kashmir	
<b>Q-92</b>	'नकु ला' किस राज्य में स्थित है?	
hi		
	01. सिक्किम	02. लद्दाख
	03. भूटान	04. नेपाल
	05. जम्मू और कश्मीर	

<b>Solution for Question 92</b>		Ans Key: 1
eng	Naku La sector is a pass at a height of more than 5,000 metres above Mean Sea Level (MSL) in the state of Sikkim. It is located ahead of	

Muguthang or Cho Lhamu (source of River Teesta). China has been developing two air defence positions that will cover the 2017 Doklam stand-off area and also Naku La in Sikkim.

**hi** नकुला सेक्टर सिक्किम राज्य में समुद्र तल से 5,000 मीटर से अधिक की ऊंचाई पर एक दर्रा है। यह मुगथांग या चो लामू (नदी तीस्ता का स्रोत) के आगे स्थित है। चीन दो वायु रक्षा पदों को विकसित कर रहा है जो 2017 डोकलाम स्टैंड-ऑफ क्षेत्र को कवर करेगा और सिक्किम में नकु ला भी।

**Q-93** Channapatna toys are a particular form of wooden toys (and dolls) that are manufactured in the town of Channapatna in the Ramanagara district of which state?  
**eng**

- |                      |                        |
|----------------------|------------------------|
| <b>01.</b> Nagaland  | <b>02.</b> Manipur     |
| <b>03.</b> Karnataka | <b>04.</b> West Bengal |
| <b>05.</b> Gujarat   |                        |

**Q-93** चन्नपटना खिलौने लकड़ी के खिलौने (और गुड़िया) का एक विशेष रूप है जो किस राज्य के रामनगर जिले के चन्नपटना शहर में निर्मित किए जाते हैं?  
**hi**

- |                    |                         |
|--------------------|-------------------------|
| <b>01.</b> नगालैंड | <b>02.</b> मणिपुर       |
| <b>03.</b> कर्नाटक | <b>04.</b> पश्चिम बंगाल |
| <b>05.</b> गुजरात  |                         |

**Solution for Question 93** Ans Key: 3

**eng** This traditional craft is protected as a geographical indication(GI).As a result of the popularity of these toys, Channapatna is known as Gombegala Ooru (toy-town) of Karnataka.

**hi** इस पारंपरिक शिल्प को एक भौगोलिक संकेत (GI) के रूप में संरक्षित किया जाता है। इन खिलौनों की लोकप्रियता के परिणामस्वरूप, चन्नापटना को कर्नाटक के गोम्बेगला ओरू (खिलौना-शहर) के रूप में जाना जाता है।

**Q-94** Which among the following country jointly conducts Avia Indra military exercise?  
**eng**

- |                             |                            |
|-----------------------------|----------------------------|
| <b>01.</b> India and France | <b>02.</b> India and China |
| <b>03.</b> India and Russia | <b>04.</b> India and Nepal |
| <b>05.</b> India and Japan  |                            |

**Q-94** निम्नलिखित में से कौन सा देश संयुक्त रूप से अविया इंद्र सैन्य अभ्यास आयोजित करता है?  
**hi**

- |                           |                          |
|---------------------------|--------------------------|
| <b>01.</b> भारत और फ्रांस | <b>02.</b> भारत और चीन   |
| <b>03.</b> भारत और रूस    | <b>04.</b> भारत और नेपाल |
| <b>05.</b> भारत और जापान  |                          |

**Solution for Question 94** Ans Key: 3

**eng** The service specific exercise AVIAINDRA held between Indian Air Force and Russian Federation Aerospace Force (RFSAF). The aim of this exercise is focused towards anti-terrorist operations in bi-lateral scenario.

**hi** सेवा विशिष्ट अभ्यास AVIAINDRA भारतीय वायु सेना और रूसी संघ एयरोस्पेस बल (RFSAF) के बीच आयोजित किया गया। इस अभ्यास का उद्देश्य द्वि-पार्श्व परिदृश्य में आतंकवाद विरोधी अभियानों की ओर केंद्रित है।

**Q-95** The Central Mechanical Engineering Research Institute(CSIR) is located in which state?  
**eng**

- |                           |                           |
|---------------------------|---------------------------|
| <b>01.</b> West Bengal    | <b>02.</b> Tamil Nadu     |
| <b>03.</b> Uttar Pradesh  | <b>04.</b> Madhya Pradesh |
| <b>05.</b> Andhra Pradesh |                           |

**Q-95** सेंट्रल मैकेनिकल इंजीनियरिंग रिसर्च इंस्टीट्यूट (CSIR) किस राज्य में स्थित है?  
**hi**

- |                         |                        |
|-------------------------|------------------------|
| <b>01.</b> पश्चिम बंगाल | <b>02.</b> तमिलनाडु    |
| <b>03.</b> उत्तर प्रदेश | <b>04.</b> मध्य प्रदेश |
| <b>05.</b> आंध्र प्रदेश |                        |

**Solution for Question 95** Ans Key: 1

**eng** The Central Mechanical Engineering Research Institute is a public engineering research and development institution in Durgapur, West Bengal, India. It is a constituent laboratory of the Indian Council of Scientific and Industrial Research.

**hi** CSIR-CMERI develops World's Largest Solar Tree.  
सेंट्रल मैकेनिकल इंजीनियरिंग रिसर्च इंस्टीट्यूट दुर्गापुर, पश्चिम बंगाल, भारत में एक सार्वजनिक इंजीनियरिंग अनुसंधान और विकास संस्थान है। यह भारतीय वैज्ञानिक और औद्योगिक अनुसंधान परिषद की एक घटक प्रयोगशाला है। CSIR-CMERI विश्व का सबसे बड़ा सौर वृक्ष विकसित करता है।

<b>Q-96</b> eng	What is the name of the scheme which provides training and skills to the women in traditional and non-traditional trades?
	<div><div>01. Kishori Shakti Yojna</div><div>02. Rashtriya Mahila Kosh</div><div>03. Swayamsiddha</div><div>04. Swawlamban</div><div>05. Swadhar</div></div>
<b>Q-96</b> hi	उस योजना का नाम क्या है जो पारंपरिक और गैर-पारंपरिक व्यापारों में महिलाओं को प्रशिक्षण और कौशल प्रदान करती है?
	<div><div>01. किशोरी शक्ति योजना</div><div>02. राष्ट्रीय महिला कोष</div><div>03. स्वयंसिद्ध</div><div>04. स्वावलंबन</div><div>05. स्वाधार</div></div>

<b>Solution for Question 96</b>		Ans Key: 4
eng	Swawlamban scheme is to provide skills that give employability to women. To provide competencies and skills that enable women to become self employed / entrepreneurs. This scheme is for socially distressed women and girls of the age group of 18-35 years, women from BPL families, women in moral danger, transgender communities.	
hi	स्वावलंबन योजना कौशल प्रदान करने के लिए है जो महिलाओं को रोजगार देती है। महिलाओं को स्वरोजगार / उद्यमी बनने के लिए सक्षमता और कौशल प्रदान करना यह योजना सामाजिक रूप से व्यथित महिलाओं और 18-35 वर्ष की आयु वर्ग की लड़कियों, बीपीएल परिवारों की महिलाओं, नैतिक खतरे में महिलाओं, ट्रांसजेंडर समुदायों के लिए है।	

<b>Q-97</b> eng	Who has been named the men's cricketer of the year at Cricket South Africa's (CSA) annual awards 2020?
	<div><div>01. Dean Elgar</div><div>02. Quinton de Kock</div><div>03. Kyle Abbott</div><div>04. Chris Morris</div><div>05. Kagiso Rabada</div></div>
<b>Q-97</b> hi	क्रिकेट दक्षिण अफ्रीका (CSA) के वार्षिक पुरस्कार 2020 में किसे वर्ष का पुरुष क्रिकेटर घोषित किया गया है?
	<div><div>01. डीन एल्गर</div><div>02. क्विंटन डी कॉक</div><div>03. काइल एबॉट</div><div>04. क्रिस मॉरिस</div><div>05. कगिसो रबाडा</div></div>

<b>Solution for Question 97</b>		Ans Key: 2
eng	White-ball skipper Quinton de Kock was named the men's 'cricketer of the year' at Cricket South Africa's (CSA) annual awards ceremony, held virtually due to COVID-19 pandemic. Pacer Lungi Ngidi was named ODI and T20 player of the year while David Miller was voted the fans' favourite player.	
hi	क्रिकेट दक्षिण अफ्रीका के (सीएसए) वार्षिक पुरस्कार समारोह में व्हाइट-बॉल के कप्तान क्विंटन डी कॉक को पुरुषों का 'क्रिकेटर ऑफ द ईयर' नामित किया गया था। पेसर लुंगी एनगिडी को साल का एकदिवसीय और टी 20 खिलाड़ी चुना गया, जबकि डेविड मिलर ने प्रशंसकों के पसंदीदा खिलाड़ी को वोट दिया।	

<b>Q-98</b> eng	Which social media platform has launched the campaign "It's Between You" in India?
	<div><div>01. Facebook</div><div>02. Telegram</div><div>03. Instagram</div><div>04. Whatsapp</div><div>05. Twitter</div></div>
<b>Q-98</b> hi	किस सोशल मीडिया प्लेटफॉर्म ने भारत में "इट्स बिटवीन यू" अभियान शुरू किया है?
	<div><div>01. फेसबुक</div><div>02. टेलीग्राम</div><div>03. इंस्टाग्राम</div><div>04. व्हाट्सएप</div><div>05. ट्विटर</div></div>

<b>Solution for Question 98</b>		Ans Key: 4
eng	Messaging giant WhatsApp has launched its first brand campaign 'It's Between You' in India that narrates real stories about how Indians communicate daily on WhatsApp 'in their closest relationships.'	
hi	मैसेजिंग गिगंट व्हाट्सएप ने भारत में अपना पहला ब्रांड अभियान 'इट्स बिट्स यू' लॉन्च किया है, जो वास्तविक कहानियों का वर्णन करता है कि कैसे भारतीय रोजाना अपने निकटतम संबंधों में व्हाट्सएप पर संवाद करते हैं।	

<b>Q-99</b> eng	Which of the following is not the function of RBI?
	<div><div>01. Custodian of foreign currency</div><div>02. Printing of currency</div></div>



03. Controller of credit

05. Banker to the Government

Q-99 निम्नलिखित में से कौन सा कार्य भारतीय रिज़र्व बैंक का नहीं है?

hi

01. विदेशी मुद्रा का कस्टोडियन

02. मुद्रा का मुद्रण

03. ऋण का नियंत्रक

04. सिक्कों का जारी होना

05. सरकार का बैंक

### Solution for Question 99

Ans Key: 4

eng

The Government of India has the sole right to mint coins. The responsibility for coinage vests with the Government of India in terms of the Coinage Act, 1906 as amended from time to time. The designing and minting of coins in various denominations is also the responsibility of the Government of India.

hi

भारत सरकार के पास सिक्कों का एकमात्र अधिकार है। सिक्का अधिनियम 1906 के संदर्भ में भारत सरकार के साथ समय-समय पर संशोधन के लिए सिक्के की जिम्मेदारी, विभिन्न संप्रदायों में सिक्कों की डिजाइनिंग और खनन भी भारत सरकार की जिम्मेदारी है।

Q-100

eng

The Reserve Bank of India (RBI) has released the Monetary Policy Report for the month of August 2020. The central bank kept the repo rate unchanged at what percent?

01. 3%

02. 3.35%

03. 4%

04. 4.25%

05. 5%

Q-100

hi

भारतीय रिज़र्व बैंक (RBI) ने अगस्त 2020 के लिए मौद्रिक नीति रिपोर्ट जारी की है। केंद्रीय बैंक ने रेपो दर को कितने प्रतिशत पर अपरिवर्तित रखा है?

01. 3%

02. 3.35%

03. 4%

04. 4.25%

05. 5%

### Solution for Question 100

Ans Key: 3

eng

The RBI kept the repo rate unchanged at 4%, reverse repo rate at 3.35%, and marginal standing facility (MSF) rate and the Bank Rate at 4.25%.

hi

RBI ने रेपो रेट को 4%, रिवर्स रेपो रेट को 3.35% और मार्जिनल स्टैंडिंग फैसिलिटी (MSF) की दर और बैंक रेट को 4.25% पर अपरिवर्तित रखा।

Q-101

eng

Free and compulsory education is provided to the children who are in between which of the following years?

01. 5 to 13 years

02. 8 to 16 years

03. 7 to 15 years

04. 6 to 14 years

05. 6 to 18 years

Q-101

hi

निःशुल्क और अनिवार्य शिक्षा उन बच्चों को प्रदान की जाती है जो निम्नलिखित में से किस वर्ष के बीच में हैं?

01. 5 से 13 साल

02. 8 से 16 साल

03. 7 से 15 साल

04. 6 से 14 साल

05. 6 से 18 साल

### Solution for Question 101

Ans Key: 4

eng

The Constitution (Eighty-sixth Amendment) Act, 2002 inserted Article 21-A in the Constitution of India to provide free and compulsory education of all children in the age group of six to fourteen years as a Fundamental Right in such a manner as the State may, by law, determine.

hi

संविधान (86 वां संशोधन) अधिनियम, 2002 ने भारत के संविधान में अनुच्छेद 21-ए को छह से चौदह वर्ष की आयु के सभी बच्चों को निःशुल्क और अनिवार्य शिक्षा प्रदान करने के लिए एक मौलिक अधिकार के रूप में राज्य के रूप में इस तरह से सम्मिलित किया जा सकता है।

Q-102

eng

Rani Rampal is an Indian hockey player. She She became the first Indian woman to win an Rajiv Gandhi Khel Ratna Award 2020. She belongs to which of the following states?

01. Telangana

02. Odisha

03. Madhya Pradesh

04. Karnataka

05. Haryana

Q-102

hi

रानी रामपाल एक भारतीय हॉकी खिलाड़ी हैं। वह राजीव गांधी खेल रत्न पुरस्कार 2020 जीतने वाली पहली भारतीय महिला बनीं। वह निम्नलिखित में से किस राज्य की हैं?

- |                 |             |
|-----------------|-------------|
| 01. तेलंगाना    | 02. ओडिशा   |
| 03. मध्य प्रदेश | 04. कर्नाटक |
| 05. हरियाणा     |             |

### Solution for Question 102

Ans Key: 5

eng	Rani Rampal is an Indian field hockey player from Shahbad(Haryana).At the age of 15, she was the youngest player in the national team which participated in the 2010 World Cup. For Rani Rampal, the first woman hockey player to get the Rajiv Gandhi Khel Ratna, India's highest sports honour. Only male hockey stars Dhanraj Pillay and Sardar Singh have received Khel Ratna. Rani is among the five chosen this year - Rohit Sharma (cricket), Vinesh Phogat (wrestling), Mariyappan Thangavelu (para athletics) and Manika Batra (table tennis) are the others.
hi	रानी रामपाल शाहबाद (हरियाणा) की एक भारतीय फील्ड हॉकी खिलाड़ी हैं। 15 वर्ष की आयु में, वह राष्ट्रीय टीम में सबसे कम उम्र की खिलाड़ी थीं, जिन्होंने 2010 विश्व कप में भाग लिया था। रानी रामपाल, राजीव गांधी खेल रत्न, भारत का सर्वोच्च खेल सम्मान है, पाने वाली पहली महिला खिलाड़ी है। आमतौर पर पुरुष हॉकी सितारों धनराज पिल्ले और सरदार सिंह को खेल रत्न प्राप्त हुआ है। रानी इस साल चुने गए पांच खिलाड़ियों में से हैं - रोहित शर्मा (क्रिकेट), विनेश फोगट (कुस्ती), मरियप्पन थंगावेलु (पैरा एथलेटिक्स) और मनिका बत्रा (टेबल टेनिस)।

**Q-103** What is the minimum amount required to open an account under Sukanya Samriddhi Yojana (SSY)?

eng

- |              |             |
|--------------|-------------|
| 01. Rs 550   | 02. Rs 450  |
| 03. Rs. 750  | 04. Rs. 250 |
| 05. Rs. 1000 |             |

**Q-103** सुकन्या समृद्धि योजना (SSY) के तहत खाता खोलने के लिए आवश्यक न्यूनतम राशि क्या है?

hi

- |            |           |
|------------|-----------|
| 01. 550 ₹  | 02. 450 ₹ |
| 03. 750 ₹  | 04. 250 ₹ |
| 05. 1000 ₹ |           |

### Solution for Question 103

Ans Key: 4

eng	Sukanya Samriddhi Account (Girl Child Prosperity Account) is a Government of India backed saving scheme targeted at the parents of girl children. The scheme encourages parents to build a fund for the future education and marriage expenses for their female child. The scheme was launched by Prime Minister Narendra Modi on 22 January 2015 as a part of the Beti Bachao, Beti Padhao campaign. The scheme currently provides an interest rate of 7.6%(for Apr-July 2020 quarter) and tax benefits.
hi	सुकन्या समृद्धि खाता (गर्ल चाइल्ड प्रॉस्पेरिटी अकाउंट) भारत सरकार की एक समर्थित बचत योजना है, जो बालिकाओं के माता-पिता के लिए लक्षित है। यह योजना माता-पिता को भविष्य की शिक्षा और उनकी महिला बच्चे के लिए शादी के खर्च के लिए एक कोष बनाने के लिए प्रोत्साहित करती है। इस योजना को प्रधानमंत्री नरेंद्र मोदी द्वारा 22 जनवरी 2015 को बेटी बचाओ, बेटी पढ़ाओ अभियान के एक भाग के रूप में शुरू किया गया था। वर्तमान में यह योजना 7.6% की ब्याज दर (अप्रैल-जुलाई 2020 तिमाही के लिए) और कर लाभ प्रदान करती है।

**Q-104** SuM4All initiative, sometimes seen news is related to which of the following global initiatives?

eng

- |  |   |
|--|---|
| 01. Sustainable Development Goals (SDGs) | 02. World Bank's Multi-Country AIDS Programme |
| 03. Climate Action Plan (CAP)            | 04. Health Action Plan                        |
| 05. Carbon Emission Action Plan          |   |

**Q-104** प्रायः समाचारों में चर्चित “SuM4All” पहल, निम्नलिखित में से किस वैश्विक पहल से संबंधित है?

hi

- |                                 |   |
|---------------------------------|---|
| 01. सतत विकास लक्ष्य (SDGs)     | 02. विश्व बैंक का मल्टी कंट्री एड्स प्रोग्राम |
| 03. जलवायु कार्य योजना (CAP)    | 04. स्वास्थ्य कार्य योजना                     |
| 05. कार्बन उत्सर्जन कार्य योजना |   |

### Solution for Question 104

Ans Key: 1

eng	Not a single country — developed or developing — is on track to achieve sustainability in the transportation sector and attain the Sustainable Development Goals (SDGs) mandated by the United Nations, according to a report by Sustainable Mobility for All (SuM4All) initiative. The SuM4All initiative, launched in 2017, is an umbrella platform that brings together 55 public and private organisations and companies to act collectively to implement the SDGs and transform the transport sector. The report, charted a Global Roadmap for Action (GRA), which provides a catalogue of policy measures that have been used and tested around the world to achieve four policy goals — universal access, efficiency, green mobility and safety.
hi	सस्टेनेबल मोबिलिटी फॉर ऑल (Sustainable Mobility for All: SuM4L) पहल की एक रिपोर्ट के अनुसार, परिवहन क्षेत्र में संधारणीयता प्राप्त करने और संयुक्त राष्ट्र द्वारा निर्धारित सतत विकास लक्ष्यों (Sustainable Development Goals: SDGs) को प्राप्त करने की दिशा में विकसित या विकासशील देशों में कोई भी प्रगति नहीं कर रहे हैं। SuM4All पहल 2017 में शुरू की गई, जो एक अम्ब्रेला प्लेटफॉर्म है जो 55 सार्वजनिक और निजी संगठनों तथा कंपनियों को SDGs को लागू करने और परिवहन क्षेत्र में व्यापक सुधार करने के लिए एकजुट करता है। रिपोर्ट में, एक ग्लोबल रोडमैप फॉर एक्शन (Global Roadmap for Action: GRA) प्रस्तावित करती है, जो नीतिगत उपायों का एक कैटलॉग प्रदान करता है, जिनका उपयोग विश्व भर में चार नीतिगत लक्ष्यों यथा सार्वभौमिक पहुंच, दक्षता, हरित गतिशीलता और सुरक्षा (universal access, efficiency, green mobility and safety) को प्राप्त करने के लिए किया जाता है।

**Q-105** Bhaskar Avhad who passed away recently was a veteran \_\_\_\_\_?

eng

01. Singer

02. Journalist

03. Businessman

04. Advocate

05. Musician

**Q-105** भास्कर अवहद जिनका हाल ही में निधन हो गया था, वह \_\_\_\_\_ थे?

hi

01. गायक

02. पत्रकार

03. व्यवसायी

04. वकील

05. संगीतकार

**Solution for Question 105**

Ans Key: 4

eng

Senior advocate and author Bhaskarrao Avhad passed away. He was 78.

hi

वरिष्ठ अधिवक्ता और लेखक भास्करराव अवहद का निधन हो गया। वह 78 वर्ष के थे।

**Q-106** Name the climate activist from India who has been named in the UN Chief's New Youth Advisory Group on Climate Change?

eng

01. Sudha Jha

02. Archana Soreng

03. Meena Kumari

04. Preeti Nangia

05. Rita Verma

**Q-106** भारत के जलवायु कार्यकर्ता का नाम संयुक्त राष्ट्र प्रमुख के नए युवा सलाहकार समूह में जलवायु परिवर्तन पर नामित किया गया है?

hi

01. सुधा झा

02. अर्चना सोरेंग

03. मीना कुमारी

04. प्रीति नांगिया

05. रीता वर्मा

**Solution for Question 106**

Ans Key: 2

eng

Indian climate activist Archana Soreng named by UN chief to new advisory group.

hi

भारतीय जलवायु कार्यकर्ता अर्चना सोरेंग को संयुक्त राष्ट्र प्रमुख ने नए सलाहकार समूह का नाम दिया है।

**Q-107** Which venue in Haryana has been chosen to host the fourth edition of the Khelo India Youth Games?

eng

01. Ambala

02. Karnal

03. Rohtak

04. Panchkula

05. Hisar

**Q-107** हरियाणा के किस स्थान को खेलो इंडिया यूथ गेम्स के चौथे संस्करण की मेजबानी के लिए चुना गया है?

hi

01. अंबाला

02. करनाल

03. रोहतक

04. पंचकुला

05. हिसार

**Solution for Question 107**

Ans Key: 4

eng

Panchkula in Haryana will be hosting the 4th edition of Khelo India Youth Games, Sports Minister Kiren Rijiju announced along with state's Chief Minister Manohar Lal Khattar.

hi

हरियाणा में पंचकुला में खेलो इंडिया यूथ गेम्स के चौथे संस्करण की मेजबानी की जाएगी, खेल मंत्री किरन रिजिजू ने राज्य के मुख्यमंत्री मनोहर लाल खट्टर के साथ घोषणा की।

**Q-108** How much grant has been given to India by Asian Development Bank (ADB) to combat COVID-19?

eng

01. \$ 1 million

02. \$ 4 million

03. \$ 3 million

04. \$ 5 million

05. \$ 10 million

**Q-108** COVID -19 का मुकाबला करने के लिए एशियाई विकास बैंक (ADB) द्वारा भारत को कितना अनुदान दिया गया है?

hi

01. \$ 1 मिलियन

02. \$ 4 मिलियन

03. \$ 3 मिलियन

04. \$ 5 मिलियन

## Solution for Question 108

Ans Key: 3

eng	Multilateral funding agency ADB said it has approved USD 3 million (about Rs 22 crore) grant to India from its Asia Pacific Disaster Response Fund to further support the government's emergency response to COVID-19 pandemic. The grant, which is financed by the Japanese government, will be used to procure thermal scanners and essential commodities to strengthen the India's COVID-19 response.
hi	बहुपक्षीय वित्त पोषण एजेंसी एडीबी ने कहा कि उसने COVID-19 महामारी के लिए सरकार की आपातकालीन प्रतिक्रिया का समर्थन करने के लिए अपने एशिया प्रशांत आपदा प्रतिक्रिया कोष से भारत को 3 मिलियन अमरीकी डालर (लगभग 22 करोड़ रुपये) का अनुदान स्वीकृत किया है, जो कि जापानी सरकार द्वारा वित्तपोषित है। भारत के COVID-19 प्रतिक्रिया को मजबूत करने के लिए थर्मल स्कैनर और आवश्यक वस्तुओं की खरीद के लिए इस्तेमाल किया जाएगा।

**Q-109** What is the extended deadline after which hallmarking of Gold Jewellery will be mandatory?

eng

- |                       |                  |
|-----------------------|------------------|
| 01. March 31, 2021    | 02. May 1, 2021  |
| 03. November 30, 2021 | 04. June 1, 2021 |
| 05. March 1, 2022     |                  |

**Q-109** विस्तारित समय सीमा क्या है जिसके बाद गोल्ड ज्वेलरी की हॉलमार्किंग अनिवार्य होगी?

hi

- |                    |                 |
|--------------------|-----------------|
| 01. 31 मार्च, 2021 | 02. 1 मई, 2021  |
| 03. 30 नवंबर, 2021 | 04. 1 जून, 2021 |
| 05. 1 मार्च, 2022  |                 |

## Solution for Question 109

Ans Key: 4

eng	The government has extended deadline for mandatory hallmarking of gold jewellery and artefacts by over four months till June 1, 2021, in the wake of the ongoing Covid-19 pandemic, Consumer Affairs Minister Ram Vilas Paswan said.
hi	उपभोक्ता मामलों के मंत्री रामविलास पासवान ने कहा कि सरकार ने चल रहे कोविड -19 महामारी के मद्देनजर 1 जून, 2021 तक सोने के आभूषण और कलाकृतियों की अनिवार्य हॉलमार्किंग की समय सीमा बढ़ा दी है।

**Q-110** Which of the following has partnered with National Skill Development Corporation (NSDC) to train rural youth for financial services jobs?

eng

- |                                |                          |
|--------------------------------|--------------------------|
| 01. Ujjivan Small Finance Bank | 02. Fino Payments Bank   |
| 03. Utkarsh Small Finance Bank | 04. Airtel Payments Bank |
| 05. AU Small Finance Bank      |                          |

**Q-110** निम्नलिखित में से किसने राष्ट्रीय कौशल विकास निगम (NSDC) के साथ ग्रामीण युवाओं को वित्तीय सेवा नौकरियों के लिए प्रशिक्षित करने के लिए भागीदारी की है?

hi

- |                            |                          |
|----------------------------|--------------------------|
| 01. उज्जीवन लघु वित्त बैंक | 02. फिनो पेमेंट्स बैंक   |
| 03. उत्कर्ष लघु वित्त बैंक | 04. एयरटेल पेमेंट्स बैंक |
| 05. एयू स्मॉल फाइनेंस बैंक |                          |

## Solution for Question 110

Ans Key: 4

eng	Airtel Payments Bank Ltd has joined hands with National Skill Development Corporation (NSDC) in a bid to train and skill youth from rural areas on financial services, helping them to find jobs and become entrepreneurs in the sector.
hi	एयरटेल पेमेंट्स बैंक लिमिटेड ने वित्तीय सेवाओं पर ग्रामीण क्षेत्रों के युवाओं को प्रशिक्षित करने और उन्हें रोजगार खोजने में मदद करने के लिए राष्ट्रीय कौशल विकास निगम (एनएसडीसी) के साथ हाथ मिलाया है, जिससे उन्हें इस क्षेत्र में रोजगार मिल सके और वे उद्यमी बन सकें।

**Q-111** What is the theme of World Hepatitis Day 2020?

eng

- |                                     |                                 |
|-------------------------------------|---------------------------------|
| 01. Invest in eliminating hepatitis | 02. Hepatitis-free future       |
| 03. Find the Missing Millions       | 04. Eliminate hepatitis by 2030 |
| 05. Hepatitis-free India            |                                 |

**Q-111** विश्व हेपेटाइटिस दिवस 2020 का विषय क्या है?

hi

- |  |                                     |
|--|-------------------------------------|
| 01. हेपेटाइटिस को खत्म करने में निवेश करें | 02. हेपेटाइटिस-मुक्त भविष्य         |
| 03. फाइंड द मिसिंग मिलियन्स                | 04. 2030 तक हेपेटाइटिस को खत्म करें |
| 05. हेपेटाइटिस-मुक्त भारत                  |                                     |

## Solution for Question 111

Ans Key: 3

eng	World Hepatitis Day (WHD) takes places every year on 28 July bringing the world together under a single theme to raise awareness of the global burden of viral hepatitis and to influence real change. In 2020 the theme is 'Find the Missing Millions'.
-----	--

Q-112	Who is the author of the book 'Greenlights' going to be published in October 2020?	
	eng	
	01. Harper Lee	02. Mark Twain
	03. Matthew McConaughey	04. John Steinbeck
Q-112	05. Gary Oldman	
	अक्टूबर 2020 में प्रकाशित होने वाली पुस्तक 'ग्रीनलाइट्स' के लेखक कौन हैं?	
hi		
	01. हार्पर ली	02. मार्क ट्वेन
	03. मैथ्यू मैककॉनौघे	04. जॉन स्टीनबेक
	05. गैरी ओल्डमैन	
Solution for Question 112		
Ans Key: 3		
eng	Oscar winning actor Matthew McConaughey to release first memoir 'Greenlights'.	
hi	ऑस्कर विजेता अभिनेता मैथ्यू मैककोनाघी ने पहला संस्मरण 'ग्रीनलाइट्स' जारी किया।	

Q-113	Where is Kakrapar nuclear power plant situated which has become the first indigenous nuclear reactor to attain criticality?	
eng		
	01. Udaipur	02. Surat
	03. Meerut	04. Patna
	05. Chennai	
Q-113	काकरापार परमाणु ऊर्जा संयंत्र कहाँ स्थित है जो महत्वपूर्णता प्राप्त करने वाला पहला स्वदेशी परमाणु रिएक्टर बन गया है?	
hi		
	01. उदयपुर	02. सूरत
	03. मेरठ	04. पटना
	05. चेन्नई	
Solution for Question 113		
Ans Key: 2		
eng	The third unit of Kakrapar Atomic Power Station is a 700 MWe capacity Pressurised Heavy Water Reactor (PHWR) and is located in the Tapi district of Gujarat. This Kakrapar 3 plant is fully indigenous, making Aatma Nirbhar Bharat a reality. The first two units of Kakrapar power plant were based on Canadian technology.	
hi	काकरापार परमाणु ऊर्जा स्टेशन की तीसरी इकाई एक 700 मेगावाट क्षमता का दबावयुक्त भारी जल रिएक्टर (PHWR) है और यह गुजरात के तापी जिले में स्थित है। यह काकरापार ३ पूरी तरह से स्वदेशी है, जिससे आचार निर्भर भारत को एक वास्तविकता बना दिया गया है। काकरापार पावर प्लांट की पहली दो इकाइयां कनाडा की तकनीक पर आधारित थीं।	

Q-114	By which year will the Indian Railways begin using Radio-Frequency Identification Tags (RFID) for tracking all wagons?	
	eng	
	01. 2022	02. 2023
	03. 2024	04. 2025
	05. 2026	
Q-114	किस वर्ष तक भारतीय रेलवे सभी वैगनों को ट्रैक करने के लिए रेडियो-फ्रीक्वेंसी आइडेंटिफिकेशन टैग (RFID) का उपयोग शुरू कर देगी?	
	hi	
	01. 2022	02. 2023
	03. 2024	04. 2025
	05. 2026	
Solution for Question 114		
Ans Key: 1		
eng	The Indian Railways is fitting radio-frequency identification tags (RFID) in all the wagons. These tags will be used for tracking the wagons. Railways is planning to complete tagging all wagons by December 2022.Using RFID devices will be easier for the railways to know the exact position of all the wagons, locomotives and coaches.	
	hi	
hi	भारतीय रेलवे सभी वैगनों में रेडियो-फ्रीक्वेंसी पहचान टैग (RFID) लगा रही है। इन टैग का उपयोग वैगनों को ट्रैक करने के लिए किया जाएगा। रेलवे दिसंबर 2022 तक सभी वैगनों को पूरा करने की योजना बना रहा है। रेलवे के लिए सभी वैगनों, इंजनों और कोचों की सही स्थिति जानने के लिए आरएफआईडी उपकरणों का उपयोग करना आसान होगा।	

Q-115	In the name of whom did the Rajya Sabha secretariat launched an Employees’ Welfare Scheme?	
	eng	

01. Arun Jaitley
02. Sushma Swaraj
03. Atal Bihari Vajpayee
04. Sheila Dikshit
05. Amar Singh

**Q-115** राज्यसभा सचिवालय ने किसके नाम पर एक कर्मचारी कल्याण योजना शुरू की?

hi

01. अरुण जेटली
02. सुषमा स्वराज
03. अटल बिहारी वाजपेयी
04. शीला दीक्षित
05. अमर सिंह

### Solution for Question 115

Ans Key: 1

**eng** The Rajya Sabha Secretariat has launched an employees' welfare scheme in the name of late Arun Jaitley which will be funded by the pension his family receives as he has been a member of the upper house. The scheme seeks to benefit group 'C' employees of the secretariat by awarding their children three scholarships for higher technical and professional education. Besides, the employees will be extended financial support in case of death and medical emergency.

**hi** राज्य सभा सचिवालय ने स्वर्गीय अरुण जेटली के नाम पर एक कर्मचारी कल्याण योजना शुरू की है, जो उनके परिवार द्वारा प्राप्त पेंशन से वित्त पोषित होगी क्योंकि वह उच्च सदन के सदस्य रहे हैं। यह योजना सचिवालय के समूह 'सी' के कर्मचारियों को उनके बच्चों को उच्च तकनीकी और व्यावसायिक शिक्षा के लिए तीन छात्रवृत्ति प्रदान करके लाभान्वित करना चाहती है। इसके अलावा, कर्मचारियों को मृत्यु और चिकित्सा आपातकाल के मामले में वित्तीय सहायता दी जाएगी।

**Q-116** Who will head the committee formed by the HRD Ministry to form guidelines and suggest measures to ensure that more students study in India?

eng

01. Krishna Verma
02. DP Singh
03. Vivek Rana
04. YS Reddy
05. Anita Singh

**Q-116** मानव संसाधन विकास मंत्रालय द्वारा गठित समिति का दिशा-निर्देश कौन देगा और यह सुनिश्चित करने के उपाय सुझाएगा कि भारत में और अधिक छात्र अध्ययन करें?

hi

01. कृष्ण वर्मा
02. डीपी सिंह
03. विवेक राणा
04. वाईएस रेड्डी
05. अनीता सिंह

### Solution for Question 116

Ans Key: 2

**eng** Mr. Ramesh Pokhriyal 'Nishank', Union Minister of Human Resource Development announced that the ministry has set up a committee headed by UGC Chairman, D.P. Singh to form guidelines and suggest measures to ensure that more students study in India and there is a smooth transition for students returning from abroad due to COVID-19 situation. In addition to these, the committee will recommend mechanisms to increase the intake in well-performing universities.

**hi** केंद्रीय मानव संसाधन विकास मंत्री श्री रमेश पोखरियाल 'निशंक' ने घोषणा की, मंत्रालय ने यूजीसी के अध्यक्ष, डीपी सिंह की अध्यक्षता में एक समिति का गठन किया है, जो दिशा-निर्देश बनाने और यह सुनिश्चित करने के लिए उपाय सुझाएगा कि भारत में अधिक से अधिक छात्र अध्ययन करें।

**Q-117** The Competition Commission of India has approved the acquisition of Krishnapatnam Port Company Limited with whom?

eng

01. Adani Ports & SEZ
02. Dredging Corp
03. Jawaharlal Nehru Port Trust
04. Gujarat Pipavav
05. Visakhapatnam Special Economic Zone

**Q-117** भारतीय प्रतिस्पर्धा आयोग ने कृष्णापटनम पोर्ट कंपनी लिमिटेड के अधिग्रहण की मंजूरी किसके साथ दी है?

hi

01. अदानी पोर्ट्स और एसईजेड
02. ड्रेजिंग कॉर्प
03. जवाहरलाल नेहरू पोर्ट ट्रस्ट
04. गुजरात पिपावाव
05. विशाखापत्तनम विशेष आर्थिक क्षेत्र

### Solution for Question 117

Ans Key: 1

**eng** India's fair trade regulator, Competition Commission of India (CCI) has approved acquisition of Krishnapatnam Port Company Limited by Adani Ports and Special Economic Zone Limited (APSEZ).

**hi** भारत के निष्पक्ष व्यापार नियामक, प्रतिस्पर्धा आयोग (CCI) ने अदानी पोर्ट्स एंड स्पेशल इकोनॉमिक ज़ोन लिमिटेड (APSEZ) द्वारा कृष्णापटनम पोर्ट कंपनी लिमिटेड के अधिग्रहण को मंजूरी दे दी है।

**Q-118** Partha Pratim Sengupta has been appointed as the new Chief Executive Officer & Managing Director of which bank?

eng

01. Indian Overseas Bank
02. Federal Bank
03. Punjab National Bank
04. Lakshmi Vilas Bank



05. Bank of Baroda

**Q-118** पार्थ प्रतिम सेनगुप्ता को किस बैंक का नया मुख्य कार्यकारी अधिकारी और प्रबंध निदेशक नियुक्त किया गया है?

hi

01. इंडियन ओवरसीज बैंक

02. फेडरल बैंक

03. पंजाब नेशनल बैंक

04. लक्ष्मी विलास बैंक

05. बैंक ऑफ बड़ौदा

**Solution for Question 118**

Ans Key: 1

eng

Partha Pratim Sengupta, Deputy Managing Director and Chief Credit Officer at State Bank of India, has been appointed as the new Managing Director and Chief Executive Officer of Indian Overseas Bank. The post fell vacant after the superannuation of Karnam Sekar who retired on June 30.

hi

स्टेट बैंक ऑफ इंडिया में डिप्टी मैनेजिंग डायरेक्टर और चीफ क्रेडिट ऑफिसर पार्थ प्रतिम सेनगुप्ता को इंडियन ओवरसीज बैंक का नया मैनेजिंग डायरेक्टर और चीफ एजीक्यूटिव ऑफिसर नियुक्त किया गया है। 30 जून को सेवानिवृत्त हुए कर्णम सेकर के पद से इस्तीफा देने के बाद यह पद खाली हो गया था।

**Q-119** What is the capital and currency of Sweden?

eng

01. Bern, Franc

02. Stockholm, Krona

03. Brussels, Euro

04. Madrid, Euro

05. Berlin, Euro

**Q-119** स्वीडन की राजधानी और मुद्रा क्या है?

hi

01. बर्न, फ्रैंक

02. स्टॉकहोम, क्रोना

03. ब्रुसेल्स, यूरो

04. मैड्रिड, यूरो

05. बर्लिन, यूरो

**Solution for Question 119**

Ans Key: 2

eng

Capital: Stockholm, Currency: Swedish krona. Violence erupted in the Swedish city of Malmo where over 300 people had gathered to protest against anti-Islam activities.

hi

राजधानी: स्टॉकहोम, मुद्रा: स्वीडिश क्रोना। स्वीडन के माल्मो शहर में हिंसा भड़क उठी जहां 300 से अधिक लोग इस्लाम विरोधी गतिविधियों के विरोध में एकत्र हुए थे।

**Q-120** Fulpati is a famous festival of:

eng

01. Myanmar

02. Bangladesh

03. Sri Lanka

04. Nepal

05. Bhutan

**Q-120** फुलपति एक प्रसिद्ध त्योहार है:

hi

01. म्यांमार

02. बांग्लादेश

03. श्री लंका

04. नेपाल

05. भूटान

**Solution for Question 120**

Ans Key: 4

eng

Fulpati is observed on the seventh day of Dashain festival. In Nepali, "Ful" means flower and "Pati" means leaves and plants. There is a tradition in Nepal to bring nine types of Fulpati into homes on the seventh day of Navaratri.

hi

दशपति पर्व के सातवें दिन फुलपति मनाया जाता है। नेपाली में, "फुल" का अर्थ है फूल और "पेटी" का अर्थ है पत्ते और पौधे। नेपाल में नवरात्रि के सातवें दिन नौ प्रकार के फुलपति को घरों में लाने की परंपरा है।

**Q-121** Which of the Phrases (1), (2), (3) and (4) given below the sentence should replace the phrase given in bold in the sentence to make it grammatically correct. If the sentence is correct as it is given and no correction is required, mark (5) as the answer.

eng

Visitors having **access to restrict areas** in the stadium are being monitored

01. access too restrict areas

02. access to restricted areas

03. access to restricting areas

04. access to restriction areas

05. No correction required

**Q-121** प्रत्येक वाक्य में रेखांकित वाक्यांश को नीचे दिये गये वाक्यांशों (1), (2), (3) और (4) में से किसके द्वारा प्रतिस्थापित करने पर दिया गया वाक्य व्याकरण के आधार पर शुद्ध हो जायेगा। यदि दिया गया वाक्य शुद्ध है और किसी भी शुद्धिकरण की आवश्यकता नहीं है तो अपना उत्तर (5) दीजिए।

hi

तिरपन वर्ष पहले से आज तक के शहरी समाज के विकास का नक्शा देखते हुए जब हम कलाकार के संघर्ष और उसकी साहित्य-सृष्टि को देखते हैं तब उसकी हार-जीत, दोनों ही कीमतों का सही-सही अंदाज लग जाता है।



01. कीमत का सही-सही आंकलन लग जाता है। 02. कीमत का सही-सही अंदाजा लग जाता है।  
 03. कीमत का लगभग सही अंदाज लग जाता है। 04. मूल्य का सही-सही हिसाब लग जाता है।  
 05. कोई सुधार आवश्यक नहीं है।

### Solution for Question 121

Ans Key: 2

eng	‘access’ is always followed by ‘to’; ‘restricted’ would serve as an adjective
hi	कीमत का सही-सही अंदाजा लग जाता है।

**Q-122** Which of the Phrases (1), (2), (3) and (4) given below the sentence should replace the phrase given in bold in the sentence to make it grammatically correct. If the sentence is correct as it is given and no correction is required, mark (5) as the answer.

eng

The committee will draw up both short-term and long-term plans to ensure that people in all parts of the district **get potable water**.

01. potable get water 02. got potable water  
 03. get water potable 04. get which potable water  
 05. No correction required

**Q-122** प्रत्येक वाक्य में रेखांकित वाक्यांश को नीचे दिये गये वाक्यांशों (1), (2), (3) और (4) में से किसके द्वारा प्रतिस्थापित करने पर दिया गया वाक्य व्याकरण के आधार पर शुद्ध हो जायेगा। यदि दिया गया वाक्य शुद्ध है और किसी भी शुद्धिकरण की आवश्यकता नहीं है तो अपना उत्तर (5) दीजिए।

hi

अनपढ़ किसान का बेटा मातृकुल की सरस्वती से वरदान पाकर बड़ा, और आगे चलकर उसने अपना सारा जीवन **माँ सरस्वती के श्रीचरणों में अर्पित कर दिया**।

01. माँ सरस्वती के श्रीमानचरणों में अर्पित कर दिया। 02. माँ सरस्वती के श्रीमतीचरणों में समर्पित कर दिया।  
 03. माँ सरस्वती के श्रीमतीचरणों में समर्पित कर दिया। 04. माँ सरस्वती के श्रीयुतचरणों में अर्पण कर दिया।  
 05. कोई सुधार आवश्यक नहीं है।

### Solution for Question 122

Ans Key: 5

eng	‘Potable water’ means ‘drinkable water’
-----	---

**Q-123** Which of the Phrases (1), (2), (3) and (4) given below the sentence should replace the phrase given in bold in the sentence to make it grammatically correct. If the sentence is correct as it is given and no correction is required, mark (5) as the answer.

eng

At a time when the generators sales have increased due to long power cuts, the solar energy devices are **still being preferred not**.

01. not being still preferred 02. been preferred not still  
 03. still not been prefer 04. still not being preferred  
 05. No correction required

**Q-123** प्रत्येक वाक्य में रेखांकित वाक्यांश को नीचे दिये गये वाक्यांशों (1), (2), (3) और (4) में से किसके द्वारा प्रतिस्थापित करने पर दिया गया वाक्य व्याकरण के आधार पर शुद्ध हो जायेगा। यदि दिया गया वाक्य शुद्ध है और किसी भी शुद्धिकरण की आवश्यकता नहीं है तो अपना उत्तर (5) दीजिए।

hi

गाँव से शहर में आया हुआ कुलीन ब्राह्मण, ठाकुर तथा इतर हीन कहलाने वाली जातियों के लोग एक नए मजदूर वर्ग के सदस्य होकर **बराबर की सतह पर चले गए** थे।

01. बराबरी की सतह पर आ गए थे। 02. सामान की समतल पर आ गए थे।  
 03. बराबरी की समतल पर आ गए थे। 04. बराबर की सतह पर आ गए थे।  
 05. कोई सुधार आवश्यक नहीं है।

### Solution for Question 123

Ans Key: 4

eng	‘Not’ should come after the adverb ‘still’ followed by ‘being preferred’
hi	‘चले गए’ के स्थान पर ‘आ गए’ का प्रयोग करें।

**Q-124** Which of the Phrases (1), (2), (3) and (4) given below the sentence should replace the phrase given in bold in the sentence to make it grammatically correct. If the sentence is correct as it is given and no correction is required, mark (5) as the answer.

eng

Some traffic cops were seen struggling to keep the vehicles **move at few crossings**.

01. moving at a few crosses 02. moved at the few crossing  
 03. moving at a few crossings 04. moves in few crossings  
 05. No correction required

**Q-124** प्रत्येक वाक्य में रेखांकित वाक्यांश को नीचे दिये गये वाक्यांशों (1), (2), (3) और (4) में से किसके द्वारा प्रतिस्थापित करने पर दिया गया वाक्य व्याकरण के आधार पर शुद्ध हो जायेगा। यदि दिया गया वाक्य शुद्ध है और किसी भी शुद्धिकरण की आवश्यकता नहीं है तो अपना उत्तर (5) दीजिए।

hi

जिस समय देश का शहरी समाज, बढ़ने वाले आर्थिक संकटों के बावजूद **नये चेतना की शक्ति लेकर आगे बढ़ रहा था**, उसी समय देश का ग्रामीण अपनी निरक्षरता

और कूप-मंडूकता के कारण इस नए प्रकाश से वंचित रहकर घोर आर्थिक संकट के कारण क्रमशः टूटता चला जा रहा था।

01. नया चेतना का शक्ति लेकर आगे बढ़ रहा था, 02. नये चेतना का ताकत लेकर आगे बढ़ रहा था,  
03. नई चेतना की शक्ति लेकर आगे बढ़ रहा था, 04. नया चेतना का शक्ति लेकर आगे बढ़ रही थी,  
05. कोई सुधार आवश्यक नहीं है।

#### Solution for Question 124

Ans Key: 3

eng 'A few' would be used which means 'many'

hi 'नये' के स्थान पर 'नई' का प्रयोग करें।

**Q-125** Which of the Phrases (1), (2), (3) and (4) given below the sentence should replace the phrase given in bold in the sentence to make it grammatically correct. If the sentence is correct as it is given and no correction is required, mark (5) as the answer.

eng

The Mahatma Gandhi National Rural Employment Guarantee scheme has definitely given economic independence to rural women and **brought off an change** in their social status

01. brought about a change 02. brought in some changes  
03. brought a change 04. brought forth a changes  
05. No correction required

**Q-125** प्रत्येक वाक्य में रेखांकित वाक्यांश को नीचे दिये गये वाक्यांशों (1), (2), (3) और (4) में से किसके द्वारा प्रतिस्थापित करने पर दिया गया वाक्य व्याकरण के आधार पर शुद्ध हो जायेगा। यदि दिया गया वाक्य शुद्ध है और किसी भी शुद्धिकरण की आवश्यकता नहीं है तो अपना उत्तर (5) दीजिए।

hi

धन, कुर्सी, डॉकटरी और बैरिस्टरी की शक्ति ने प्रगतिशील बनकर उस **प्रतिक्रियावाद समाज को परास्त कर दिया** है जिसने अनजाने काल से समुद्र लॉन्घने से रोक रखा था।

01. प्रतिक्रियावादी समाज को परास्त कर दिया 02. प्रतिक्रिया आधारित समाज को जीत लिया  
03. प्रतिक्रिया समाजवादी को परास्त कर दिया 04. प्रतिक्रियावाद समाज को खारिज कर दिया  
05. कोई सुधार आवश्यक नहीं है।

#### Solution for Question 125

Ans Key: 1

eng 'Brought about' means 'make happen'

hi 'प्रतिक्रियावाद' के स्थान पर 'प्रतिक्रियावादी' का प्रयोग करें।

**Q-126** Read each part of the sentence to find out if there is any error in it. The error, if any, will be in one part of the sentence. The number of that part is the answer. If there is no error, mark your answer as (5).

eng

People should try to learn (1)/as many languages as possible (2)/because language is (3)/beyond region religion (4)/ No error (5)

01. 1 02. 2  
03. 3 04. 4  
05. 5

**Q-126** नीचे दिया गया प्रत्येक वाक्य चार भागों में बांटा गया है। जिन्हें (1), (2), (3), (4) और (5) क्रमांक दिए गए हैं। आपको यह देखना है कि वाक्य के किसी भाग में व्याकरण, भाषा, वर्तनी, शब्दों को गलत प्रयोग या इसी तरह की कोई त्रुटि अगर होगी तो वाक्य के किसी एक भाग में ही होगी। उस भाग का क्रमांक ही उत्तर है। अगर वाक्य सही है तो उत्तर (5) अर्थात् 'कोई अशुद्धि नहीं है' दीजिए।

hi

दूध का कारोबार इसीलिए फल-फूल रहा है, (1)/क्योंकि राज्य में उतने दूध (2)/का उत्पादन नहीं हो पा रहा है (3)/जितने की खरीद है।(4)/कोई अशुद्धि नहीं है।(5)

01. 1 02. 2  
03. 3 04. 4  
05. 5

#### Solution for Question 126

Ans Key: 4

eng 'region and religion' should be used

**Q-127** Read each part of the sentence to find out if there is any error in it. The error, if any, will be in one part of the sentence. The number of that part is the answer. If there is no error, mark your answer as (5).

eng

Madhubani paintings were (1)/originally created on walls (2)/plaster with layers of (3)/cow dung and mud (4)/ No error (5)

01. 1 02. 2  
03. 3 04. 4  
05. 5

**Q-127** **hi** नीचे दिया गया प्रत्येक वाक्य चार भागों में बांटा गया है। जिन्हें (1), (2), (3), (5) और (5) क्रमांक दिए गए हैं। आपको यह देखना है कि वाक्य के किसी भाग में व्याकरण, भाषा, वर्तनी, शब्दों को गलत प्रयोग या इसी तरह की कोई त्रुटि अगर होगी तो वाक्य के किसी एक भाग में ही होगी। उस भाग का क्रमांक ही उत्तर है। अगर वाक्य सही है तो उत्तर (5) अर्थात् 'कोई अशुद्धि नहीं है' दीजिए।

यह बात भारतीय क्रिकेट टीम को (1)/अच्छी तरह समझ लेनी चाहिये कि (2)/विश्वकप जीतना और विश्व चैंपियन का (3)/ताज और रूतबे को बनाए रखना अलग-अलग बात है।(4)/कोई अशुद्धि नहीं है।(5)

- |       |       |
|-------|-------|
| 01. 1 | 02. 2 |
| 03. 3 | 04. 4 |
| 05. 5 |       |

**Solution for Question 127**

Ans Key: 3

**eng** 'Plastered' should be used- which would work as an adjective for 'walls'

**Q-128** **eng** Read each part of the sentence to find out if there is any error in it. The error, if any, will be in one part of the sentence. The number of that part is the answer. If there is no error, mark your answer as (5).

Everyone gives sermons under(1)/ cleansing the political system (2)/but no one seems interested (3)/in belling the cat (4)/ No error (5)

- |       |       |
|-------|-------|
| 01. 1 | 02. 2 |
| 03. 3 | 04. 4 |
| 05. 5 |       |

**Q-128** **hi** नीचे दिया गया प्रत्येक वाक्य चार भागों में बांटा गया है। जिन्हें (1), (2), (3), (5) और (5) क्रमांक दिए गए हैं। आपको यह देखना है कि वाक्य के किसी भाग में व्याकरण, भाषा, वर्तनी, शब्दों को गलत प्रयोग या इसी तरह की कोई त्रुटि अगर होगी तो वाक्य के किसी एक भाग में ही होगी। उस भाग का क्रमांक ही उत्तर है। अगर वाक्य सही है तो उत्तर (5) अर्थात् 'कोई अशुद्धि नहीं है' दीजिए।

घट उत्पादन (1)/और अधिक लागत (2)/के चलते गन्ने की खेती (3)/ करना मुश्किल है।(4)/ कोई अशुद्धि नहीं है।(5)

- |       |       |
|-------|-------|
| 01. 1 | 02. 2 |
| 03. 3 | 04. 4 |
| 05. 5 |       |

**Solution for Question 128**

Ans Key: 1

**eng** 'On' should replace 'under' – to make the sentence grammatically correct

**Q-129** **eng** Read each part of the sentence to find out if there is any error in it. The error, if any, will be in one part of the sentence. The number of that part is the answer. If there is no error, mark your answer as (5).

A free medical checkup (1)/ and blood donation (2)/camp will be (3)/ organized tomorrow (4)/ No error (5)

- |       |       |
|-------|-------|
| 01. 1 | 02. 2 |
| 03. 3 | 04. 4 |
| 05. 5 |       |

**Q-129** **hi** नीचे दिया गया प्रत्येक वाक्य चार भागों में बांटा गया है। जिन्हें (1), (2), (3), (5) और (5) क्रमांक दिए गए हैं। आपको यह देखना है कि वाक्य के किसी भाग में व्याकरण, भाषा, वर्तनी, शब्दों को गलत प्रयोग या इसी तरह की कोई त्रुटि अगर होगी तो वाक्य के किसी एक भाग में ही होगी। उस भाग का क्रमांक ही उत्तर है। अगर वाक्य सही है तो उत्तर (5) अर्थात् 'कोई अशुद्धि नहीं है' दीजिए।

वर्ष 2008 में अमेरिका के साथ हुए (1)/नागरिक परमाणु समझौते को अमली जामा पहनाने (2)/ की दिशा में परमाणु दायित्व विधेयक (3)/ बेहद महत्वपूर्ण है। (4)/ कोई अशुद्धि नहीं है।(5)

- |       |       |
|-------|-------|
| 01. 1 | 02. 2 |
| 03. 3 | 04. 4 |
| 05. 5 |       |

**Q-130** **eng** Read each part of the sentence to find out if there is any error in it. The error, if any, will be in one part of the sentence. The number of that part is the answer. If there is no error, mark your answer as (5).

A certain crop grown in a sunny (1) /and hot climate needs per day more (2)/ water than the same crop grown in a (3)/ cloudy and cooler climate.(4)/ No error (5)

- |       |       |
|-------|-------|
| 01. 1 | 02. 2 |
| 03. 3 | 04. 4 |
| 05. 5 |       |

**Q-130** नीचे दिया गया प्रत्येक वाक्य चार भागों में बांटा गया है। जिन्हें (1), (2), (3), (5) और (5) क्रमांक दिए गए हैं। आपको यह देखना है कि वाक्य के किसी भाग में व्याकरण, भाषा, वर्तनी, शब्दों को गलत प्रयोग या इसी तरह की कोई त्रुटि अगर होगी तो वाक्य के किसी एक भाग में ही होगी। उस भाग का क्रमांक ही उत्तर है। अगर वाक्य सही है तो उत्तर (5) अर्थात् 'कोई अशुद्धि नहीं है' दीजिए।

झारखंड वाली पुलिस के सामने (1)/नक्सली और उग्रवादी ही नहीं, (2)/आपराधिक गिरोह भी (3)/बड़ी चुनौती बनकर तने हुए हैं।(4)/कोई अशुद्धि नहीं है।(5)

- |       |       |
|-------|-------|
| 01. 1 | 02. 2 |
| 03. 3 | 04. 4 |
| 05. 5 |       |

**Solution for Question 130** Ans Key: 5

eng

**Q-131** In the following question, a sentence with a blank space is given. Below it five words have been denoted by numbers (1), (2), (3), (4) and (5). Find out which word can be filled up in the blank to make the sentence meaningfully complete.

eng

The law should get stringent and petrifying so that people shiver before committing a-----.

- |                |               |
|----------------|---------------|
| 01. corruption | 02. violation |
| 03. wrong      | 04. harm      |
| 05. crime      |               |

**Q-131** निम्न का पर्यायवाची बताइये

hi

वृक्ष

- |           |            |
|-----------|------------|
| 01. जरठ   | 02. वृत्ति |
| 03. पखेरू | 04. विहंग  |
| 05. पादप  |            |

**Solution for Question 131** Ans Key: 5

eng

Crime  
For other options:  
Violation (n)- not obey rules

**Q-132** In the following question, a sentence with a blank space is given. Below it five words have been denoted by numbers (1), (2), (3), (4) and (5). Find out which word can be filled up in the blank to make the sentence meaningfully complete.

eng

As both groups started throwing stones at each other , the nearby market got-----.

- |            |                |
|------------|----------------|
| 01. ended  | 02. restricted |
| 03. closed | 04. locked     |
| 05. met    |                |

**Q-132** निम्न का पर्यायवाची बताइये

hi

जंगल

- |             |            |
|-------------|------------|
| 01. जंगम    | 02. स्थावर |
| 03. विपिन   | 04. जमघट   |
| 05. तिलिस्म |            |

**Solution for Question 132** Ans Key: 3

eng

Closed  
For other options:  
Restricted (v)- limited

**Q-133** In the following question, a sentence with a blank space is given. Below it five words have been denoted by numbers (1), (2), (3), (4) and (5). Find out which word can be filled up in the blank to make the sentence meaningfully complete.

eng

Having a good anti-virus installed does not mean it is safe to click and -----anything.

- |           |              |
|-----------|--------------|
| 01. input | 02. download |
|-----------|--------------|

03. transform

04. turn

05. revise

Q-133 निम्न का पर्यायवाची बताइये

hi

नक्षत्र

01. नग

02. खद्योत

03. नलिन

04. नवल

05. विनीत

### Solution for Question 133

Ans Key: 2

eng

Download

For other options:

Transform (v)- change

Revise (v)- rethink and change

Q-134

eng

In the following question, a sentence with a blank space is given. Below it five words have been denoted by numbers (1), (2), (3), (4) and (5). Find out which word can be filled up in the blank to make the sentence meaningfully complete.

Properly designed building and structures can stand -----300 years.

01. for

02. to

03. at

04. still

05. upon

Q-134

hi

निम्न का पर्यायवाची बताइये

प्रातःकाल

01. विहान

02. प्रांजल

03. प्राचीर

04. वत्सल

05. संतरी

### Solution for Question 134

Ans Key: 1

eng

For

Q-135

eng

In the following question, a sentence with a blank space is given. Below it five words have been denoted by numbers (1), (2), (3), (4) and (5). Find out which word can be filled up in the blank to make the sentence meaningfully complete.

Working women playing several roles have little or no time to -----to fitness.

01. apply

02. bless

03. devote

04. assign

05. oppose

Q-135

hi

निम्न का पर्यायवाची बताइये

विशुद्ध

01. विभूति

02. विशारद

03. निर्दोष

04. विरक्ति

05. विश्व

### Solution for Question 135

Ans Key: 3

eng

Devote

For other options:

Assign (v)- attach

Oppose (v)- go against

Passage for Question 136, 137, 138, 139, 140 (ST-112 RRBCL (141-145))

eng Passage

Rearrange the following sentences (A),(B),(C), (D),(E) and (F) in the proper sequence to form a meaningful paragraph, then answer the questions given below them.

(A) But their role is restricted to ensuring that the traders have proper licenses and the animals and birds are disease-free

- (B) The thriving illegal trade of endangered species on the web points to loopholes in the Wildlife Act, 1972
- (C) Though once in a while action is taken against those who breed and sell exotic species but it doesn't seem to deter traders.
- (D) The Act covers only species that are endemic to India. Birds and animals that are imported do not have any kind of protection.
- (E) It is high time the law is amended to put a stop to illegal trade in all endangered species, irrespective of their origin.
- (F) In such cases, the onus is on state governments to keep tabs on sale of endangered species.

hi Passage

नीचे (A), (B), (C), (D), (E) और (F) को इस तरह व्यवस्थित कीजिए कि छहों कथनों का एक अर्थपूर्ण परिच्छेद बन जाये।

- (A) इस विदाई को यादगार बनाने के लिए हैरतअंगेज कदम उठाए जा रहे हैं।
- (B) साल 1979 में हुए भारतीय क्रिकेट टीम के पाकिस्तान दौरे में दो खास बातें हुई पहली यह कि वक्त के टॉप स्पिनर अब्दुल कादिर के करियर का अंत और दूसरी दुनिया के सबसे बड़े बल्लेबाज सचिन तेंदुलकर का उदय।
- (C) हकीकत यह है कि सचिन बिना किसी औपचारिकता के आज भी रिटायर हो जाएं तो उनकी महानता में कोई कमी नहीं आने वाली।
- (D) इस दौरे के एक प्रदर्शनी मैच में उन्होंने कादिर को इस कदर धुना कि फिर उन्हें गेंदबाजी की लय नहीं मिल पाई।
- (E) सचिन खुद शायद ऐसा कभी नहीं चाहेंगे क्योंकि रिटायरमेंट के बाद भी उन्हें अपने चाहने वालों के दिलों पर राज करना है।
- (F) यह बात करीब 24 साल पुरानी है परंतु ताजा संदर्भ यह है कि अब सचिन तेंदुलकर के रिटायरमेंट की बात चल रही है।

Q-136 Which of the following would be the **SECOND** sentence after rearrangement?

eng

01. B
02. A
03. E
04. F
05. D

Q-136 गद्यांश की पुनर्व्यवस्था के बाद, दूसरा वाक्य कौन सा होगा?

hi

01. B
02. E
03. A
04. F
05. D

Solution for Question 136

Ans Key: 5

eng

The arrangement is **BDFACE**. The paragraph is about the proposed amendment in the Wildlife Act, 1972 and the reasons for the same.

Q-137 Which of the following would be the **SIXTH** sentence after rearrangement?

eng

01. A
02. C
03. E
04. B
05. F

Q-137 गद्यांश की पुनर्व्यवस्था के बाद, छठा वाक्य कौन सा होगा?

hi

01. A
02. C
03. E
04. B
05. F

Solution for Question 137

Ans Key: 3

eng

The arrangement is BDFACE. The paragraph is about the proposed amendment in the Wildlife Act, 1972 and the reasons for the same.

Q-138 Which of the following would be the **THIRD** sentence after rearrangement?

eng

01. B
02. E
03. A
04. F
05. D

Q-138 गद्यांश की पुनर्व्यवस्था के बाद, तीसरा वाक्य कौन सा होगा?

hi

01. B
02. E
03. A
04. F
05. D

Solution for Question 138

Ans Key: 4

eng

The arrangement is BDFACE. The paragraph is about the proposed amendment in the Wildlife Act, 1972 and the reasons for the same.

Q-139

Which of the following would be the **FOURTH** sentence after rearrangement?

eng

01. C

02. D

03. B

04. E

05. A

Q-139

गद्यांश की पुनर्व्यवस्था के बाद, चौथा वाक्य कौन सा होगा?

hi

01. B

02. C

03. D

04. E

05. A

Solution for Question 139

Ans Key: 5

eng

The arrangement is **BDFACE**. The paragraph is about the proposed amendment in the Wildlife Act, 1972 and the reasons for the same.

Q-140

Which of the following would be the **FIRST** sentence after rearrangement?

eng

01. B

02. E

03. A

04. F

05. D

Q-140

गद्यांश की पुनर्व्यवस्था के बाद, पहला वाक्य कौन सा होगा?

hi

01. B

02. E

03. A

04. F

05. D

Solution for Question 140

Ans Key: 1

eng

The arrangement is BDFACE. The paragraph is about the proposed amendment in the Wildlife Act, 1972 and the reasons for the same.

Passage for Question 141, 142, 143, 144, 145, 146, 147, 148, 149, 150 (ST-81 RRBCL (121-130) 2014 7021)

eng Passage

Read the following passage carefully and answer the questions given below it. Certain words have been given in bold to help you locate them while answering some questions.

Rising incomes, a growing population of young Indians and a greater willingness to spend on **leisure** have together given a boost to the amusement industry. Most cities lack lung spaces and malls are emerging as the only entertainment-cum-shopping destinations. Amusement parks are seen as a welcome alternative. That explains why Mumbai alone has so many of them — EsselWorld, Water Kingdom, KidZania, Adlabs Imagica and Nishiland.

Amusement park refers not only to a collection of dry and wet rides, snow parks and shopping malls, but also other entertainment options such as theatre and folk dances in a defined space. Most large parks in India have opted for a one-price formula, with a single entry fee offering unlimited rides.

“Every year 15-20 per cent growth is seen in this sector— be it the expansion of existing parks or the setting up of new ones,”

The absence of large open spaces and entertainment options in the metros had prompted Wizcraft International Entertainment, to set up Kingdom of Dreams in Gurgaon in 2010. Nothing like this existed in India before. Kingdom of Dreams **boasts** an elaborate arts, crafts, and culinary boulevard with street performers and a Bollywood-themed café. Its auditorium and amphitheatre host live productions, including musicals.

On the flip side, amusement parks call for high investments and involve long **gestation** periods. This capital-intensive industry requires continuous investment. “Entrepreneurs need to regularly introduce new rides to retain visitor interest.” That also explains why many parks have shut down over the last few years. A bigger challenge, is in getting approvals for large land parcels as they are usually delayed, often until after work begins. As loans for amusement parks are a difficult proposition, entrepreneurs end up borrowing at market rate, which is not feasible in the long run.

“Typical land parcels for parks are valued at a minimum of 25-30 crore. If land price goes up, some entrepreneurs feel it is best to cash out. Most of the rides at Essel World , India’s biggest amusement park are imported. “The cost of bringing them into the country is very high. The duties and installation and maintenance charges add to it, making both capital and operating expenses high.”

Some of the big imported rides can cost up to 40 crore. But the ticket prices barely cover these costs. At 1,500, a Wonderla ticket is way below Disneyland tickets starting from \$100 (6,000), excluding food, beverages and souvenirs. “Indians are way behind international peers in terms of revenue as they have to price their entry tickets according to the paying capacity of the average Indian customer.

Essel World in Mumbai and Wonderla’s two parks in Kochi and Bangalore are operationally profitable. While 80 per cent of the revenue for Indian parks comes from tickets, the rest is from food, locker rentals and photography. “In the West, this ratio is 50:50. So one needs to come up with methods to ensure more sales within parks, such as through merchandise, to increase revenues as raising ticket prices is not much of an option.”

Wonderla has developed 40 of the 120 rides it offers in-house, including the roller coaster, water slides and 5D theatre. This nearly halves the cost, proving to be a



huge saving as most rides cost upwards of 10 crore.

Although there is demand for more amusement parks, their future will depend on the speed at which they innovate. In coming time the amusement park will be more interactive and will **defy** all laws of physics through digital mediums and park attractions will be condensed into mobile apps, integrating entertainment with daily life. But till such time, park owners and entertainment seekers alike will continue to head out to the wide open spaces for a thrilling ride of their life.

hi Passage

निम्नलिखित गद्यांश का ध्यानपूर्वक अध्ययन कीजिए व इसके नीचे दिए गये प्रश्नों के उत्तर दीजिए। प्रश्नों का उत्तर देते समय आपकी सहायता के लिए कुछ शब्दों को रेखांकित किया गया है।

आम धारणा है कि तापवृद्धि केवल मनुष्यों द्वारा **उपजाई** गई समस्या है। वास्तव में मानवीय क्रिया-कलाप धरती के बढ़ते हुए तापमान के एक अंश के लिए ही उत्तरदायी हैं। प्रकृति में स्वतः होने वाली बहुत-सी प्रक्रियाएँ भी तापवृद्धि का कारण हैं। वैज्ञानिकों ने तापवृद्धि के बारे में बहुत-सी व्याख्याएँ की हैं। ग्रीनहाउस गैसों का उत्सर्जन: हमारे वातावरण की निचली सतह में उपस्थित ग्रीनहाउस गैसों से सूर्य से आने वाले प्रकाश को पृथ्वी पर आने देती हैं। फलस्वरूप पृथ्वी गर्म होने लगती है और अवरक्त विकिरण (इन्फ्रारेड रेडियेशन) उत्सर्जित करती है। ग्रीनहाउस गैसों की वृद्धि बहुत-सी मानवीय गतिविधियों जैसे, जीवाश्मों का जलना, वनों की कटाई और कृषि कार्य से भी होती है। हालाँकि ग्रीनहाउस गैसों की हमारे जीवन में बहुत **उपयोगिता** भी है। यदि ये गैसों न हों तो हमारी धरती का तापमान इतना कम हो जाएगा की पृथ्वी पर जीवन की कल्पना भी नहीं की जा सकेगी। सौर ऊर्जा में परिवर्तन: इस **परिकल्पना** के अनुसार सूर्य की सतह पर होने वाली अभिक्रियाओं की मात्रा में परिवर्तन होने के कारण सूर्य से आने वाले प्रकाश में समय के साथ-साथ परिवर्तन होता रहता है। धरती की कक्षा में परिवर्तन: वैज्ञानिकों द्वारा यह संभावना भी व्यक्त की जा रही है कि धरती के सूर्य के चारों ओर घूमने वाली कक्षा में परिवर्तन हो गया है। पृथ्वी की कक्षा में छोटे से परिवर्तन से भी पृथ्वी द्वारा सूर्य से प्रकाश ग्रहण करने की मात्रा में भारी अंतर आ सकता है। ज्वालामुखी विस्फोट: ज्वालामुखी विस्फोटों के फलस्वरूप बहुत-सी ग्रीनहाउस गैसों निकलती हैं और धरती के वातावरण की निचली सतह पर जमा हो जाती हैं। हिमयुग का अंत: भूगर्भ विज्ञान के साक्ष्यों के अनुसार लंबे समय अंतरालों के बाद धरती गर्म और ठंडी होती रहती है। ठंडे काल को 'हिमयुग' कहा जाता है। ऐसी आशंका व्यक्त की जा रही है कि धरती अभी किसी हिमयुग से **उबर** रही है और फलस्वरूप धीरे-धीरे गर्म हो रही है।

**Q-141** What are the challenges faced by amusement industry in context to the passage?

eng

- |   |  |
|---|--|
| 01. Difficulty in retaining the interest of the visitors    | 02. Getting approval for large land parcels. |
| 03. Missing of zeal among youth towards amusement industry. | 04. Only 1 and 2                             |
| 05. All of the above  |  |

**Q-141** मनुष्यों को किस समस्या का उत्तरदायी माना जा रहा है?

hi

- |                           |                                  |
|---------------------------|----------------------------------|
| 01. जनसंख्या वृद्धि       | 02. ग्रीन हाउस गैसों के उत्सर्जन |
| 03. अनवरत प्रकाश उत्सर्जन | 04. धरती के तापमान में वृद्धि    |
| 05. उपरोक्त सभी           |                                  |

**Solution for Question 141**

Ans Key: 4

eng The answer can be inferred from the fifth paragraph.

**Q-142** Which of the following is a part of amusement park in context to the passage?

eng

- (A) Dry and wet rides  
(B) Snow parks and shopping malls  
(C) Theatre  
(D) Folk dance shows

- |                      |                  |
|----------------------|------------------|
| 01. Only A and D     | 02. Only A and C |
| 03. Only A, C and D  | 04. Only A       |
| 05. All of the above |                  |

**Q-142** निम्नलिखित में से किसे तापवृद्धि का कारण नहीं माना जा सकता?

hi

- |                                  |                                |
|----------------------------------|--------------------------------|
| 01. हिमयुग का आरम्भ              | 02. ज्वालामुखी विस्फोट         |
| 03. ग्रीन हाउस गैसों का उत्सर्जन | 04. धरती की कक्षा में परिवर्तन |
| 05. सौर ऊर्जा में परिवर्तन       |                                |

**Solution for Question 142**

Ans Key: 5

eng The answer can be inferred from the entire passage.

**Q-143** Why we Indians are far behind than international peers in terms of revenue recognition?

eng

- |  |   |
|--|---|
| 01. Most of the slides used by Indians are | 02. Installation and maintenance charges are very high thus leading to reduced profits. |
|--|---|

imported.

03. Lack of skilled and trained worker to operate and maintain the slides.

04. Pricing of the entry tickets are done according to the paying capacity of the average Indian consumer

05. All of the above

**Q-143** ग्रीन हाउस गैसों के उत्सर्जन में कौन सी मानवीय गतिविधियाँ उत्तरदायी नहीं हैं?

hi

01. जीवाश्मों का जलाना

02. कृषि कार्य

03. वनों की कटाई

04. सूर्य की सतह पर होने वाली अभिक्रियाएँ

05. उर्वरकों व कीटनाशकों का प्रयोग

**Solution for Question 143**

Ans Key: 4

eng

The answer can be inferred from the seventh paragraph.

**Q-144** Which of the following is the feature of Wonderla' amusement park in context to the passage?

eng

01. 40 out of 120 rides of Wonderla are developed in house.

02. Wonderla's two parks in Kochi and Bangalore are making profits.

03. Wonderla's pricing of tickets is far expensive than that of this Disneyland.

04. All of the above

05. All except 3

**Q-144** यदि ग्रीन हाउस गैसों न उत्सर्जित हों तो क्या दुष्परिणाम होगा?

hi

01. धरती के ताप में अत्यधिक वृद्धि

02. सूर्य के प्रकाश को धरती पर न आने देना

03. ज्वालामुखी विस्फोट

04. हिमयुग का अंत

05. धरती के ताप में अत्यधिक कमी

**Solution for Question 144**

Ans Key: 5

eng

The answer can be inferred from the seventh and eighth paragraph.

**Q-145** Which of the following statements is/are TRUE in context to the passage?

eng

(A) Amusement park involves long gestation periods.

(B) Every year 15 to 20 percent growth is seen in amusement sector.

(C) 80 percent of the revenue for Indian parks revenue come from tickets, rest is from food, locker rental and photography.

(D) Park attractions will be condensed into mobile apps, integrating entertainment with daily.

01. Only A & D

02. Only B & C

03. All except D

04. All of the above

05. Only A & C

**Q-145** भूगर्भ विज्ञान के लिए वाक्यांश होगा?

hi

01. पृथ्वी की कक्षा से संबंधित विज्ञान

02. पृथ्वी की सतह से संबंधित विज्ञान

03. पृथ्वी की आंतरिक सतह से संबंधित विज्ञान

04. धरती के पर्यावरण से संबंधित विज्ञान

05. धरती पर होने वाली घटनाओं से संबंधित विज्ञान

**Solution for Question 145**

Ans Key: 4

eng

The answer can be inferred after reading the passage carefully.

**Q-146** What is the tone of the passage?

eng

01. Rhetoric

02. Persuasive

03. Informative

04. Cynical

05. Argumentative

**Q-146** गद्यांश के संदर्भ में निम्नलिखित में से कौन सा/से कथन सत्य है/हैं?

hi

(A) पृथ्वी सूर्य के प्रकाश से गर्म होकर अवरक्त विकिरण का उत्सर्जन करती है।

(B) धरती के घूर्णन अक्ष में परिवर्तन से पृथ्वी के तापमान में वृद्धि हो रही है।

(C) ज्वालामुखी से निकलने वाली ग्रीनहाउस गैसों धरती के वातावरण की निचली सतह पर जमा होती हैं।

01. केवल A

02. केवल B

03. A और C

04. केवल C

05. सभी A,B व C

### Solution for Question 146

Ans Key: 3

eng

The Tone of the passage is informative as the passage describes and informs about various types of amusement industry.

**Q-147** Choose the word most **SIMILAR** in meaning to the word given in bold, as used in the passage.

eng

**Gestation**

01. Ripening

02. Multiple

03. Cognitive

04. Evolution

05. Morphed

**Q-147** गद्यांश में प्रयोग के आधार पर, रेखांकित शब्द के निकटतम समानार्थी शब्द का चयन कीजिए।

hi

**उपयोगिता**

01. व्यवहारिकता

02. उपादेयता

03. प्रयोज्यता

04. सार्थकता

05. लाभप्रदता

### Solution for Question 147

Ans Key: 4

eng

For other options:

Morphed (adj.)– modified

Cognitive (adj.)– involve reading and understanding skills.

**Q-148** Choose the word most **SIMILAR** in meaning to the word given in bold, as used in the passage.

eng

**Defy**

01. Disregard

02. Apply

03. Endure

04. Accept

05. Revive

**Q-148** गद्यांश में प्रयोग के आधार पर, रेखांकित शब्द के निकटतम समानार्थी शब्द का चयन कीजिए।

hi

**उपजाना**

01. उत्पन्न करना

02. उगाना

03. बढ़ाना

04. तेज करना

05. गले लगाना

### Solution for Question 148

Ans Key: 1

eng

Defy (v)- openly resist or refuse to obey; disregard.

For other options:

Endure (v)- to tolerate

Revive (v)- restore to life or consciousness.

**Q-149** Choose the word which is most nearly the **OPPOSITE** in meaning as the word given in bold as used in the passage.

eng

**Leisure**

01. Relax

02. Work

03. Comfort

04. Quiet

05. Ease

**Q-149** गद्यांश में प्रयोग के आधार पर, रेखांकित शब्द के निकटतम विपरीतार्थी शब्द का चयन कीजिए।

hi

**उबरना**

01. उतराना

02. बाहर आना

03. उफान लेना

04. तैरना

05. राहत पाना

## Solution for Question 149

**eng** Leisure (n)- time when one is not working or occupied; free time.

**Q-150** Choose the word which is most nearly the **OPPOSITE** in meaning as the word given in bold as used in the passage.

**eng**

**Boast**

01. Bluster

02. Flaunt

03. Brag

04. Conceal

05. Show

**Q-150** गद्यांश में प्रयोग के आधार पर, रेखांकित शब्द के निकटतम विपरीतार्थी शब्द का चयन कीजिए।

**hi**

**परिकल्पना**

01. अनुमान

02. धारणा

03. उपधारणा

04. सिद्धांत

05. काल्पनिक

## Solution for Question 150

Ans Key: 4

**eng** Boast (v)- talk with excessive pride and self-satisfaction about one's achievements, possessions, or abilities; brag.

For other options-

Bluster (v)- talk in a loud, aggressive, or indignant way with little effect.

Flaunt (v)- display (something) ostentatiously, especially in order to provoke envy or admiration or to show defiance.

**Passage for Question 151, 152, 153, 154, 155, 156, 157, 158, 159, 160 (ST-84 RRBCL (141-150) 2014)**

**eng** Passage

In the following passage there are blanks each of which has been numbered. These numbers are given below the passage and against each five words have been suggested, one of which fits the blanks appropriately. Find out the appropriate word in each case.

India has cut royalties that local seed companies pay to Monsanto Co. for the second time in two years, potentially fuelling another row with the U.S. company that \_\_\_\_\_ (A) to leave the South Asian country. Ministry of Agriculture & Farmers Welfare has decided to reduce \_\_\_\_\_ (B) paid by Indian seed companies to Monsanto for its genetically modified (GM) cotton by 20.4 per cent, said a government order released. In 2016 the Agriculture Ministry cut Monsanto's royalties by more than 70 per cent, triggering a long-running \_\_\_\_\_ (C) that drew in the Indian and U.S. governments. "It is unfortunate that today's order further erodes trait fees (royalties), which are now less than 0.5 per cent of the cost of cultivation, while the technology continues to provide \_\_\_\_\_ (D) to farmers across India," said a spokesman for Monsanto's India joint venture, Mahyco Monsanto Biotech (India)(MMB).

Cotton has been a success story \_\_\_\_\_ (E) Indian agriculture with a sharp jump in both output and exports, the MMB spokesman said, but noted that the sector \_\_\_\_\_ (F) a predictable business environment to attract investment. As well as cutting Monsanto's royalties, the government also lowered the prices of GM cotton seeds by 7.5 per cent to Rs. 740 (\$11.39) for a packet of 450 grams to help farmers who are struggling with pest infestations. Reuters last week reported the government plan to cut Monsanto's royalties and lower the prices of GM cotton seeds. Farmers buy GM cotton seeds from Indian seed makers who pay to use Monsanto's proprietary technology to produce them. Producers body, the National Seed Association of India (NSAI), threatened to halt supplies to 8 million cotton farmers to protest the planned move to reduce seed prices. "The new, low price would \_\_\_\_\_ (G) impact seed supply and seed availability this year. And also next year's seed \_\_\_\_\_ (H). NSAI may even file a writ petition against the government decision. Seed prices have fallen since 2011 but fuel, labour and other supply chain costs have risen. "NSAI advocated for an increase in cotton seed prices to at least 150 rupees a packet. But the idea was ignored," he said. Last year the government kept both the royalties and the retail prices of GM cotton seeds \_\_\_\_\_ (I). More than 90 per cent of India's cotton crop is genetically modified. In 2017/18 India's cotton output is set to rise by 9.3 per cent but still short of the record high \_\_\_\_\_ (J) by industry analysts because boll worm caused damage in some regions.

**hi** Passage

नीचे दिए गए परिच्छेद में कुछ रिक्त स्थान छोड़ दिए गए हैं तथा उन्हें प्रश्न संख्या से दर्शाया गया है। ये संख्याएं परिच्छेद के नीचे मुद्रित हैं, और प्रत्येक के सामने (1), (2), (3), (4) और (5) विकल्प दिए गए हैं। इन पांचों में से कोई एक इस रिक्त स्थान को पूरे परिच्छेद के संदर्भ में उपयुक्त का चयन करना है।

एक बड़ा स्वागतयोग्य कदम है किसी पर तेजाब से हमले को एक अलग (A) का दर्जा देना। छेड़छाड़ या यौन हिंसा का (B) करने पर कई लड़कियों पर तेजाब फेंकने की घटनाएं अक्सर सुनने में आती हैं। इससे महिला के प्राण तो नहीं जाते, लेकिन (C) और विकृति की वजह से उसका पूरा जीवन कष्टमय हो जाता है। इसके अलावा 'स्टॉकिंग' या लगातार पीछा करने को भी अलग अपराध का दर्जा दिया जाएगा। स्टॉकिंग भी एक ऐसा अपराध है, जिससे किसी (D) का जीना दूभर हो जाता है और कानून से ज्यादा (E) नहीं मिल पाती। जब कोई स्टॉकर कोई बड़ा अपराध करता है, तब उसे (F) से लिया जाता है, लेकिन तब तक इस अपराध की (G) बहुत तकलीफ भुगत चुकती है। कभी-कभी तो बहुत देर हो जाती है। दिल्ली के चर्चित प्रियदर्शिनी मट्टू कांड में प्रियदर्शिनी की हत्या के बाद ही अपराधी को (H) दी जा सकी। ये परिवर्तन बहुत अच्छे हैं, पर जरूरी है कि पुलिस, न्यायपालिका का समाज में (I) बढ़े। अक्सर यौन अपराध के शिकारों को न्याय पाने की कोशिश में जो जिल्लत और संवेदनहीनता झेलनी पड़ती है, वह उनकी तकलीफ को कई गुना बढ़ा देती है। कानूनी परिवर्तन के साथ ही समाज, सरकार व अन्य संस्थानों के सोचने के तरीके में भी (J) आना जरूरी है।

**Q-151** Choose the correct option for (A).

**eng**

01. threatened

02. prescribed

04. finalized

03. described

05. monitored

**Q-151** (A) के लिये सही विकल्प का चयन करें।

hi

01. अपराध

02. अधिकार

03. उपयुक्त

04. अधीनता

05. आकार

### Solution for Question 151

Ans Key: 1

eng

**For other options:**

Prescribe (v)- To set down as a rule or guide

Shock (v)- startle

Monitore (v)- watch carefully

**Q-152** Choose the correct option for (B).

eng

01. turnover

02. motivation

03. system

04. royalties

05. termination

**Q-152** (B) के लिये सही विकल्प का चयन करें।

hi

01. विकास

02. व्यवस्थित

03. व्यभिचार

04. विरोध

05. समर्थन

### Solution for Question 152

Ans Key: 4

eng

**For other options:**

Turnover (n)- coup, innovation, insurgency

**Q-153** Choose the correct option for (C).

eng

01. trade

02. feud

03. wealth

04. banking

05. nuclear

**Q-153** (C) के लिये सही विकल्प का चयन करें।

hi

01. विपुलता

02. विद्रुपता

03. व्यवस्था

04. विषमता

05. व्यवधान

### Solution for Question 153

Ans Key: 2

eng

Feud (v)- quarrel, fight, argue, bicker

**Q-154** Choose the correct option for (D).

eng

01. income

02. flow

03. story

04. value

05. multitude

**Q-154** (D) के लिये सही विकल्प का चयन करें।

hi

01. पुरुष

02. मजदूर

03. महिला

04. युवा

05. गरीब

### Solution for Question 154

Ans Key: 3

eng

**For other options:**

Multitude (n)- large group

**Q-155** Choose the correct option for (E).

eng

01. at  
03. by  
05. in  
Q-155 (E) के लिये सही विकल्प का चयन करें।

02. with  
04. for

hi

01. समर्थन  
03. सलाह  
05. लाभ  
02. आशा  
04. मदद

Solution for Question 155 Ans Key: 4

eng As per the sense of the passage, 'for' is correct.

hi afford

Q-156 Choose the correct option for (F).

eng

01. generated  
03. considered  
05. needed  
Q-156 (F) के लिये सही विकल्प का चयन करें।

02. volunteered  
04. checked

hi

01. इच्छा  
03. सम्मान  
05. गंभीरता  
02. आशा  
04. अधीनता

Solution for Question 156 Ans Key: 5

eng For other options-  
Volunteer (v)- work for an organization without being paid.

Q-157 Choose the correct option for (G).

eng

01. definitely  
03. previously  
05. dubiously  
Q-157 (G) के लिये सही विकल्प का चयन करें।

02. curiously  
04. shortly

hi

01. शिकार  
03. सम्मानित  
05. सभ्य  
02. सुधरी  
04. शिक्षित

Solution for Question 157 Ans Key: 1

eng For other options:  
Dubiously (adverb)- doubtfully

Q-158 Choose the correct option for (H).

eng

01. unfortunate  
03. misfortune  
05. revolution  
Q-158 (H) के लिये सही विकल्प का चयन करें।

02. production  
04. contamination

hi

01. सफाई  
03. सहायता  
05. सम्पूर्णता  
02. सजा  
04. सफलता

Solution for Question 158 Ans Key: 2

eng For other options:

**Q-159** Choose the correct option for (I).

eng

- |               |             |
|---------------|-------------|
| 01. largely   | 02. changes |
| 03. full      | 04. refuted |
| 05. unchanged |             |

**Q-159** (I) के लिये सही विकल्प का चयन करें।

hi

- |                 |                  |
|-----------------|------------------|
| 01. सहयोग       | 02. असंवेदनशीलता |
| 03. असहयोग      | 04. सावधानी      |
| 05. संवेदनशीलता |                  |

**Solution for Question 159**

Ans Key: 5

eng

For other options-  
Refute (v)- prove (a statement or theory) to be wrong or false; disprove.

**Q-160** Choose the correct option for (J).

eng

- |               |               |
|---------------|---------------|
| 01. profound  | 02. found     |
| 03. predicted | 04. dedicated |
| 05. preferred |               |

**Q-160** (J) के लिये सही विकल्प का चयन करें।

hi

- |              |               |
|--------------|---------------|
| 01. चढ़ाव    | 02. अभिमान    |
| 03. परिवर्तन | 04. प्रगाढ़ता |
| 05. बदलाव    |               |

**Solution for Question 160**

Ans Key: 3

eng

For other options:  
Profound (adj.)- intellectual

**Q-161** Which key deletes the character to the right of the cursor?

eng

- |                   |            |
|-------------------|------------|
| 01. Backspace     | 02. Delete |
| 03. End           | 04. Home   |
| 05. None of these |            |

**Q-161** कौन सी कुंजी करेक्टर को कर्सर के दाहिने से मिटाती है?

hi

- |                       |           |
|-----------------------|-----------|
| 01. बैकस्पेस          | 02. डिलीट |
| 03. इण्ड              | 04. होम   |
| 05. इनमें से कोई नहीं |           |

**Solution for Question 161**

Ans Key: 2

eng

Delete key deletes the character to the right of the cursor.

hi

डिलीट कुंजी करेक्टर को कर्सर के दाहिने से मिटाती है।

**Q-162** What should be used if a company wants to include its company name and logo at the bottom of every page of a brochure?

eng

- |                   |              |
|-------------------|--------------|
| 01. Header        | 02. Macro    |
| 03. Footer        | 04. Footnote |
| 05. None of these |              |

**Q-162** क्या प्रयोग किया जाना चाहिए यदि एक कंपनी अपनी कंपनी का नाम और 'लोगो' को एक ब्राउचर के प्रत्येक पृष्ठ के तल पर शामिल करना चाहती है ?

hi

- |          |            |
|----------|------------|
| 01. हेडर | 02. मैक्रो |
| 03. फूटर | 04. फूटनोट |

05. इनमें से कोई नहीं

## Solution for Question 162

Ans Key: 3

**eng** Footer add text or logo in bottom of every page.

**hi** फुटर प्रत्येक पेज के नीचे टेक्स्ट या लोगो जोड़ता है।

**Q-163** \_\_\_\_\_ is an event-driven programming language developed in the early 1990.

**eng**

- |                   |                  |
|-------------------|------------------|
| 01. C             | 02. Visual Basic |
| 03. C++           | 04. Pascal       |
| 05. None of these |                  |

**Q-163** ----- एक इवेंट ड्रिवेन प्रोग्रामिंग भाषा है जो 1990 में विकसित की गयी है।

**hi**

- |                       |                  |
|-----------------------|------------------|
| 01. C                 | 02. विजुअल बेसिक |
| 03. C++               | 04. पास्कल       |
| 05. इनमें से कोई नहीं |                  |

## Solution for Question 163

Ans Key: 2

**eng** Visual Basic is an event – driven programming language.

**hi** विजुअल बेसिक एक इवेंट ड्राइवेन प्रोग्रामिंग भाषा है।

**Q-164** Linux is a \_\_\_\_\_

**eng**

- |   |                                |
|---|--------------------------------|
| 01. Utility program for peer-to-peer file sharing | 02. Real-time operating system |
| 03. Network operating system                      | 04. PDA platform               |
| 05. None of these                                 |                                |

**Q-164** लिनक्स एक-----है।

**hi**

- |   |                               |
|---|-------------------------------|
| 01. पीयर टू पीयर फाइल साझा करने के लिए यूटीलिटी प्रोग्राम | 02. रियल टाइम ऑपरेटिंग सिस्टम |
| 03. नेटवर्क ऑपरेटिंग सिस्टम                               | 04. पीडीए प्लेटफॉर्म          |
| 05. इनमें से कोई नहीं                                     |                               |

## Solution for Question 164

Ans Key: 2

**eng** Linux is a real time operating system.

**hi** लिनक्स एक रियल टाइम ऑपरेटिंग सिस्टम है।

**Q-165** The \_\_\_\_\_ computer runs the front-end applications software in a network.

**eng**

- |                   |              |
|-------------------|--------------|
| 01. Client        | 02. Database |
| 03. Server        | 04. CPU      |
| 05. None of these |              |

**Q-165** -----कम्प्यूटर नेटवर्क में फ्रन्ट इन्ड ऐप्लीकेशन सॉफ्टवेयर चलाता है।

**hi**

- |                       |             |
|-----------------------|-------------|
| 01. क्लाइन्ट          | 02. डाटाबेस |
| 03. सर्वर             | 04. सीपीयू  |
| 05. इनमें से कोई नहीं |             |

## Solution for Question 165

Ans Key: 1

**eng** Client computer runs the front end application software and server computer runs the back end software.

**hi** क्लाइंट कम्प्यूटर फ्रंट इण्ड एप्लिकेशन सॉफ्टवेयर रन करते हैं और सर्वर बैक इण्ड सॉफ्टवेयर रन करते हैं।

**Q-166** Which of the following is used for close a tab on a browser?

**eng**

- |                   |              |
|-------------------|--------------|
| 01. Ctrl + T      | 02. Ctrl + W |
| 03. Ctrl + A      | 04. Ctrl + Y |
| 05. None of these |              |



**Q-166** निम्न में से कौन ब्राउजर पर टैब को बन्द करने लिए प्रयोग किया जाता है?

hi

01. Ctrl + T

02. Ctrl + W
03. Ctrl + A

04. Ctrl + Y
05. इनमें से कोई नहीं

**Solution for Question 166**

Ans Key: 2

eng Ctrl+W is used for close a tab on a browser.

hi Ctrl+W ब्राउजर पर टैब को बंद करने के लिये प्रयोग किया जाता है।

**Q-167** Each computer in \_\_\_\_\_ is also identified by a IP Address which is unique among the computers in that \_\_\_\_\_.

eng

01. Internet

02. Intranet
03. Extranet

04. Ethernet
05. None of these

**Q-167** -----में प्रत्येक कंप्यूटर एक आईपी एड्रेस द्वारा पहचाना जाता है जो उस-----में कंप्यूटर के लिए यूनिक होता है।

hi

01. इंटरनेट

02. इंट्रानेट
03. एक्स्ट्रानेट

04. ईथरनेट
05. इनमें से कोई नहीं

**Solution for Question 167**

Ans Key: 2

eng Each computer in intranet is also identified by a IP Address which is unique among the computers in that intranet.

hi इंट्रानेट में प्रत्येक कंप्यूटर को उसके प्व् एड्रेस द्वारा पहँचाया जाता है जो उस इंट्रोनेट में यूनिक होता है।

**Q-168** Which of the following displays the list of websites visited by you in last few days ?

eng

01. Status bar

02. Task bar
03. History list

04. Tool bar
05. None of these

**Q-168** निम्न में से कौन सा, पिछले कुछ दिनों में आपके द्वारा देखी गई वेबसाइटों की सूची प्रदर्शित करता है ?

hi

01. स्टेटस बार

02. टास्क बार
03. हिस्ट्री लिस्ट

04. टूल बार
05. इनमें से कोई नहीं

**Solution for Question 168**

Ans Key: 3

eng History List displays the list of websites visited by you in last few days.

hi हिस्ट्री लिस्ट, कुछ दिनों में विजिट किये हुए वेबसाइटों की लिस्ट प्रदर्शित करता है।

**Q-169** In the original ARPANET, \_\_\_\_\_ were directly connected together.

eng

01. IMPs

02. Host computers
03. Networks

04. Routers
05. None of these

**Q-169** मूल ARPANET में, ----- सीधे एक साथ जुड़े हुए थे।

hi

01. IMPs

02. होस्ट कंप्यूटर
03. नेटवर्क

04. राउटर्स
05. इनमें से कोई नहीं

**Solution for Question 169**

Ans Key: 1

eng In the original ARPANET, IMP(Interface Message Processor)were directly connected together.

hi मूल ARPANET में, IMP(Interface Message Processor) सीधे एक साथ जुड़े हुए थे।

**Q-170** Which is the valid data type in Access?

eng

- |                   |                      |
|-------------------|----------------------|
| 01. Text          | 02. Currency         |
| 03. Number        | 04. All of the above |
| 05. None of these |                      |

**Q-170** एक्सेस में कौन मान्य डाटा प्रकार है?

hi

- |                       |                 |
|-----------------------|-----------------|
| 01. टेक्स्ट           | 02. करेंसी      |
| 03. नम्बर             | 04. उपरोक्त सभी |
| 05. इनमें से कोई नहीं |                 |

**Q-171** A motherboard is a \_\_\_\_\_

eng

- |  |  |
|--|--|
| 01. central chip that processes instructions       | 02. permanent storage device                 |
| 03. case containing all internal system components | 04. circuit board containing the CPU and RAM |
| 05. None of these                                  |  |

**Q-171** एक मदरबोर्ड ----- होता है।

hi

- |  |                                      |
|--|--------------------------------------|
| 01. सेन्ट्रल चिप जो इन्स्ट्रक्शन्स प्रासेस करती है | 02. स्थायी स्टोरेज डिवाइस            |
| 03. सभी आंतरिक सिस्टम उपकरणों से युक्त केस         | 04. सीपीयू और रैम युक्त सर्किट बोर्ड |
| 05. इनमें से कोई नहीं                              |                                      |

#### Solution for Question 171

Ans Key: 4

**eng** A motherboard is a circuit board containing the CPU and RAM.

**hi** एक मदरबोर्ड सीपीयू और रैम युक्त एक सर्किट बोर्ड है।

**Q-172** A stylus would most likely be used with a \_\_\_\_\_

eng

- |                   |                    |
|-------------------|--------------------|
| 01. PDA           | 02. Mouse pad      |
| 03. Trackball     | 04. Digital camera |
| 05. None of these |                    |

**Q-172** एक स्टाइलस सबसे अधिक संभावित रूप से ----- के साथ उपयोग किया जाता है।

hi

- |                       |                  |
|-----------------------|------------------|
| 01. पीडीए             | 02. माउस पैड     |
| 03. ट्रैकबॉल          | 04. डिजिटल कैमरा |
| 05. इनमें से कोई नहीं |                  |

#### Solution for Question 172

Ans Key: 1

**eng** A stylus would most likely be used with a PDA.

**hi** एक स्टाइलस की सबसे अधिक संभावना है कि वह पीडीए के साथ उपयोग किया जा सकता है।

**Q-173** Which of the following is a read only memory storage device?

eng

- |                   |                      |
|-------------------|----------------------|
| 01. CDROM         | 02. Floppy Disk      |
| 03. Hard Disk     | 04. All of the above |
| 05. None of these |                      |

**Q-173** निम्न में से कौन रीड ओनली मेमोरी स्टोरेज डिवाइस है?

hi

- |                       |                  |
|-----------------------|------------------|
| 01. सीडी रोम          | 02. फ्लॉपी डिस्क |
| 03. हार्ड डिस्क       | 04. उपरोक्त सभी  |
| 05. इनमें से कोई नहीं |                  |

#### Solution for Question 173

Ans Key: 1

**eng** CDROM is a read only memory storage device.

**hi** सीडी रोम रीड ओनली मेमोरी स्टोरेज डिवाइस है।

**Q-174** What is the short cut key to highlight the entire column in MS-Excel?

eng

01. Ctrl +Page Up
02. Ctrl +C
03. Ctrl +Space Bar
04. Ctrl +Enter
05. None of these

**Q-174** एमएस एक्सेल में संपूर्ण कॉलम को हाईलाइट करने के लिए शॉर्टकट कुंजी क्या है?

hi

01. Ctrl +Page Up
02. Ctrl + C
03. Ctrl +Space Bar
04. Ctrl + Enter
05. इनमें से कोई नहीं

#### Solution for Question 174

Ans Key: 3

**eng** Ctrl +Space bar is the short cut key to highlight the entire column in MS-Excel.

**hi** Ctrl + Space bar एमएस एक्सेल में संपूर्ण कॉलम को हाईलाइट करने के लिए शॉर्टकट कुंजी है।

**Q-175** Which of the following is a programming language?

eng

01. MS-Excel
02. Lotus
03. Netscape
04. Pascal
05. None of these

**Q-175** निम्न में से कौन सी एक प्रोग्रामिंग भाषा है?

hi

01. एमएस एक्सेल
02. लोटस
03. नेटस्केप
04. पास्कल
05. इनमें से कोई नहीं

#### Solution for Question 175

Ans Key: 4

**eng** Pascal is a programming language.

**hi** पास्कल एक प्रोग्रामिंग भाषा है।

**Q-176** In a database, a field is a -----.

eng

01. Lable
02. Table of information
03. Group of related records
04. Category of information
05. None of these

**Q-176** डेटाबेस में, फील्ड एक-----है।

hi

01. लेबल
02. टेबल ऑफ इंफॉर्मेशन
03. संबंधित रिकॉर्ड्स का समूह
04. इंफॉर्मेशन की श्रेणी
05. इनमें से कोई नहीं

#### Solution for Question 176

Ans Key: 4

**eng** Database field is a category of information.

**hi** डाटाबेस में फील्ड सम्बन्धित रिकॉर्ड के समूह को दर्शाता है।

**Q-177** A fault in a computer program which prevents it from working correctly is known as -----.

eng

01. Boot
02. Bug
03. Biff
04. Strap
05. None of these

**Q-177** कम्प्यूटर प्रोग्राम में एक दोष जो उसे सही ढंग से कार्य करने से रोकता है, उसे ----- कहते हैं।

hi

01. बूट
02. बग
03. बिफ
04. स्ट्रेप
05. इनमें से कोई नहीं

#### Solution for Question 177

Ans Key: 2

**eng** A fault in a computer program that prevents it from working correctly is known as Bug.

hi	कम्प्यूटर प्रोग्राम में एक फॉल्ट जो टास्क को सही ढंग से कार्य करने से रोकता है।
----	---

**Q-178** A set of step-by-step procedures for accomplishing a task is known as a(n) -----.

eng

- |                   |                      |
|-------------------|----------------------|
| 01. algorithm     | 02. hardware program |
| 03. software bug  | 04. firmware program |
| 05. None of these |                      |

**Q-178** किसी कार्य को पूरा करने के लिए स्टेप बाई स्टेप प्रक्रिया का एक सेट----- के रूप में जाना जाता है।

hi

- |                       |                         |
|-----------------------|-------------------------|
| 01. एल्गोरिथ्म        | 02. हार्डवेयर प्रोग्राम |
| 03. सॉफ्टवेयर बग      | 04. फर्मवेयर प्रोग्राम  |
| 05. इनमें से कोई नहीं |                         |

**Solution for Question 178** Ans Key: 1

eng Algorithm is a step by step solution of any problem.

hi एल्गोरिथ्म किसी भी समस्या का स्टेप बाई स्टेप हल है।

**Q-179** The main directory of a disk is called the. ....directory.

eng

- |                   |             |
|-------------------|-------------|
| 01. root          | 02. sub     |
| 03. folder        | 04. network |
| 05. None of these |             |

**Q-179** डिस्क की मेन डायरेक्टरी को -----डायरेक्टरी कहा जाता है।

hi

- |                       |             |
|-----------------------|-------------|
| 01. रूट               | 02. सब      |
| 03. फोल्डर            | 04. नेटवर्क |
| 05. इनमें से कोई नहीं |             |

**Solution for Question 179** Ans Key: 1

eng Main directory is known as root directory.

hi मेन डायरेक्टरी रूट डायरेक्टरी कहलाती है।

**Q-180** A.....is a collection of data that is stored electronically as a series of records in a table.

eng

- |                   |                  |
|-------------------|------------------|
| 01. spreadsheet   | 02. presentation |
| 03. database      | 04. web page     |
| 05. None of these |                  |

**Q-180** ----- एक डाटा का एक संग्रह है जो तालिका में रिकॉर्ड की एक श्रृंखला के रूप में इलेक्ट्रॉनिक तरीके से संग्रहीत किया जाता है।

hi

- |                       |                 |
|-----------------------|-----------------|
| 01. स्प्रेडशीट        | 02. प्रजेन्टेशन |
| 03. डाटाबेस           | 04. वेब पेज     |
| 05. इनमें से कोई नहीं |                 |

**Solution for Question 180** Ans Key: 3

eng Data base is a collection of data stored in electronically table.

hi डाटा बेस इलेक्ट्रॉनिक टेबल में स्टोर डाटा का संग्रह होता है।

**Q-181** When you create documents, graphs and pictures your computer holds the data in—

eng

- |                   |                  |
|-------------------|------------------|
| 01. Restore file  | 02. Backup drive |
| 03. Clip board    | 04. Memory       |
| 05. None of these |                  |

**Q-181** जब आप डॉक्युमेन्ट, ग्राफ और चित्र बनाते हैं तब आपका कंप्यूटर----- में डाटा धारण करता है।

hi

- |                  |                  |
|------------------|------------------|
| 01. फाइल रिस्टोर | 02. बैकअप ड्राइव |
| 03. क्लिप बोर्ड  | 04. मेमोरी       |

05. इनमें से कोई नहीं

### Solution for Question 181

Ans Key: 4

**eng** Memory hold the document, graphs and pictures created by user.

**hi** यूजर के द्वारा बनाये गये डॉक्युमेंट, ग्राफ तथा पिक्चर आदि मेमोरी होल्ड करती है।

**Q-182** All are included in removable media except the—

**eng**

- |                   |                     |
|-------------------|---------------------|
| 01. CD-ROMs       | 02. Diskette        |
| 03. DVDs          | 04. Hard disk drive |
| 05. None of these |                     |

**Q-182** ----- को छोड़कर सभी रिमूवबल मीडिया में शामिल हैं।

**hi**

- |                       |                        |
|-----------------------|------------------------|
| 01. CD-ROM            | 02. डिस्कट             |
| 03. डीवीडी            | 04. हार्ड डिस्क ड्राइव |
| 05. इनमें से कोई नहीं |                        |

### Solution for Question 182

Ans Key: 4

**eng** Hard disk drive is not a removable media.

**hi** हार्डडिस्क रिमूवबल मीडिया नहीं है।

**Q-183** The CPU and memory are located on the -----.

**eng**

- |                     |                   |
|---------------------|-------------------|
| 01. expansion board | 02. motherboard   |
| 03. storage device  | 04. output device |
| 05. display board   |                   |

**Q-183** CPU और मेमोरी----- पर स्थित हैं।

**hi**

- |                      |                   |
|----------------------|-------------------|
| 01. एक्सपैन्सन बोर्ड | 02. मदरबोर्ड      |
| 03. स्टोरेज डिवाइस   | 04. आउटपुट डिवाइस |
| 05. डिस्प्ले बोर्ड   |                   |

### Solution for Question 183

Ans Key: 2

**eng** CPU and Memory are located on the Motherboard.

**hi** CPU और मेमोरी मदरबोर्ड पर होते हैं।

**Q-184** A letter, memo, proposal or other file that is created using Microsoft Word is called as---

**eng**

- |                   |               |
|-------------------|---------------|
| 01. Master        | 02. Slide     |
| 03. Document      | 04. Worksheet |
| 05. None of these |               |

**Q-184** एक पत्र, मेमो, प्रपोजल या अन्य फाइल जो माइक्रोसॉफ्ट वर्ड का उपयोग कर बनायी गयी है----- कहा जाता है।

**hi**

- |                       |             |
|-----------------------|-------------|
| 01. मास्टर            | 02. स्लाइड  |
| 03. डॉक्युमेंट        | 04. वर्कशीट |
| 05. इनमें से कोई नहीं |             |

### Solution for Question 184

Ans Key: 3

**eng** A letter, memo or other file created by MS word is known as document.

**hi** लेटर, मेमो या दूसरी फाइलें जो एम एस वर्ड द्वारा बनाई गयी हैं, डॉक्युमेंट कहलाती है।

**Q-185** Which of the following are parts of the CPU?

**eng**

- |                      |                  |
|----------------------|------------------|
| 01. Secondary Memory | 02. Control unit |
| 03. Input device     | 04. Printer      |
| 05. None of these    |                  |

**Q-185** निम्न में से कौन सा सीपीयू का हिस्सा है?

- |                       |                   |
|-----------------------|-------------------|
| 01. सेकेण्डरी मेमोरी  | 02. कंट्रोल यूनिट |
| 03. इनपुट डिवाइस      | 04. प्रिन्टर      |
| 05. इनमें से कोई नहीं |                   |

**Solution for Question 185**

Ans Key: 2

eng Contol unit is a part of CPU.

Q-186 Which is not the portable computer?

eng

- |                      |                        |
|----------------------|------------------------|
| 01. Micro-processor  | 02. Calculator         |
| 03. Series Computers | 04. Parallel Computers |
| 05. None of these    |                        |

Q-186 कौन पोर्टेबल कंप्यूटर नहीं है?

hi

- |                       |                    |
|-----------------------|--------------------|
| 01. माइक्रो प्रोसेसर  | 02. कैलकुलेटर      |
| 03. सीरीज कंप्यूटर    | 04. पैरलल कंप्यूटर |
| 05. इनमें से कोई नहीं |                    |

**Solution for Question 186**

Ans Key: 3

eng Series computer are not portable.

Q-187 Which of the following statement is false?

eng

- |   |  |
|---|--|
| 01. You can set different header footer for even and odd pages      | 02. You can set different page number formats for different sections   |
| 03. You can set different header footer for first page of a section | 04. You can set different header and footer for last page of a section |
| 05. None of these   |  |

Q-187 निम्नलिखित में से कौन सा कथन गलत है?

hi

- |  |   |
|--|---|
| 01. आप सम और विषम पृष्ठों के लिए अलग हेडर फूटर सेट कर सकते हैं | 02. आप अलग अलग वर्गों के लिए अलग पृष्ठ नम्बर फॉरमेट सेट कर सकते हैं |
| 03. आप सेक्सन के पहले पेज के लिए अलग हेडर फूटर सेट कर सकते हैं | 04. आप सेक्सन के अन्तिम पेज के लिए अलग हेडर और फूटर सेट कर सकते हैं |
| 05. इनमें से कोई नहीं  |   |

Q-188 \_\_\_\_\_ shortcut key is used for Bold highlighted selection.

eng

- |                   |              |
|-------------------|--------------|
| 01. Ctrl + B      | 02. Ctrl + A |
| 03. Ctrl + C      | 04. Ctrl + Z |
| 05. None of these |              |

Q-188 ----- शॉर्टकट कुंजी का प्रयोग हाइलाइट सलेक्शन को बोल्ड के लिए किया जाता है।

hi

- |                       |              |
|-----------------------|--------------|
| 01. Ctrl + B          | 02. Ctrl + A |
| 03. Ctrl + C          | 04. Ctrl + Z |
| 05. इनमें से कोई नहीं |              |

**Solution for Question 188**

Ans Key: 1

eng Ctrl + B shortcut key is used for bold highlighted selection.

hi Ctrl + B शॉर्टकट कुंजी का प्रयोग हाइलाइट सलेक्शन को बोल्ड करने के लिए किया जाता है।

Q-189 Other folders, named subfolders, can remain in the folders while creating hierarchical structure—

eng

- |                   |                  |
|-------------------|------------------|
| 01. Mini folder   | 02. Tread folder |
| 03. Subfolders    | 04. Object       |
| 05. None of these |                  |

**Q-189** हाइररिचिकल स्ट्रक्चर ----- का निर्माण करते समय अन्य फोल्डर, नामित सबफोल्डर फोल्डर में ही रह सकते हैं।

hi

01. मिनी फोल्डर

02. ट्रेड फोल्डर
03. सब फोल्डर

04. ऑब्जेक्ट
05. इनमें से कोई नहीं

**Solution for Question 189**

Ans Key: 3

eng Other folders, named subfolders, can remain in the folders while creating hierarchical structure subfolders.

hi हाइररिचिकल स्ट्रक्चर का निर्माण करते समय अन्य फोल्डर, नामित सबफोल्डर, फोल्डर में ही रह सकते हैं।

**Q-190** The following are included in the word program. ....Title Bar, Ribbon, Status Bar, Views, Document workspace.

eng

01. Window

02. Browser
03. Explorer

04. Website
05. None of these

**Q-190** टाइटल बार, रिबन, स्टेटस बार, व्यू, डॉक्युमेंट वर्कस्पेस -----वर्ड प्रोग्राम में शामिल किए गए हैं।

hi

01. विंडोज

02. ब्राउजर
03. एक्सप्लोरर

04. वेबसाइट
05. इनमें से कोई नहीं

**Solution for Question 190**

Ans Key: 1

eng ????? ???, ???? ,?????? ??, ???? ,???????????? ???? ?????, ????? ???? ????????? ???? ????? ???? ?? ???? ?

hi The word program Window included Title Bar, Ribbon, Status Bar, Views, Document workspace.

**Q-191** Which topology requires a multipoint connection?

eng

01. Mesh

02. Star
03. Bus

04. Ring
05. None of these

**Q-191** किस टोपोलॉजी में एक मल्टी प्वाइंट कनेक्शन की आवश्यकता होती है?

hi

01. मेस

02. स्टार
03. बस

04. रिंग
05. इनमें से कोई नहीं

**Solution for Question 191**

Ans Key: 2

eng Star topology requires a multipoint connection.

hi स्टार टोपोलॉजी में एक मल्टी प्वाइंट कनेक्शन की आवश्यकता होती है।

**Q-192** A ..... is an additional set of commands that the computer displays after you make a selection from the main menu

eng

01. dialog box

02. submenu
03. menu selection

04. All of the above
05. None of these

**Q-192** एक ..... ऑर्डरों का एक अतिरिक्त सेट है जो मुख्य मेनू से चयन करने के बाद कंप्यूटर प्रदर्शित करता है।

hi

01. डायलॉग बॉक्स

02. सबमेनू
03. मेनू चयन

04. उपरोक्त सभी
05. इनमें से कोई नहीं

**Solution for Question 192**

Ans Key: 1

eng dialog box

hi डायलॉग बॉक्स

**Q-193** To delete and embed an object, first

eng



01. Double click the object
02. Select the object by clicking it
03. Press the Shift + Delete keys
04. Select it and then press Delete key
05. None of these

**Q-193** एक ऑब्जेक्ट को हटाने और एम्बेडेड करने के लिए, पहले-

hi

01. ऑब्जेक्ट पर डबल क्लिक करें
02. क्लिक करके ऑब्जेक्ट का चयन करें
03. Shift + Delete कुंजी दबायें
04. इसे चयन करें और फिर डिलीट कुंजी दबाएँ
05. इनमें से कोई नहीं

#### Solution for Question 193

Ans Key: 4

eng

To delete and embed an object, first select it and then press delete key.

hi

ऑब्जेक्ट को हटाने और एम्बेडेड करने के लिए, पहले इसे चयन करें और फिर डिलीट कुंजी दबाएँ।

**Q-194** Which language does MS-Word use to create Macros?

eng

01. Visual C++
02. FoxPro
03. Access
04. Visual Basic
05. None of these

**Q-194** कौन सी भाषा एमएस वर्ड मैक्रो बनाने के लिए उपयोग करता है?

hi

01. विजुअल C++
02. फॉक्सप्रो
03. एक्सेस
04. विजुअल बेसिक
05. इनमें से कोई नहीं

**Q-195** The communication mode that supports two-way traffic but only one direction at a time, it is -----.

eng

01. Simplex
02. half duplex
03. duplex
04. multiplex
05. All of the above

**Q-195** एक कम्युनिकेशन माध्यम जो एक समय में दू वे ट्रेफिक लेकिन केवल एक ही दिशा में समर्थन करता है वह ----- होता है।

hi

01. सिंप्लेक्स
02. हॉफ डुप्लेक्स
03. डुप्लेक्स
04. मल्टीप्लेक्स
05. उपरोक्त सभी

#### Solution for Question 195

Ans Key: 2

eng

The communication mode that supports two-way traffic but only one direction at a time is known as half duplex.

hi

एक कम्युनिकेशन माध्यम जो एक समय में दू वे ट्रेफिक लेकिन केवल एक ही दिशा में समर्थन करता है, हाफ डुप्लेक्स कहलाता है।

**Q-196** \_\_\_\_\_ was the first network.

eng

01. CSNET
02. NSFNET
03. ANSNET
04. Rpanet
05. None of these

**Q-196** ----- पहला नेटवर्क था।

hi

01. CSNET
02. NSFNET
03. ANSNET
04. ARPANET
05. इनमें से कोई नहीं

#### Solution for Question 196

Ans Key: 4

eng

ARPANET was the first network.

hi

ARPANET पहला नेटवर्क था।

**Q-197** How can you make the selected character superscripted?

eng

01. रजिस्टर  
02. फ्लिप फ्लॉप  
03. इन्डक्टर  
04. कैपेसिटर  
05. इनमें से कोई नहीं

eng	In a computer, flip flop is capable to store single binary bit.
hi	एक कंप्यूटर में फ्लिप फ्लॉप सिंगल बाइनेरी बिट स्टोर करने के लिए सक्षम है।

